

NORTH-EX PUBLIC SCHOOL
(Senior Secondary, Affiliated To CBSE)
School Block, Jain Nagar, Sector-38, Rohini, Delhi – 81
Half yearly Examination (2023-2024)
CLASS –V
Subject- ENGLISH

Time - 2 hours

MM-50 marks

Name _____

Roll No. _____

Class & Section _____

Date _____

Day _____

Sign. Of invigilator _____

Sign. Of checker _____

General instructions:-

- Read each questions carefully and follow the instructions.
- Attempt all questions compulsory.
- This paper contains 4 sections: - Section-A, Section-B, Section-C, section-D

SECTION -A

Q-1 Read the following unseen passage and chooses the correct answers. (5)

Dogs are very clever and intelligent animals. Dogs are also used to detect explosives due to their high-smelling ability. Their hearing power is five times more than that of humans. Dogs are deaf, blind, and toothless when they are born. They like to live in groups, but some prefer to live alone. The breed of dog Alaskan malamute has the ability to withstand temperatures up to -70 degrees. Dogs have many body colours. Mostly we see white, brown, and black dogs.

Choose the correct answer:-

1. Dogs are born
 - a) With no ears
 - b) With no mind
 - c) With no teeth
 - d) None of the above
2. Breed Alaskan malamute can bear temperatures up to
 - a) -75 degrees
 - b) -65 degrees
 - c) -72 degrees
 - d) -70 degrees
3. Mostly we see dogs in
 - a) Brown and white colour
 - b) Black and Yellow colour
 - c) Blue and black colour
 - d) White and red colour
4. Dogs' hearing power is
 - a) Six times more than human
 - b) Four times more than human
 - c) Five times more than human
 - d) Three times more than human

5. Dogs are also used to detect explosives

- a) Due to more intelligence
- b) Due to their high-smelling ability
- c) Due to being clever
- d) None of the above

Q-2 Read the following unseen passage and answer the following question. (5)

Geeta ma'am is a yoga teacher in my school. She is very pretty and speaks very slowly. Her period is the last in our class. Once she told us about her daily routine in class. She said, "She gets up at 5:30 o'clock in the morning and does Yoga for at least an hour, then takes coffee and gets ready for school." When someone asked about her bedtime, she said, "She goes to sleep at 9 o'clock every day so that she can wake up early in the morning." She always advises us to wake up early in the morning and do yoga.

Answer the following question :-

1. When does Geeta ma'am get up in the morning?

2. Why does she sleep at 9 o'clock?

3. For how many hours does she do Yoga?

4. Does she speak fast or slowly?

5. What advice does she always give us?

SECTION -B GRAMMAR

Q-3 Identify the parts of speech. (1)

- 1. Vihaan is coming today. _____
- 1. My Mom will be leaving to Mumbai. _____

Q-4 Circle the main verb. (1)

- 1. I can ride a bike.
- 2. Priya is listening music.

Q-5 Change each of these sentences into negative sentences. (1)

1. Radhika is having breakfast.

2. The baby is sleeping.

Q-6 Fill in the blanks with FOR or SINCE. (1)

1. Ms. Rao has been teacher _____ 2005.

2. Monika has read eleven books _____ eight hours.

Q-7 Write the feminine gender. (1)

1. Sir - _____

2. Tiger - _____

Q-8 Write T for True or F for False :- (1)

1. A sentence always ends with a full stop. []

2. An exclamatory sentences shows excitement. []

Q-9 Fill in the blanks with the present continuous tense the verbs given in the brackets. (2)

1. Ratan _____ his home work. (Do)

2. My brother _____ for Pune tomorrow. (Leave)

Q-10 Rewrite these sentences by placing the adverbs in the correct places. (2)

1. He reads a book. (sometimes)

2. I don't wear black in summer. (normally)

SECTION -C LITERATURE

Q-11 Write meanings of the following words. (3)

1. Store - _____

2. Gentle - _____

3. Meagre - _____

Q-12 Answer these questions.

(6)

1. How much money does the speaker wish she had?

2. Where did Saru live?

3. Why did the little old woman stay in a shoe house?

4. Where did Zhoshu stop for the night?

Q-13 R.T.C.

(3)

"I FOUND IT IN MY OWN HANDS "

1. Who is the speaker?

2. What had the speaker found?

Q-14 Read the given passage and answers the following question.

(4)

Mangu is Saru's best friend but unlike her, he is timid and does not run about as much. Saru has three more friends who live in the cottage nearby. They are Hari, Manik and Ketki. There is a Mai; she is caretaker of the children.

QUESTIONS-

1. Who is the best friend of saru?

2. Who is Mai?

3. Write the meaning of Timid.

4. Where did Saru's three friends live?

Q-15 Look at the picture given below. Frame Four sentences

(4)



1. _____
2. _____
3. _____
4. _____

SECTION - D WRITING

Q-16 Write a paragraph on (attempt any one).

(5)

1. "Role of Technology".

OR

2. "Kedarnath Temple".

NORTH EX PUBLIC SCHOOL
(Senior Secondary, Affiliated to CBSE)
School Block, Jain Nagar, Sector-38 Rohini, Delhi-81
Half Yearly Examination (2023-24)
CLASS – V

हिन्दी

समय: 2 घंटा

अधिकतम अंक-50

नाम: _____

अनुक्रमांक: _____

कक्षा: _____

दिनांक: _____

दिन: _____

पर्यवेक्षक हस्ताक्षर: _____

परीक्षक हस्ताक्षर: _____

सामान्य निर्देश-

सभी प्रश्न के उत्तर लिखना अनिवार्य है।

इसके प्रश्न पत्र के चार खंड हैं- खंड-क, खंड-ख, खंड-ग और खंड-घ।

सभी प्रश्नों के अधिकतम अंक उनके सामने निर्दिष्ट हैं।

खंड-क में अपठित गद्यांश, खंड-ख में व्यावहारिक व्याकरण, खंड-ग में पाठ्यपुस्तक और खंड-घ में लेखन भाग से संबंधित प्रश्न पूछे गए हैं।

कार्य स्पष्टता से करें तथा लिखाई का ध्यान रखें।

खंड-क (अपठित गद्यांश)

प्रश्न-1 अपठित गद्यांश के आधार पर निम्न प्रश्नों के उत्तर दीजिए-

(5)

मनुष्य की विशेषता उसके चरित्र में है। चरित्र के कारण ही एक मनुष्य दूसरे से अधिक आदरणीय समझा जाता है। विद्या का मान सज्जन तभी करते हैं जब विद्यावान विनय एवं चरित्र से युक्त हो। विद्या, बल तथा पद होते हुए भी रावण अपने राक्षसी कर्म के कारण निंदनीय था। रावण विद्यावान होने पर भी वंदनीय नहीं बन पाया। मनुष्य का मूल्य उसके चरित्र में है। विनय, उदारता, लालच में न पड़ना, ईर्ष्या, सत्य-भाषण, वचन का प्रति पालन करना और कर्तव्य परायण ये सब गुण चरित्र में आते हैं।

1. मनुष्य की विशेषता किसमें है?

(क) उसके पद में

(ख) उसके धन में

(ग) उसके अच्छे विचारों में

(घ) उसके चरित्र में

2. मनुष्य का आदर किन कारणों से होता है?

(क) चरित्र के कारण

(ख) पद के कारण

(ग) विचार के कारण

(घ) तीनों विकल्प सही हैं

3. रावण निंदनीय क्यों था?

(क) विद्या के कारण

(ख) बल के कारण

(ग) पद के कारण

(घ) राक्षसी कर्म के कारण

4. चरित्र में कौन-कौन से गुण आते हैं?

(क) विनय और उदारता (ख) सत्य और चैर्य

(ग) कर्तव्य परायण (घ) उपरोक्त सभी

5. 'गुण' शब्द का विपरितार्थक शब्द है-

(क) निर्गुण (ख) अवगुण

(ग) सदगुण (घ) महागुण

प्रश्न-2 अपठित गद्यांश के आधार पर निम्न प्रश्नों के उत्तर दीजिए :-

(5)

मुस्कान हमारे दिमाग और शरीर के लिए सबसे अच्छा टॉनिक है। मुस्कुराने के लिए तेरह मांसपेशियों की आवश्यकता होती है, लेकिन क्रोधित होने के लिए तैंतालीस मांसपेशियों की। इसलिए, मुस्कुराना आसान है और गुस्सा करना मुश्किल है। प्रसन्न रहने के लिए हमें सकारात्मक विचार पैदा करने होंगे। दूसरी ओर, यदि हम लगातार नकारात्मक चीजों के बारे में सोचते हैं, तो हम दुखी महसूस करते हैं। इसलिए, किसी नकारात्मक विचार से बचने का सबसे अच्छा तरीका यह है कि उसे सकारात्मक विचार से बदल दिया जाए। जब हम बिस्तर पर आराम कर रहे हों तो हमें कुछ प्रसन्न विचार रखने का अभ्यास करना चाहिए।

1. हमारे दिमाग और शरीर के लिए सबसे अच्छा टॉनिक क्या है?

2. प्रसन्न रहने के लिए हमें क्या करना चाहिए?

3. किसी नकारात्मक विचार को बदलने का सबसे अच्छा तरीका क्या है?

4. जब हम लगातार नकारात्मक चीजों के बारे में सोचते हैं तो क्या होता है?

5. जब हम बिस्तर पर आराम कर रहे हों तो हमें क्या अभ्यास करना चाहिए?

खंड-ख (व्यावहारिक व्याकरण)

प्रश्न-3 रिक्त स्थान की पूर्ति कीजिए-

1. दाँत का तत्सम रूप _____ होता है।

2. गुरुमुखी _____ भाषा की लिपि है।

प्रश्न-4 निर्देशानुसार प्रश्नों के उत्तर दीजिए-

1. 'चघ' से दो शब्द बनाइए।

2. 'हाथ बँटाना' मुहावरे का अर्थ लिखिए।

प्रश्न-5 दिए गए शब्दों का लिंग बदलिए।

1. विद्वान - _____

2. पंडित - _____

प्रश्न-6 दिए गए शब्दों का वचन बदलिए।

(1)

1. कविता- _____

2. तितली- _____

(1)

प्रश्न-7 दिए गए शब्दों का अनेकार्थी लिखिए।

1. अंग- _____

2. योग- _____

(1)

प्रश्न-8 लोकोक्तिर्यों के अर्थ लिखिए।

1. एक अनार सौ बीमार

2. जल में रहकर मगर से बैर

(2)

प्रश्न-9 प्रश्नों के उत्तर दीजिए-

1. "उन्होंने गीता का उपदेश दिया।" संज्ञा शब्द छोटिए और भेद भी बताइए।

2. "जैसी करनी, वैसी भरनी।" सर्वनाम शब्द छोटिए और भेद भी बताइए।

(2)

प्रश्न-10 निर्देशानुसार प्रश्नों के उत्तर दीजिए।

1. "पता- पत्ता" भिन्नार्थक शब्द का अर्थ लिखिए और वाक्य में प्रयोग कीजिए।

2. "जो अधिक बोलता हो।" अनेक शब्दों के लिए एक शब्द में उत्तर दीजिए।

3. 'आयात' का विलोम शब्द लिखिए।

4. 'अमृत' के दो-दो पर्यायवाची लिखिए।

खंड- ग (पाठ्यपुस्तक)

(3)

प्रश्न-11 दिए गए शब्दों के अर्थ लिखिए-

1. अधिकांश- _____

2. मसक्कत- _____

3. करतब- _____

(6)

प्रश्न-12 दिए गए प्रश्नों के उत्तर दीजिए-

1. मिजोरम की भौगोलिक स्थिति कैसी है?

2. अमोला से मित्रता होने के बाद हवा क्या करती थी?

3. ग्रह और तारों में क्या अंतर होता है?

4. हमारा हिंदुस्तान कैसे बना है?

प्रश्न-13 दिए गए प्रश्नों में अपने विचारों को व्यक्त कीजिए-

(3)

1. धरती का हाल जानने के लिए आप क्या करेंगे?

2. बरगद ने पेड़ को दुनिया देखने के लिए मना क्यों किया होगा?

प्रश्न-14 चित्र को ध्यान पूर्वक देखिए और चार वाक्य लिखिए।

(4)



प्रश्न-15 दिए गए पंद्रह गद्यांश को ध्यानपूर्वक पढ़िए और प्रश्नों के उत्तर दीजिए :- (4)

पाँचवी कक्षा के अध्यापक मि. मैथ्यू अपने विद्यार्थियों को दिल्ली के प्रगति मैदान में लगने वाला अंतरराष्ट्रीय व्यापार मेला दिखाने ले गए। वहाँ उन्होंने अनेक राज्यों के मंडप देखे। उन्हें देखकर ऐसा लग रहा था मानो वे उन राज्यों की सैर कर रहे हो। घूमते घूमते वे लोग मिजोरम के मंडप में पहुँचे। बच्चे बड़ी उत्सव से मंडप को देख रहे थे बच्चों की और देखते हुए मि. मैथ्यू बोले यह मिजोरम राज्य का मंडप है यह राज्य भारत के उत्तर पूर्वी भाग में स्थित है आरंभ में ही है राज्य असम का ही एक भाग था लेकिन सन 1987 में इसे एक पूर्ण राज्य का दर्जा दे दिया था इसकी राजधानी आइज़ोल है

1. मि. मैथ्यू पाँचवी कक्षा के विद्यार्थियों को कहाँ ले गए थे?

2. यह राज्य भारत के किस भाग में स्थित है?

3. मिजोरम का पूर्ण राज्य का दर्जा कब मिला?

4. "पूर्ण" शब्द पर 'अ' लगाकर शब्द बनाइए।

खंड-घ (लेखन भाग)

प्रश्न-15 किसी एक विषय पर अनुच्छेद लिखिए -

(5)

समय का मूल्य

या

जगन्नाथ पुरी मंदिर

Blank lined area for writing the answer to Question 16.

प्रश्न-16 किसी एक विषय पर पत्र लिखिए - (5)
अपने प्रिय मित्र को दिल्ली भ्रमण का निमंत्रण देते हुए पत्र लिखिए।
या
विद्यालय में हो रही गतिविधियों के लिए धन्यवाद हेतु हुए प्रधानाचार्या जी को पत्र लिखिए।

Blank lined area for writing the answer to Question 16.

Answered
Date

NORTH-EX PUBLIC SCHOOL
(Senior Secondary, Affiliated To CBSE)
School Block, Jain Nagar, Sector-38, Rohini, Delhi – 81
Half Yearly Examination (2023-24)
Class -V
Mathematics

Time- 2 hours

Name: _____

Class & section: _____

Sign. Of invigilator: _____

Date: _____

M.M. – 50 marks

Roll No: _____

Day: _____

Sign. Of checker: _____

General Instructions:-

Read each questions carefully and follow the instructions

Attempt all questions compulsory

Section -A question no.1&2 carries 0.5 mark each and question no 3 to 8 carries 1 mark each.

Section -B question no. 9 to 13 carries 2 mark each.

Section -C question no.14 to 17 carries 2.5 marks each.

Section -D question no. 18 to 21 carries 5 marks each.

Section -A

Q-1 Choose the correct option:-

1. $0.875 \times 1000 =$ _____

- a) 87.5 b) 875 c) 8.75

2. A cube appears like a _____ when viewed from the top.

- a) Square b) circle c) rectangle

3. The multiplicative inverse of $\frac{4}{5}$

- a) $\frac{8}{6}$ b) $\frac{5}{8}$ c) $\frac{5}{4}$

4. The next term in the pattern 1, 3, 7, 13, _____

- a) 21 b) 16 c) 34

Q-2 Fill in the blanks:-

- The 12^{th} multiple of 4 is _____.
- SALT, TLAS, SALT, TLAS, _____, _____.
- The letters of the word MAT have _____ (vertical/ horizontal) symmetry.
- 2.3, 2.30, 2.300 are _____ (like/unlike) fractions.

Q-3 Write in expanded form of 18.265

Q-4 Write the pallindrome of 26 11 62.

Q-5 Draw the reflection of letter

B $\begin{matrix} | \\ \hline | \end{matrix}$ _____

Q-6 Change into improper fraction $12\frac{3}{8}$

Q-7 Draw the net of cone.

Q-8 Write in roman numerals of 1365.

Section -B

Q-9 Find the following:-

1. $2\frac{5}{6} + 6\frac{3}{10} + 4\frac{3}{5}$

2. $7\frac{3}{8} - 5\frac{7}{12}$

Q-10 Solve the following:-

1. $2\frac{1}{2} \times 3\frac{3}{4}$

2. $4\frac{2}{5} + 2\frac{1}{5}$

Q-11 Arrange the following:-

1. 1.759, 1.32, 1.5, 1.265 (In descending order)

2. $\frac{2}{13}$, $\frac{2}{17}$, $\frac{2}{19}$, $\frac{2}{15}$ (In ascending order)

Q-12 Answer the following questions:-

1. Write in words 30.369

2. Write odd numbers from 51 to 70.

3. List 10 composite numbers less than 21.

4. Draw the front and top view of ice cream cone.

Q-13 Simplify:-

1. $(1500 \div 10) - [(15 \times 3) + (5 \times 5)] + 5$ of 15

Section -C

Q-14 Find the sum of largest 3-digit number and the smallest 3-digit number formed by the digits 2, 4 and 0

Q-15 Each milk packet contains 6.32 L of milk. There are 11 such milk packets available for use. If 43.79 L of milk is used up, how much milk is left for use?

Q-16 Rani bought $1\frac{1}{2}$ m of ribbon. She shared $\frac{2}{3}$ m with her friend. How much she left with?

Q-17 The HCF of two numbers is 15 and their LCM is 1800. If one of the numbers is 135, find the other number.

Section -D

Q-18 Find the next figure in pattern.



- (iii) 6, 95, 7, 90, 8, 85, _____, _____
- (iv) 1, 5, 25, 125, _____, _____
- (v) 6321, 6421, 6521, 6621, _____, _____

Q-19 Do as directed:-

1. Round off the decimal numbers to the nearest hundredths of 48.109

2. Multiply 67.8×5

3. Add 4.6, 6.75 and 4.073

4. Convert into decimals of $34 \frac{3}{100}$

5. Put $>/</=$, 6.976 _____ 6.796

Q-20 Mental Maths:-

- 1. The product of a fraction with its reciprocal is _____ (1/0)
- 2. The predecessor of 47, 46,700 is _____

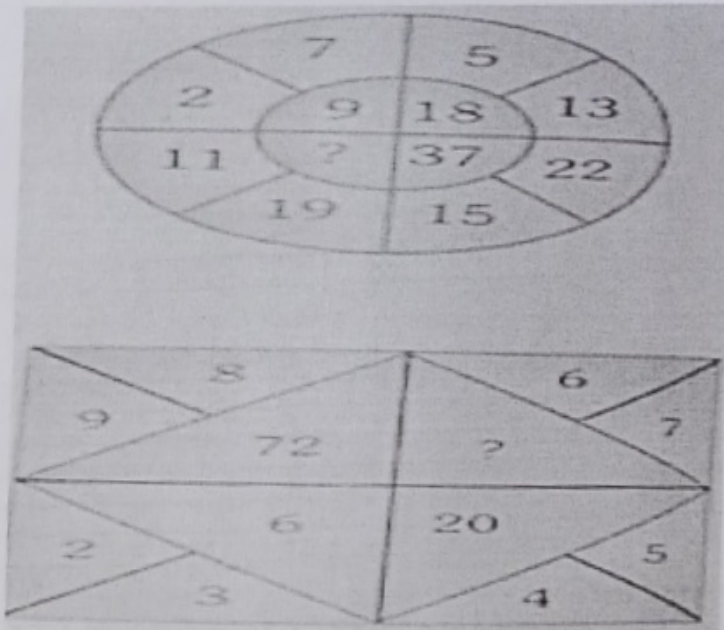
3. Draw the figures obtained when the letter P is flipped, turned and slides.

4. Fill in the boxes :- $\frac{5}{6} = \frac{\quad}{42}$


5. Convert into mixed fraction :- $\frac{85}{7}$

Q-21 Read the question carefully and answer the following questions

1. Find the missing numbers



2. Draw the line of symmetry :-



NORTH-EX PUBLIC SCHOOL
(Senior Secondary, Affiliated To CBSE)
School Block, Jain Nagar, Sector-38, Rohini, Delhi – 81
Half Yearly Examination (2023-24)
Class -V
EVS

Time- 2 hours

M.M. – 50 marks

Name: _____

Roll No: _____

Class & section: _____

Date: _____

Day: _____

Sign. Of invigilator: _____

Sign. Of checker: _____

General Instructions:-

- Read each questions carefully and follow the instructions.
- Attempt all questions compulsory.
- Section -A question no.1 to 10 carries 1 mark each.
- Section -B question no. 11 to 13 carries 2 mark each. ~~part~~
- Section -C question no.14 -carries 2.5 marks each part.
- Section -D question no. 15 to 18 carries 5 marks each.

SECTION -A

Q1 Places close to the _____ receive more sunlight.

Q-2 Sleep disorder is an effect of _____

Q-3 Give one example of Endangered Species.

Q-4 Tube -like structures that carry blood to different parts of the body.

Q-5 The coldest region of earth is called Torrid Zone. (T/F)

Q-6 A map is a drawing of a geographical area on a flat surface. (T/F)

Q-7 Write the meaning of 'Traps'.

Q-8 Give two examples of natural resources.
_____, _____

Q-9 Malaria is caused by the bite of which mosquito?

Q-10 Gir national park famous for _____

SECTION -B

Q-11 Answer these in brief -

1. What is the meaning of 'Horizon'?
- _____

2. Write two uses of plants?

Q-12 Answer this in one sentence-

1. Name the diseases that can be caused by water pollution.

2. Define the term of 'Earthquake'.

Q-13 Match the following-

- | | |
|---------------|---------------------|
| 1) Altitude | a) has an effect on |
| 2) Moderate | b) Area |
| 3) Zones | c) Not extreme |
| 4) Influences | d) Height |

SECTION -C

Q-14 Answer these in details-

1. Discuss the causes of an earthquake. Give an example.

2. What are the causes and effects of noise pollution? (Give two reasons)

3. List the uses of natural resources.

4. Give at least two ways in which diseases can be prevented.

SECTION - D

Q-15 Draw the diagram of photosynthesis and write their name.

Q-16 Draw the table of natural resources.

Q-17 Rohan is a boy of 10 years. He has eaten junk food every day. After a few days he becomes very ill. Doctor said if you don't stop eating junk food then you will die soon.

Answer the following questions-

A) How old is Rohan?

B) If he needs your help. Will you help or won't help?

C) What advice would you give to Rohan?

D) Why was Rohan ill?

E) Junk food is healthy food or not? (Yes/ No)

Q-18 Observe the picture and answer the following question.


A)



1. Name the animal shown here.

2. Is it an extinct or endangered animal?

B)



1. Which insect shown in the picture?

2. How is it harmful?
