

कुल प्रश्नों की संख्या : 22]  
Total No. of Questions : 22]

[कुल मुद्रित पृष्ठों की संख्या : 14  
[Total No. of Printed Pages : 14

**C-232102-A**

**विषय : भूगोल**  
**Subject : Geography**

समय : 3 घंटे]  
Time : 3 Hours]

[पूर्णांक : 70  
[Maximum Marks : 70

**नोट :** (i) सभी प्रश्न हल करना अनिवार्य है। प्रश्नों की कुल संख्या 22 है।

All questions are compulsory. There are 22 questions.

(ii) प्रश्न क्रमांक 1 से 7 तक अति लघु उत्तरीय प्रश्न हैं। प्रत्येक प्रश्न में 1 अंक निर्धारित है।

Question Nos. 1 to 7 are very short answer type questions. Each question carries 1 mark.

(iii) प्रश्न क्रमांक 8 से 13 तक लघु उत्तरीय प्रश्न हैं। प्रत्येक प्रश्न में 3 अंक निर्धारित हैं। उत्तर की शब्द सीमा 50 शब्दों तक है।

Question Nos. 8 to 13 are short answer type questions. Each question carries 3 marks. Maximum word limit of answer is 50 words.

**C-232102-A**

**P.T.O.**

**(2)**

(iv) प्रश्न क्रमांक 14 से 20 तक दीर्घ उत्तरीय प्रश्न हैं। प्रत्येक प्रश्न में 5 अंक निर्धारित हैं। उत्तर की शब्द सीमा 150 शब्दों तक है।

Question Nos. 14 to 20 are long answer type questions. Each question carries 5 marks. Maximum word limit of answer is 150 words.

(v) प्रश्न क्रमांक 10, 14, 15, 20 एवं 22 में आंतरिक विकल्प दिए गए हैं।

In Question Nos. 10, 14, 15, 20 and 22 internal options are given.

(vi) दृष्टि बाधित छात्र, जिन प्रश्नों में मानचित्र अंक अथवा रेखाचित्र दिये गये हैं, उनके स्थान पर उनकी प्रसिद्धि/विशेषताओं के 1-1 बिन्दु लिखेंगे।

Visually impaired students will write 1-1 point of speciality of that places in the map makings or diagram questions.

(vii) प्रश्न क्रमांक 21 और 22 नक्शा कौशल पर आधारित है, जिसमें चिन्हित बिन्दुओं की पहचान करना और प्रदर्शित करना है। प्रत्येक प्रश्न में 5 अंक निर्धारित है।

Question Nos. 21 and 22 are related to identifiable or locating and labelling of map, carrying 5 marks in each question.

(3)

(अति लघु उत्तरीय प्रश्न)

(Very Short Answer Type Questions)

- प्रश्न-1. किस देश का लिंगानुपात विश्व में सर्वाधिक है ? 1  
Which country has the highest sex ratio in the world ?
- प्रश्न-2. मानव विकास उपागम का क्या तात्पर्य है ? 1  
What is meant by Human Development Approach ?
- प्रश्न-3. 'बिग इंच' पाइपलाइन के द्वारा क्या परिवहित किया जाता है ? 1  
What is transported by "Big Inch" Pipeline ?
- प्रश्न-4. मानव विकास सूचकांक, 2011 के संदर्भ में विश्व के देशों में भारत की कौन सी कोटि थी ? 1  
What was the rank of India among the countries of the world in terms of Human Development Index, 2011 ?
- प्रश्न-5. मृदा अपरदन किसे कहते हैं ? 1  
What is soil erosion ?
- प्रश्न-6. छत्तीसगढ़ का प्रमुख औद्योगिक नगर कौन-सा है ? 1  
Which is the major industrial city of Chhattisgarh ?
- प्रश्न-7. पर्यावरण प्रदूषण का क्या अर्थ है ? 1  
What is meant by environmental pollution ?

(4)

(लघु उत्तरीय प्रश्न)

(Short Answer Type Questions)

प्रश्न-8. नगरीकरण बढ़ने के क्या कारण थे ? 3

What were the reasons for increasing urbanization ?

प्रश्न-9. पर्वतों, मरुस्थलों तथा बाढ़ संभावित प्रदेशों में स्थल परिवहन की क्या-क्या समस्याएँ हैं ? 1+1+1=3

What are the problems of land transportation in mountains, deserts and flood prone areas ?

प्रश्न-10. विश्व व्यापार संगठन के आधारभूत कार्य कौन-कौन से हैं ? 1+1+1=3

What are the basic functions of WTO ?


अथवा

OR

कच्चे माल पर आधारित उद्योग कौन-कौन से हैं ?

Which are the raw material based industries ?

प्रश्न-11. नीचे दिये गये चित्र को देखकर प्रश्नों के उत्तर दीजिए : 1+1+1=3



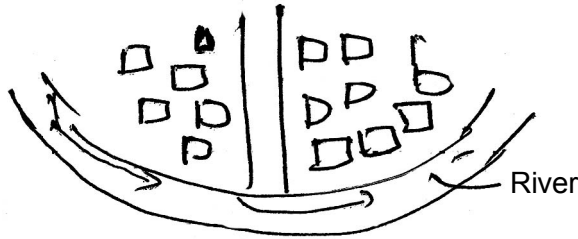
(अ) इस ग्रामीण बस्ती प्रतिरूप का नाम लिखिए।

(ब) ऐसे प्रतिरूप कहां पर मिलते हैं ?

(स) इस प्रतिरूप की एक विशेषता लिखिए।

(5)

Study the diagram given below and answer the questions :



- (a) Name the given rural settlement pattern.
- (b) In which areas do you find this rural settlement pattern ?
- (c) Write one characteristic feature of this settlement pattern.

निर्देश :

दृष्टि बाधित छात्रों के लिए :

**Instruction :**

For visually impaired students :

प्रश्न-11. 'टी' आकार के प्रतिरूप कहाँ पाया जाता है ? इनकी दो विशेषताएं लिखिए। **1+1+1=3**

Where 'T' shaped patterns are found ? Write two characteristics of them.

प्रश्न-12. मानव विकास की आवश्यकता क्यों है ? **3**

Why is human development needed ?

प्रश्न-13. मरुस्थली प्रदेशों में गांवों के अवस्थिति के कौन-से मुख्य कारक होते हैं ? **1+1+1=3**

What are the main factors for the location of villages in desert regions ?

**(6)**

(दीर्घ उत्तरीय प्रश्न)

**(Long Answer Type Questions)**

**प्रश्न-14.** मानव विकास की अवधारणा के अंतर्गत समता और सतत् पोषणीयता से आप क्या समझते हैं ? **2+3=5**

What do you understand by capacity and sustainable sustainability within the concept of human development ?

अथवा

**OR**

देश के आर्थिक विकास पर जनसंख्या वृद्धि के प्रभावों का वर्णन कीजिए। **1+1+1+1+1=5**

Describe the effects of population growth on the economic development of a country.

**प्रश्न-15.** भारत में भू-संसाधनों की विभिन्न प्रकार की पर्यावरणीय समस्याएं कौन-कौन सी हैं ? उनका निदान कैसे किया जाये ? **2+3=5**

What are the different types of environmental problems of land resources in India ? How to diagnose them ?

अथवा

**OR**

पिछड़े क्षेत्रों के विकास के लिए राष्ट्रीय समिति ने पहाड़ी क्षेत्रों के विकास के लिए कौन-कौन से सुझाव दिये ?

(7)

What suggestions did the national committee for the development of Backward

Areas make for the development of hilly areas ?

प्रश्न-16. मानव के प्राकृतिकरण की व्याख्या कीजिए।

5

Explain the naturalization of man.

प्रश्न-17. भारत में परिवहन के प्रमुख साधन कौन-कौन से हैं ? इनके विकास को प्रभावित करने वाले कारकों

की विवेचना कीजिए।

2+3=5

What are the main means of transport in India ? Discuss the factors affecting

their development.

प्रश्न-18. छत्तीसगढ़ में मिलने वाले प्रमुख पांच खनिज पदार्थों का वर्णन कीजिए।

1+1+1+1+1=5

Describe the major five minerals found in Chhattisgarh.

प्रश्न-19. उद्योगों की अवस्थिति को प्रभावित करने वाले कारकों की विवेचना कीजिए।

(कोई पांच)

1+1+1+1+1=5

Discuss the factors affecting the location of industries. (Any five)

**(8)**

**प्रश्न-20.** चलवासी पशुचारण और वाणिज्य पशुपालन में अंतर लिखिए। (कोई पांच) **1+1+1+1+1=5**

Write the differences between livestock farming and commercial animal husbandry. (Any five)

अथवा

**OR**

व्यावसायिक कृषि एवं ट्रक फार्मिंग कृषि से क्या आशय है ? व्यावसायिक कृषि एवं ट्रक फार्मिंग कृषि में कोई तीन अंतर लिखिए।

What do you mean by Commercial Agriculture and Truck Farming Agriculture ?

Write any three differences between Commercial Agriculture and Truck Farming Agriculture.

**प्रश्न-21.** विश्व के राजनीतिक सीमाकार मानचित्र में दर्शाए गए निम्न बिंदुओं को पहचानें तथा उनका नाम

अपनी उत्तर पुस्तिका में लिखें :

**1+1+1+1+1=5**

(A) ट्रांस-साइबेरियन रेलमार्ग का प्रथम एवं अंतिम स्टेशन



(9)

(B) दक्षिण अमेरिका की प्रमुख नदी

(C) दक्षिण अमेरिका के घास का मैदान

(D) इंग्लैण्ड की राजधानी

(E) एक अन्तर्राष्ट्रीय बन्दरगाह

In given political outline map of the world, identify the following points and write

their names in your answer copy :

(A) The First and Last Station of the Trans-Siberian Railway

(B) Major River of South America

(C) Grassland in South America

(D) Capital of England

(E) An International Sea Port

**(10)**

(11)

प्रश्न-22. छत्तीसगढ़ के चिन्हांकित मानचित्र में, निम्नलिखित को पहचानिए तथा उनके नाम अपनी उत्तर-

पुस्तिका में लिखिए :

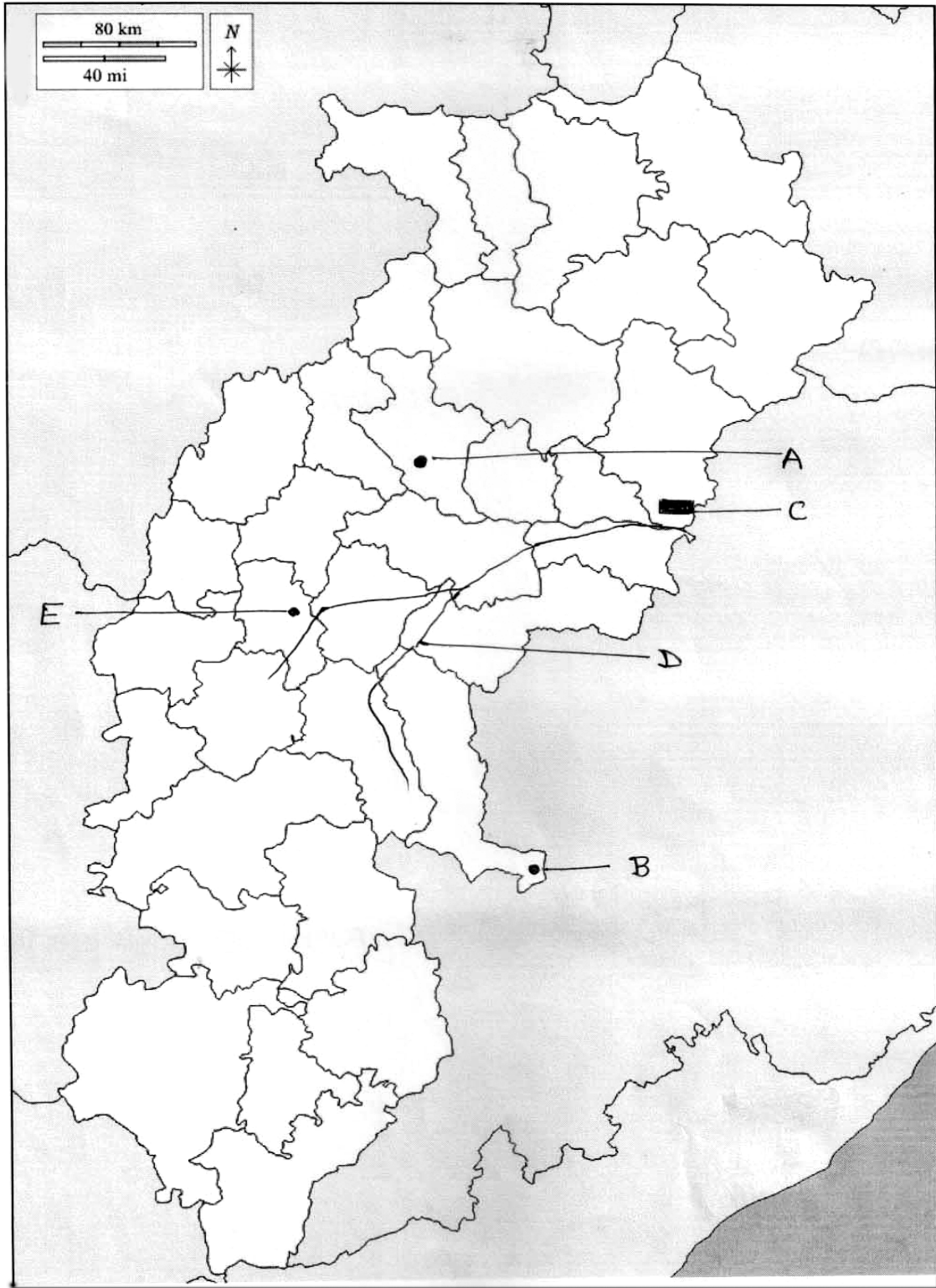
1+1+1+1+1=5

- (A) छत्तीसगढ़ की न्यायधानी
- (B) हीरा उत्पादक क्षेत्र
- (C) छत्तीसगढ़ का एक मात्र जूट मिल
- (D) छत्तीसगढ़ की जीवनरेखा नदी
- (E) लोहा इस्पात उद्योग

In the sign-marked map of Chhattisgarh, identify the following and write their names in your answer-copy :

- (A) Justice of Chhattisgarh
- (B) Diamond producing area
- (C) Chhattisgarh's only jute mill
- (D) Lifeline river of Chhattisgarh
- (E) Iron steel industry

(12)



C-232102-A

**(13)**

अथवा

**OR**

भारत के राजनैतिक सीमाकार मानचित्र में निम्नलिखित का पता लगाइए तथा संकेतों के साथ

लेबल कीजिए :

- (A) भारत के मध्य से गुजरने वाली अक्षांश रेखा
- (B) भारत का उत्तर-पूर्वी चाय उत्पादक क्षेत्र
- (C) भारत का मरुस्थल क्षेत्र
- (D) पर्वतश्रेणी
- (E) खनिज तेल उत्पादक क्षेत्र

In the given political outline map of India, locate and label the following with

symbols :

- (A) Latitude line passing through the middle of India
- (B) North Eastern tea growing region of India
- (C) Desert region of India

**(14)**

(D) Mountain range

(E) Mineral oil producing area

