

Name :

Roll No. :

कुल प्रश्नों की संख्या : 22]
Total No. of Questions : 22]

[कुल मुद्रित पृष्ठों की संख्या : 8
[Total No. of Printed Pages : 8

T-222102-A

विषय : भूगोल

Subject : Geography

M-37

समय : 3 घण्टे]
Time : 3 hours]

[पूर्णांक : 70
[Maximum Marks : 70

- निर्देश** : (i) सभी प्रश्न हल करना अनिवार्य है। प्रश्नों की कुल संख्या 22 है।
Instructions : All questions are compulsory. There are 22 questions.
- (ii) प्रश्न क्रमांक 1 से 7 तक अतिलघुउत्तरीय प्रश्न हैं। प्रत्येक प्रश्न में 1 अंक निर्धारित है।
Question Nos. 1 to 7 are very short answer type questions. Each question carries 1 mark.
- (iii) प्रश्न क्रमांक 8 से 13 तक लघुउत्तरीय प्रश्न हैं। प्रत्येक प्रश्न में 3 अंक निर्धारित हैं।
(उत्तर की शब्द-सीमा 50 शब्दों तक है)
Question Nos. 8 to 13 are short answer type questions. Each question carries 3 marks. (Maximum word-limit of answer is 50 words)
- (iv) प्रश्न क्रमांक 14 से 20 तक दीर्घउत्तरीय प्रश्न हैं। प्रत्येक प्रश्न में 5 अंक निर्धारित हैं।
(उत्तर की शब्द-सीमा 150 शब्दों तक है)
Question Nos. 14 to 20 are long answer type questions. Each question carries 5 marks. (Maximum word-limit of answer is 150 words)
- (v) प्रश्न क्रमांक 10, 16, 18, 20 एवं 22 में आंतरिक विकल्प दिए गए हैं।
In Question Nos. 10, 16, 18, 20 and 22 internal options are given.

M-37A+ (Map)

P.T.O.

- (vi) दृष्टि बाधित छात्र, जिन प्रश्नों में मानचित्र अंकन अथवा रेखाचित्र दिए गए हैं, उनके स्थान पर उनकी प्रसिद्धि/विशेषताओं के 1-1 बिन्दु लिखेंगे।

Visually impaired students will write 1-1 point of speciality of that places in the map-making or diagram questions.

- (vii) श्रवण बाधित छात्र दीर्घउत्तरीय प्रश्नों के उत्तर, व्याख्या एवं वर्णन के स्थान पर केवल बिन्दुवार लिखेंगे।

Hearing impaired students will write the long answer type questions with points only.

- (viii) प्रश्न क्रमांक 21 और 22 नक्शा कौशल पर आधारित हैं, जिसमें चिह्नित बिन्दुओं की पहचान करना और प्रदर्शित करना है। प्रत्येक प्रश्न में 5 अंक निर्धारित हैं।

Question Nos. 21 and 22 are related to identification or locating and labelling of map, carrying 5 marks in each question.

- | | | |
|----------|----------------------------------------------------------------------------------------------------------------------------------------------|---------|
| प्रश्न-1 | चाय का उत्पादन किस प्रकार की कृषि के अंतर्गत आता है ?
Tea production comes under which type of agriculture? | [1] |
| प्रश्न-2 | द्वितीयक क्रिया-कलाप किसे कहते हैं ?
What is called secondary activity? | [1] |
| प्रश्न-3 | 'थोक व्यापार' शब्द से क्या तात्पर्य है ?
What is meant by the term 'wholesale trade'? | [1] |
| प्रश्न-4 | भारत में पहली जनगणना कब हुई थी ?
When was the First Census conducted in India? | [1] |
| प्रश्न-5 | अनवीनीकृत ऊर्जा संसाधन के दो उदाहरण लिखिए।
Write two examples of non-renewable energy source. | [1] |
| प्रश्न-6 | स्टील अथॉरिटी ऑफ इंडिया की स्थापना किस वर्ष हुई थी ?
In which year the Steel Authority of India was established? | [1] |
| प्रश्न-7 | तिलहन फसलों के दो उदाहरण दीजिए।
Give two examples of oilseed crops. | [1] |
| प्रश्न-8 | वाणिज्य पशुपालन की किन्हीं तीन विशेषताओं का वर्णन कीजिए।
Describe any three characteristics of commercial animal husbandry. | [1×3=3] |

[3]

प्रश्न-9 पत्तन किस प्रकार व्यापार में सहायक होते हैं ? [3]
How do ports help in trade?

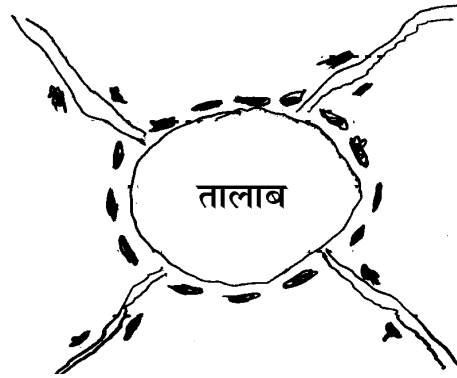
प्रश्न-10 सड़क परिवहन के कोई तीन लाभ लिखिए। [3]
Write any **three** advantages of road transportation.

अथवा
OR

स्वेज नहर पर एक टिप्पणी लिखिए।

Write a note on Suez Canal.

प्रश्न-11 नीचे दिए गए चित्र को देखकर प्रश्नों के उत्तर दीजिए : [1+1+1=3]

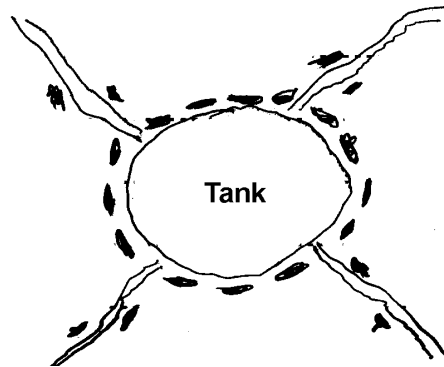


(अ) इस ग्रामीण बस्ती प्रतिरूप का नाम लिखिए।

(ब) ऐसे प्रतिरूप कहाँ पर मिलते हैं ?

(स) इस प्रतिरूप की एक विशेषता लिखिए।

Study the diagram given below and answer the questions :



(a) Write the name of this rural settlement pattern.

(b) In which areas do you find this rural settlement pattern?

(c) Write **one** characteristic of this settlement pattern.

[4]

प्रश्न-12 प्रवास के पर्यावरणीय प्रभाव की व्याख्या कीजिए। [3]

Explain the environmental impact of migration.

प्रश्न-13 जलसंभर प्रबंधन क्या है ? समझाइए। [3]

What is watershed management? Explain.

प्रश्न-14 छत्तीसगढ़ में कोयले के वितरण को विस्तारपूर्वक समझाइए। [5]

Explain in detail the distribution of coal in Chhattisgarh.

प्रश्न-15 परिवहन व संचार सेवाओं की सार्थकता को विस्तारपूर्वक स्पष्ट कीजिए। [5]

Explain in detail the importance of transport and communication services.

प्रश्न-16 वृहद पैमाने के उद्योगों की किन्हीं पाँच विशेषताओं को लिखिए। [1×5=5]

Write any **five** characteristics of Large-scale Industries.

अथवा

OR

चावल प्रधान गहन निर्वाह कृषि किन देशों में होती हैं ? इस कृषि की किन्हीं तीन विशेषताओं को लिखिए। [2+3=5]

Rice intensive subsistence agriculture is done in which countries?
Write any **three** characteristics of this agriculture.

प्रश्न-17 मानव भूगोल के विषय क्षेत्र पर एक टिप्पणी लिखिए। [5]

Write a note on the subject area of Human Geography.

प्रश्न-18 भारत में ग्रामीण-नगरीय जनसंख्या संघटन का वर्णन कीजिए। [5]

Describe the composition of rural-urban population in India.

अथवा

OR

भारत में जनसंख्या वितरण एवं घनत्व को प्रभावित करने वाले किन्हीं पाँच कारकों का वर्णन कीजिए। [1×5=5]

Describe any **five** factors affecting population distribution and density in India.

[5]

प्रश्न-19 भारतीय कृषि की किन्हीं पाँच समस्याओं का वर्णन कीजिए। [1×5=5]

Describe any **five** problems of Indian agriculture.

प्रश्न-20 ऊर्जा के कोई दो अपारंपरिक स्रोत कौन-कौन से हैं? सौर ऊर्जा पर एक टिप्पणी लिखिए। [2+3=5]

What are any **two** unconventional sources of energy? Write a note on solar energy.

अथवा

OR

भारत में खनिज संरक्षण के किन्हीं पाँच उपायों को बताइए। [1×5=5]

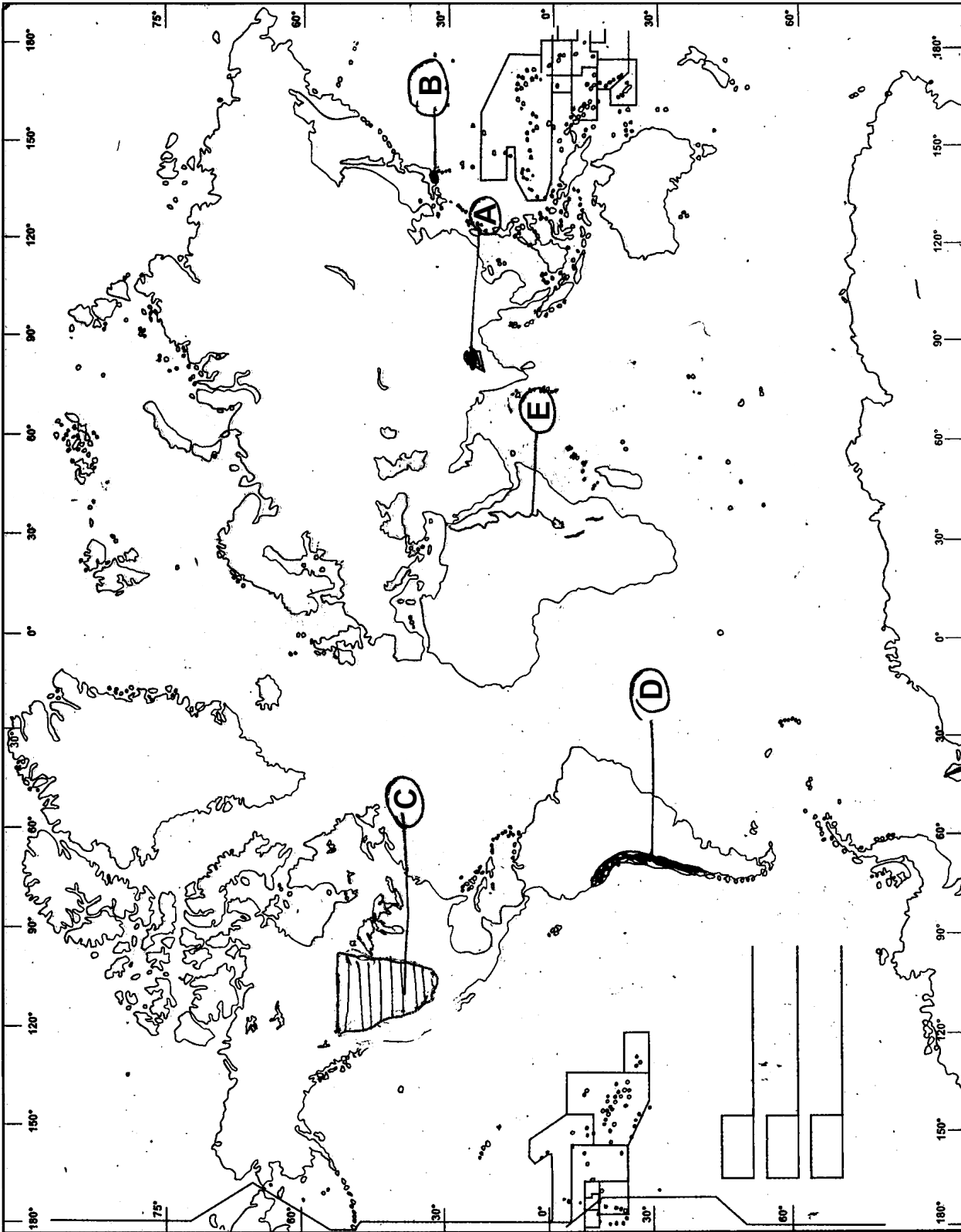
Mention any **five** measures of mineral conservation in India.

प्रश्न-21 विश्व के राजनीतिक सीमाकार मानचित्र में दर्शाए गए निम्नलिखित बिन्दुओं को पहचानिए तथा उनके नाम अपनी उत्तर-पुस्तिका में लिखिए : [1×5=5]

- (A) भारत में कोयले का उत्पादन क्षेत्र
- (B) जापान की राजधानी
- (C) उत्तरी अमेरिका का घास का मैदान
- (D) दक्षिण अमेरिका की पर्वत शृंखला
- (E) अफ्रीका की प्रमुख नदी

In the given political outline map of the world, identify the following points and write their names in your answer-copy :

- (A) Coal production area in India
- (B) Capital of Japan
- (C) Grassland in North America
- (D) Mountain range in South America
- (E) Main river of Africa



[7]

प्रश्न-22 भारत के राजनैतिक सीमाकार मानचित्र में, निम्नलिखित का पता लगाइए एवं संकेतों के साथ लेबल कीजिए : [1+1+1+1+1=5]

- (A) चाय उत्पादक क्षेत्र (B) गोदावरी नदी
(C) मुम्बई हाई (D) चिल्का झील
(E) कोलकाता-चेन्नई रेलमार्ग

In the given political outline map of India, locate and label the following with symbols :

- (A) Tea-producing Area (B) Godavari River
(C) Mumbai High (D) Chilika Lake
(E) Kolkata-Chennai Rail Route

अथवा

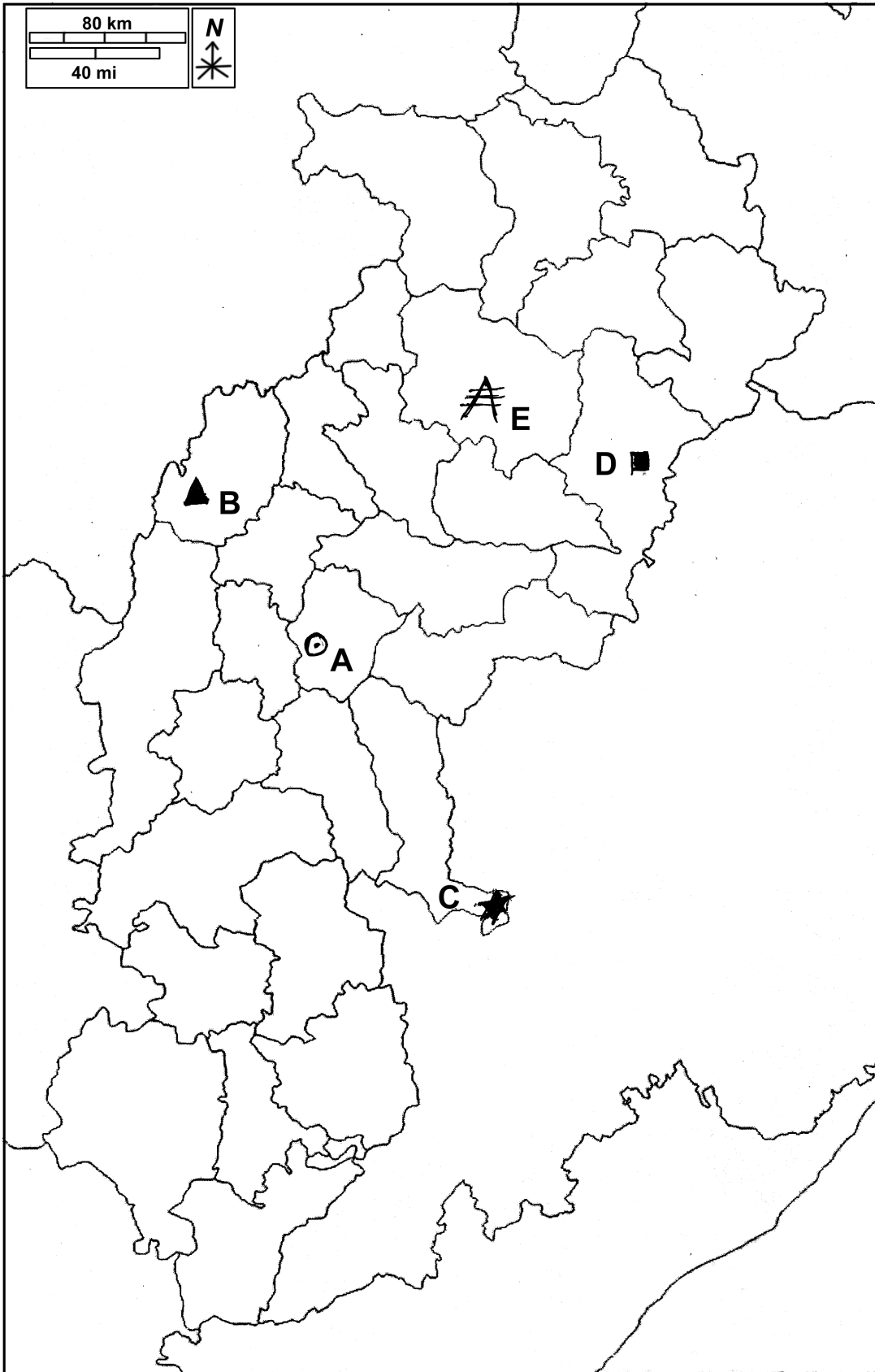
OR

छत्तीसगढ़ के चिह्नंकित मानचित्र में, निम्नलिखित को पहचानिए तथा उनके नाम अपनी उत्तर-पुस्तिका में लिखिए :

- (A) छत्तीसगढ़ की राजधानी (B) छत्तीसगढ़ का प्रमुख शक्कर कारखाना
(C) हीरा उत्पादन क्षेत्र (D) छत्तीसगढ़ का जूट कारखाना
(E) थर्मल पॉवर स्टेशन

In the sign-marked map of Chhattisgarh, identify the following and write their names in your answer-copy :

- (A) Capital of Chhattisgarh (B) Main sugar plant in Chhattisgarh
(C) Diamond production area (D) Jute mill in Chhattisgarh
(E) Thermal power station



—X—