

Name :

Roll No

नवीन पाठ्यक्रम / New Syllabus

कुल प्रश्नों की संख्या : 22 |
Total No. of Questions : 22 |

| कुल मुद्रित पृष्ठों की संख्या 11
| Total No. of Printed Pages 11

O-212102-A

विषय : भूगोल
Subject : Geography

समय : 3 घण्टे]
Time : 3 hours]

[पूर्णांक : 70
[Maximum Marks : 70

- निर्देश** : (i) सभी प्रश्न हल करना अनिवार्य है। प्रश्नों की कुल संख्या 22 है।
Instructions : All questions are compulsory. There are 22 questions.
- (ii) प्रश्न क्रमांक 1 से 7 तक अतिलघु उत्तरीय प्रश्न हैं। प्रत्येक प्रश्न में 1 अंक निर्धारित है।
Question Nos. 1 to 7 are very short answer type questions. Each question carries 1 mark.
- (iii) प्रश्न क्रमांक 8 से 13 तक लघु उत्तरीय प्रश्न हैं। प्रत्येक प्रश्न में 3 अंक निर्धारित हैं।
(उत्तर की शब्द-सीमा 50 शब्दों तक है)
Question Nos. 8 to 13 are short answer type questions. Each question carries 3 marks. (Maximum word-limit of answer is 50 words)
- (iv) प्रश्न क्रमांक 14 से 20 तक दीर्घ उत्तरीय प्रश्न हैं। प्रत्येक प्रश्न में 5 अंक निर्धारित हैं।
(उत्तर की शब्द-सीमा 150 शब्दों तक है)
Question Nos. 14 to 20 are long answer type questions. Each question carries 5 marks. (Maximum word-limit of answer is 150 words)
- (v) प्रश्न क्रमांक 10, 15, 16, 18 एवं 22 में आंतरिक विकल्प दिए गए हैं।
In Question Nos. 10, 15, 16, 18 and 22 internal options are given.

I-40A+ (MAP)

P.T.O.

- (vi) दृष्टि बाधित छात्र, जिन प्रश्नों में मानचित्र अंकन अथवा रेखाचित्र दिए गए हैं, उनके स्थान पर उनकी प्रसिद्धि/विशेषताओं के 1-1 बिन्दु लिखेंगे।

Visually impaired students will write 1-1 point of speciality of that places in the map-making questions.

- (vii) श्रवण बाधित छात्र दीर्घ उत्तरीय प्रश्नों के उत्तर, व्याख्या एवं वर्णन के स्थान पर केवल बिन्दुवार लिखेंगे।

Hearing impaired students will write the long answer type questions with points only.

- (viii) प्रश्न क्रमांक 21 और 22 नक्शा कौशल पर आधारित हैं, जिसमें चिह्नित बिन्दुओं की पहचान करना और प्रदर्शित करना है। प्रत्येक प्रश्न में 5 अंक निर्धारित हैं।

Question Nos. 21 and 22 are related to identification or locating and labelling of map, carrying 5 marks in each question.

प्रश्न-1 खनन से क्या तात्पर्य है? [1]
What do you mean by 'mining'?

प्रश्न-2 ज्वन पर आधारित उद्योगों के दो नाम लिखिए। [$\frac{1}{2} + \frac{1}{2} = 1$]
Write two names of forest-based industries.

प्रश्न-3 'दूरसंचार' शब्द से क्या आशय है? [1]
What do you mean by 'telecommunication'?

प्रश्न-4 भारत का जनसंख्या घनत्व सन् 2011 की जनगणना के अनुसार कितना है? 5 [1]
How much was the population density of India according to the Census of 2011?

प्रश्न-5 टिस्को क्या है? [1]
What is TISCO?

प्रश्न-6 भारत में किस राज्य को 'धान का कटोरा' कहा जाता है? [1]
Which state in India is called 'bowl of rice'?

प्रश्न-7 'शुष्क-भूमि कृषि' किसे कहते हैं? [1]
What do you mean by 'dryland farming'?

प्रश्न-8 आयात एवं निर्यात में तीन अंतर लिखिए। [1]
Write three differences in Import and Export.

प्रश्न-9 'मिश्रित कृषि' की किन्हीं तीन विशेषताओं को लिखिए।

Write any **three** characteristics of 'mixed agriculture'.

[1×3=3]

प्रश्न-10 विश्व का व्यस्ततम समुद्री मार्ग कौन सा है और क्यों ?

Which is the busiest sea route in the world and why?

[1+2=3]

अथवा

OR

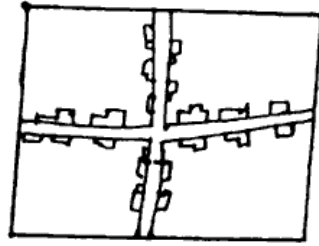
ट्रांस-साइबेरियन रेलमार्ग पर एक टिप्पणी लिखिए (कोई तीन बिन्दु)।

Write a note on the Trans-Siberian Railway (any **three** points).

[1+1+1=3]

प्रश्न-11 नीचे दिए गए चित्र को देखकर प्रश्नों के उत्तर दीजिए :

[1+1+1=3]

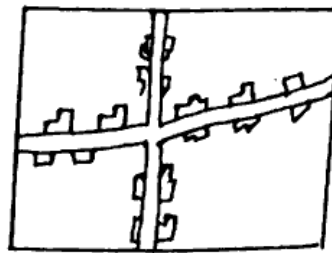


(अ) इस ग्रामीण बस्ती प्रतिरूप का नाम लिखिए।

(ब) ऐसे प्रतिरूप कहाँ पर मिलते हैं ?

(स) इस प्रतिरूप की एक विशेषता लिखिए।

Study the diagram given below and answer the questions :



(a) Write the name of this rural settlement pattern.

(b) In which areas do you find this rural settlement pattern?

(c) Write one characteristic feature of this settlement pattern.

प्रश्न-12 भारत में अन्तर्राष्ट्रीय प्रवास के कारकों की व्याख्या कीजिए। [1+3=4]

Explain the causes of international migration to India

प्रश्न-13 सूखा सम्भाव्य क्षेत्र विकास कार्यक्रम के तीन मुख्य उद्देश्य बताइए। [1+1+1=3]

State the **three** main objectives of the drought prone area development programme.

प्रश्न-14 मानव भूगोल की परिभाषा लिखते हुए मानव के प्रकृतिकरण की व्याख्या कीजिए। [2+3=5]

Define human geography and explain the naturalization of man.

प्रश्न-15 भारत में 2011 के स्त्री साक्षरता का प्रतिशत कितना है? भारत में स्त्री शिक्षा के स्थानिक स्वरूप को समझाइए (कोई चार बिन्दु)। [1+4=5]

How much female literacy rate in India in 2011? Explain the local pattern of female literacy of India (any **four** points).

अथवा

OR

जनसंख्या वृद्धि से क्या तात्पर्य है? भारत में जनसंख्या वृद्धि की प्रावस्थाओं का वर्णन कीजिए। [1+1+1+1+1=5]

What is meant by population growth? Describe the phases of population growth in India. <https://www.cgboardonline.com>

प्रश्न-16 संसार में प्रचलित 'रोपण कृषि' की किन्हीं पाँच विशेषताओं का वर्णन कीजिए। [1+1+1+1+1=5]

Describe any **five** features of 'plantation agriculture' practised in the world.

अथवा

OR

प्राथमिक एवं द्वितीयक क्रियाएँ किसे कहते हैं? प्राथमिक एवं द्वितीयक क्रियाओं में क्या अन्तर है (कोई तीन)?

[1+1+3=5]

What are primary and secondary activities? What are the differences between primary and secondary activities (any *three*)?

प्रश्न-17 भारत में जल संसाधनों की कमी के लिए उत्तरदायी किन्हीं पाँच कारकों की व्याख्या कीजिए।

[1×5=5]

Explain any five factors responsible for depletion of water resources in India.

प्रश्न-18 छत्तीसगढ़ में सिंचाई व्यवस्था न होती, तो कृषि पर क्या प्रभाव पड़ता? लिखिए (कोई पाँच)।

[1+1+1+1+1=5]

Where there was no irrigation facilities in Chhattisgarh, agriculture would have been affected. Write what effects (any *five*).

अथवा

OR

छत्तीसगढ़ में मिलने वाले प्रमुख खनिज पदार्थों का वर्णन कीजिए।

Describe the major minerals available in Chhattisgarh.

प्रश्न-19 सेवा सेक्टर में कौन-कौन से व्यवसाय आते हैं? संक्षिप्त व्याख्या करते हुए चार्ट के माध्यम से समझाइए।

[1+2+2=5]

Which businesses come in the service sector? Briefly explain through the chart.

प्रश्न-20 भारत में उद्योगों की स्थिति को प्रभावित करने वाले किन्हीं पाँच कारकों का वर्णन कीजिए।

[1+1+1+1+1=5]

Describe any *five* factors that influence the location of industries in India.

प्रश्न-21 विश्व के राजनीतिक सीमाकार मानचित्र में दर्शाए गए निम्नलिखित बिन्दुओं को

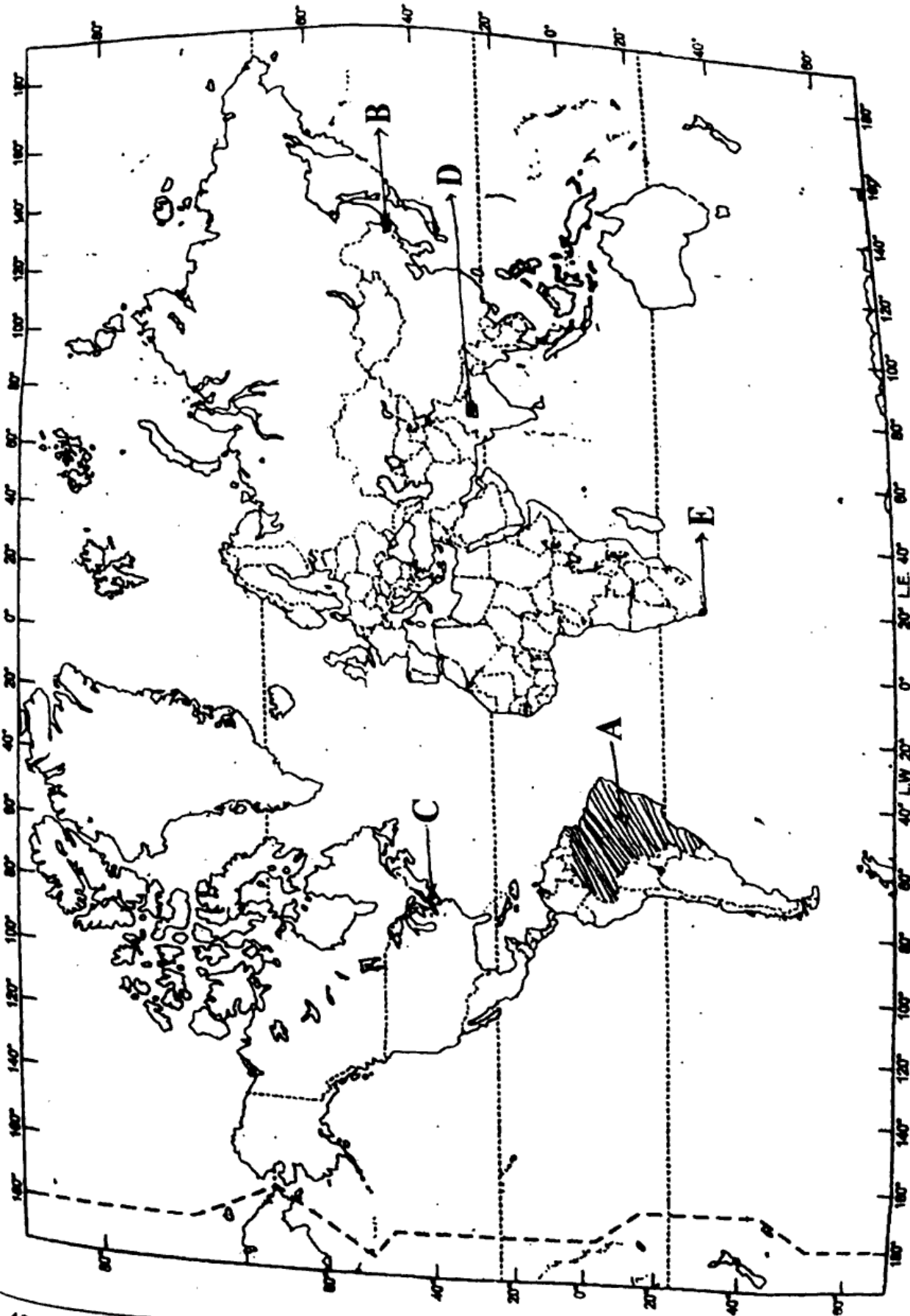
पहचानिए तथा उनके नाम उत्तर-पुस्तिका में लिखिए :

[1+1+1+1+1=5]

- (A) दक्षिण अमेरिका का सबसे बड़ा क्षेत्रफल वाला देश
- (B) ट्रांस-साइबेरियन रेलमार्ग का प्रथम स्टेशन का नाम
- (C) एक मेगा सिटी
- (D) एक अंतर्राष्ट्रीय हवाई अड्डा
- (E) एक बड़ा बंदरगाह

In the given political outline map of the world, identify following points and write their names in your answer-book :

- (A) The largest country in South America in area
- (B) Name of the first station of the Trans-Siberian Railway
- (C) A mega city
- (D) An international airport
- (E) A major sea port



M-40A+

P.T.O.

प्रश्न-22 छत्तीसगढ़ के चिह्नांकित मानचित्र में निम्नांकित को पहचानिए तथा उनके नाम अपनी

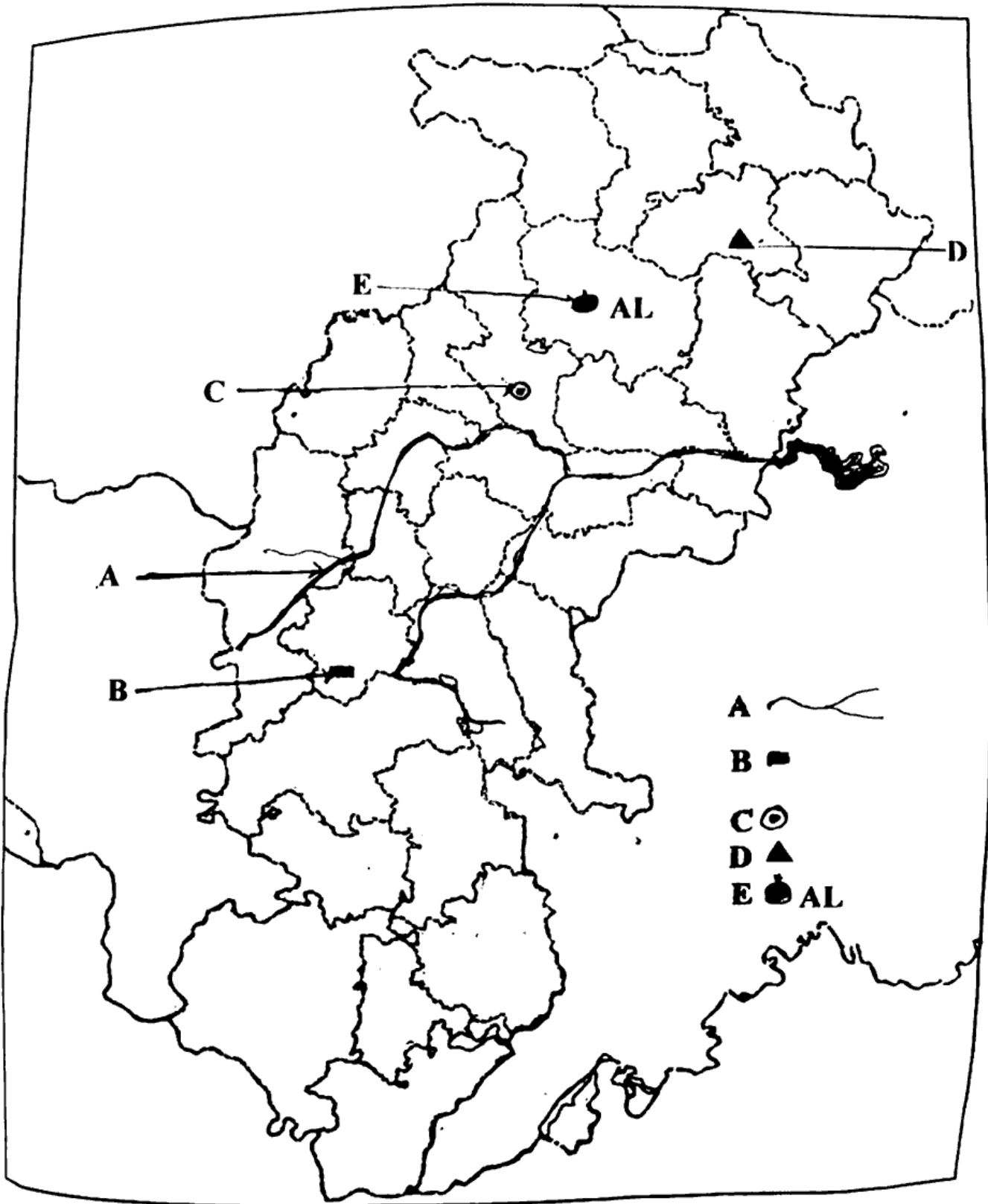
उत्तर-पुस्तिका में लिखिए :

[1+1+1+1+1=5]

- (A) महानदी की मुख्य सहायक नदी
- (B) दुर्ग (बालोद) का लौह-अयस्क खदान
- (C) छत्तीसगढ़ की न्यायिक राजधानी
- (D) छत्तीसगढ़ का शिमला
- (E) छत्तीसगढ़ का एक प्रमुख एल्युमिनियम उद्योग

In the sign marked map of Chhattisgarh, identify the following and write their names in your answer-book :

- (A) Main tributary river of Mahanadi
- (B) Iron-ore mine of Durg (Balod)
- (C) The judicial capital in Chhattisgarh
- (D) The Shimla of Chhattisgarh
- (E) A prominent aluminium industry of Chhattisgarh



<https://www.cgboardonline.com>

<https://www.cgboardonline.com>

अथवा

OR

भारत के राजनीतिक सीमाकार मानचित्र में निम्नलिखित का पता लगाइए एवं मंकेंतों के

साथ लेबल कीजिए :

[10+10+5]

- (A) भारत का सबसे अधिक क्षेत्रफल वाला राज्य
- (B) अरावली पर्वत
- (C) कोलकाता से दिल्ली रेलमार्ग
- (D) नर्मदा नदी
- (E) भारत का मरुस्थल क्षेत्र

In the given political outline map of India locate and label the following with symbols :

- (A) The state having highest area in India
- (B) Aravalli Mountain

- (C) The train route of Delhi from Kolkata
- (D) Narmada river
- (E) Desert region of India

— x —

<https://www.cgboardonline.com>

Whatsapp @ 9300930012

Send your old paper & get 10/-

अपने पुराने पेपर्स भेजे और 10 रुपये पायें,

Paytm or Google Pay से