

Name :

Roll No. :

कुल प्रश्नों की संख्या : 22]

[कुल मुद्रित पृष्ठों की संख्या : 4

XIIHY-202102

विषय : भूगोल

समय : 3 घण्टे]

[पूर्णांक : 70

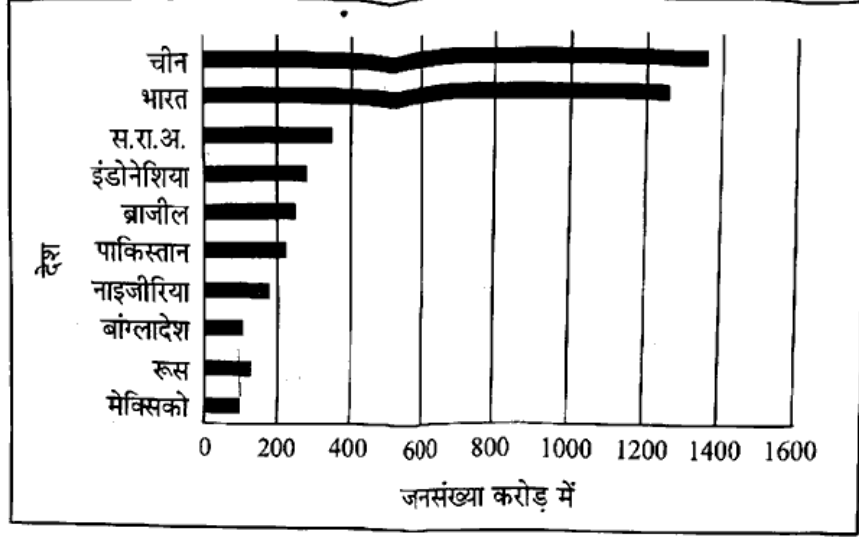
- निर्देश** :
- (i) सभी प्रश्न हल कीजिए।
 - (ii) आवश्यकतानुसार मानचित्र एवं रेखाचित्र बनाइए।
 - (iii) प्रश्न क्रमांक 1 से 7 तक अतिलघुउत्तरीय प्रश्न हैं। प्रत्येक प्रश्न पर 1 अंक निर्धारित है।
 - (iv) प्रश्न क्रमांक 8 से 13 तक लघुउत्तरीय प्रश्न हैं। प्रत्येक प्रश्न पर 3 अंक निर्धारित हैं।
(अधिकतम शब्द-सीमा 80 से 100 शब्द)
 - (v) प्रश्न क्रमांक 14 से 20 तक दीर्घउत्तरीय प्रश्न हैं। प्रत्येक प्रश्न पर 5 अंक निर्धारित हैं।
(अधिकतम शब्द-सीमा 150 शब्द)
 - (vi) प्रश्न क्रमांक 21 एवं 22 कौशल आधारित प्रश्न हैं। प्रत्येक प्रश्न पर 5 अंक निर्धारित हैं।
 - (vii) प्रश्न क्रमांक 10, 15, 16, 18 एवं 22 पर विकल्प हैं।

- | | | |
|----------|--|-----|
| प्रश्न-1 | जनसंख्या परिवर्तन के दो घटक लिखिए। | [1] |
| प्रश्न-2 | विश्व के कौन-से देश का जनसंख्या घनत्व सर्वाधिक है? | [1] |
| प्रश्न-3 | संतुलित आर्थिक विकास हेतु सरकार कौन-सी नीति अपनाती है? | [1] |
| प्रश्न-4 | फुटकर व्यापार किसे कहते हैं? | [1] |
| प्रश्न-5 | नोड किसे कहते हैं? | [1] |
| प्रश्न-6 | मानव विकास सूचकांक (2011) के संदर्भ में विश्व के देशों में भारत की निम्नलिखित में से कौन-सी कोटि थी? | [1] |
| | (i) 126 (ii) 128 (iii) 134 (iv) 129 | |

प्रश्न-7 भारत में पुरुष प्रवास के लिए जिम्मेदार मुख्य कारण लिखिए।

[1]

प्रश्न-8 दिए गए आरेख से निम्नांकित प्रश्नों के उत्तर दीजिए :



(i) एशिया में अवस्थित किन्हीं दो देशों के नाम लिखिए।

(ii) किस देश की जनसंख्या सर्वाधिक है?

(iii) किस देश की जनसंख्या न्यून है?

[1+1+1=3]

प्रश्न-9 सामूहिक कृषि की कोई तीन विशेषताएँ लिखिए।

[3]

प्रश्न-10 चतुर्थक क्रियाकलाप का संक्षिप्त वर्णन कीजिए।

[3]

अथवा

पंचम क्रियाकलाप का संक्षिप्त वर्णन कीजिए।

प्रश्न-11 ग्रामीण बस्ती के टी-आकार प्रतिरूप का रेखाचित्र बनाइए।

[3]

प्रश्न-12 प्रवास के तीन परिणाम का वर्णन कीजिए।

[3]

प्रश्न-13 गुच्छित बस्तियाँ और अर्द्ध-गुच्छित बस्तियों में अंतर लिखिए (कोई तीन)।

[3]

प्रश्न-14 मानव भूगोल की प्रकृति का वर्णन कीजिए।

[5]

प्रश्न-15 विश्व जनसंख्या वितरण को प्रभावित करने वाले कारकों का वर्णन कीजिए।

[5]

अथवा

जनसंख्या के ग्रामीण-नगरीय संघटन का वर्णन कीजिए।

- प्रश्न-16 विश्व के विभिन्न भागों में आयु-लिंग में असंतुलन के लिए उत्तरदायी कारकों की विवेचना कीजिए। [5]

अथवा

आयु-लिंग पिरामिड से क्या आशय है ? जनसंख्या पिरामिड की आकृति जनसंख्या की विशेषताओं को परिलक्षित करती है। विवेचना कीजिए।

- प्रश्न-17 कच्चे माल पर आधारित उद्योगों का वर्गीकरण कर प्रत्येक का संक्षिप्त वर्णन कीजिए। [5]

- प्रश्न-18 आधुनिक आर्थिक विकास में सेवा सेक्टर की सार्थकता और वृद्धि की चर्चा कीजिए। [5]

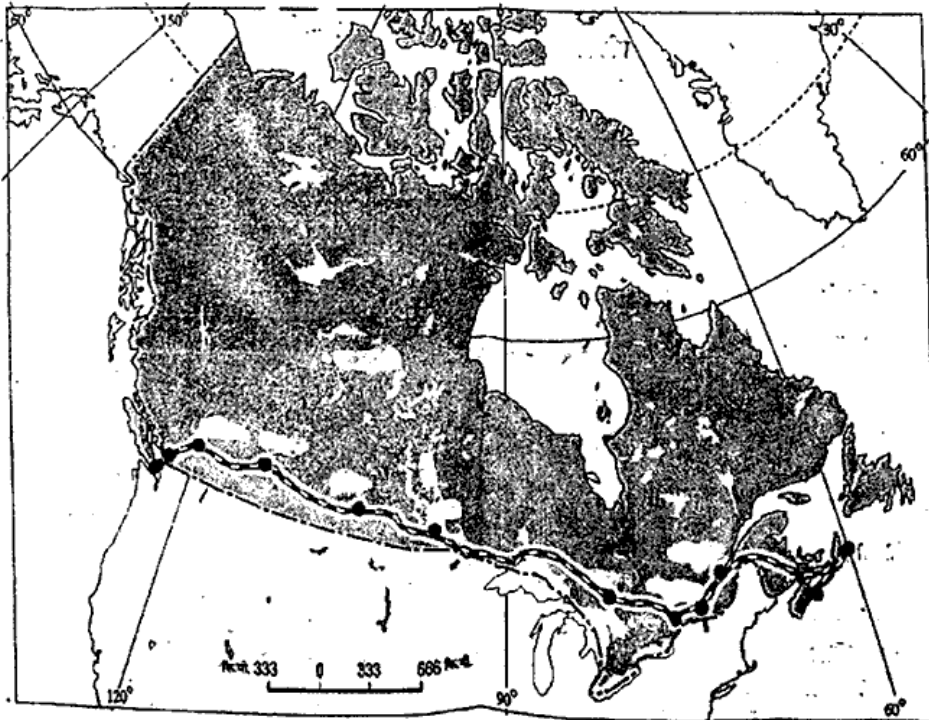
अथवा

परिवहन और संचार सेवाओं की सार्थकता को विस्तारपूर्वक स्पष्ट कीजिए।

- प्रश्न-19 जल-संभर प्रबंधन क्या है ? क्या आप सोचते हैं कि यह सतत् पोषणीय विकास में एक महत्वपूर्ण भूमिका अदा कर सकता है ? <https://www.cgboardonline.com> [5]

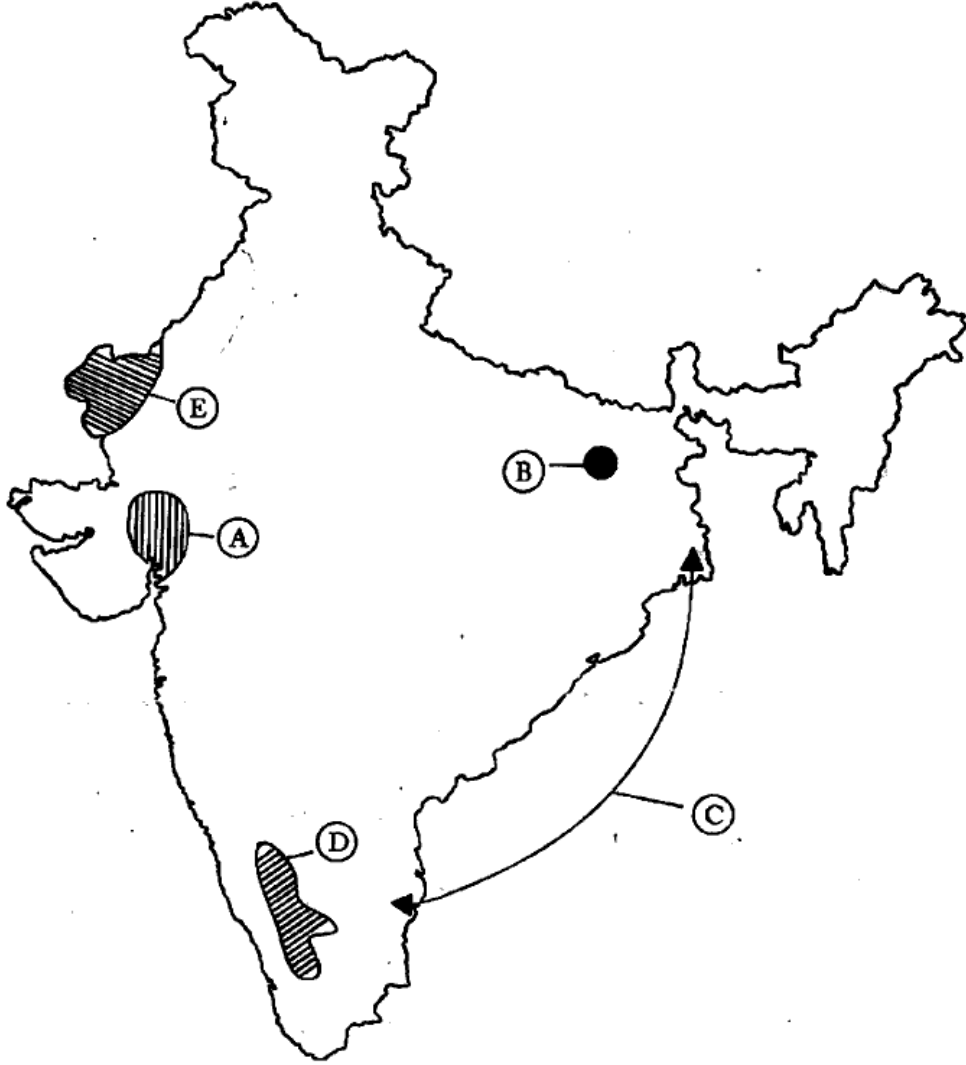
- प्रश्न-20 उद्योगों की स्थिति को प्रभावित करने वाले कारकों का वर्णन कीजिए (कोई पाँच)। [5]

- प्रश्न-21 दिए गए रेलमार्ग के आधार पर चिन्हांकित स्टेशनों के नाम लिखिए (कोई पाँच)। [5]



प्रश्न-22 दिए गए भारत के मानचित्र में प्रदर्शित A, B, C, D, E बिन्दुओं के नाम उत्तर पुस्तिका में लिखिए :

[5]



अथवा

दिए गए भारत के सीमाकार मानचित्र में निम्नांकित को प्रदर्शित कीजिए :

- (i) एक सूती वस्त्र उद्योग केन्द्र
- (ii) लक्षद्वीप
- (iii) सिंधु नदी बेसिन
- (iv) कर्क रेखा
- (v) मुख्य औद्योगिक क्षेत्र (कोई एक)

.....