

प्रादर्श प्रश्नपत्र –I

कक्षा 12वीं

विषय – भूगोल (102)

समय – 03 घण्टे

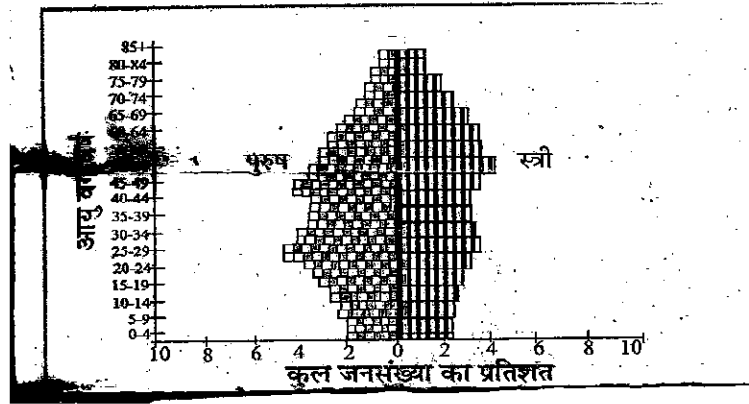
पूर्णांक – 70

निर्देश :-

1. सभी प्रश्न हल कीजिए।
2. प्रश्न क्रमांक 01 से 07 तक अतिलघुउत्तरीय प्रश्न हैं। प्रत्येक प्रश्न पर 1 अंक निर्धारित है।
3. प्रश्न क्रमांक 08 से 13 तक लघुउत्तरीय प्रश्न हैं। प्रत्येक प्रश्न 03 अंक निर्धारित हैं। अधिकतम शब्द सीमा 75 है।
4. प्रश्न क्रमांक 14 से 20 तक दीर्घलघुउत्तरीय प्रश्न हैं। प्रत्येक पर 05 अंक निर्धारित हैं। अधिकतम शब्द सीमा 150 शब्द है।
5. प्रश्न क्रमांक 21 एवं 22 कौशल संबंधी प्रश्न हैं। प्रत्येक प्रश्न पर 05 अंक निर्धारित हैं।
6. आवश्यकतानुसार चित्र एवं रेखाचित्रों का प्रयोग कीजिए।
7. प्रश्न क्रमांक 10, 15, 18 एवं 22 में आन्तरिक विकल्प हैं।

खण्ड - अ

- प्रश्न 1:- निम्न सूचकांक मूल्य वाले दो देशों के नाम लिखिए ?
 प्रश्न 2:- विश्व के कौन से देश का जनसंख्या घनत्व सर्वाधिक है?
 प्रश्न 3 :- च्यूडगम कैसे बनता है?
 प्रश्न 4:- सीमांत श्रमिक किसे कहते हैं?
 प्रश्न 5 :- डेसीबल किसे कहते हैं?
 प्रश्न 6 :- नदियों के प्रदूषण के लिये जिम्मेदार किन्हीं दो उद्योगों के नाम लिखिए ?
 प्रश्न 7 :- निम्नलिखित में से छत्तीसगढ़ की साक्षरता दर को पहचान कर लिखिए:-
 (1) 70.28% (2) 65.28% (3)72.28% (4)68.28%
 प्रश्न 8 :- दिये गये पिरामिड से निम्नांकित प्रश्नों के उत्तर दीजिए :-



- (i) यह पिरामिड जनसंख्या की किस प्रवृत्ति को दर्शाता है?
 (ii) विकास की दृष्टि से यह पिरामिड किस श्रेणी में आता है?
 (iii) दिया गया पिरामिड किस देश का है?
- प्रश्न 9 :- वाणिज्य पशुधन पालन, कृषि, चलवासी पशुचारण कृषि से किस प्रकार भिन्न है?
 कोई तीन कारण बताइये?
- प्रश्न 10 :- सूती वस्त्र उद्योग की स्थापना के लिए तीन आवश्यक भौगोलिक दशाओं का वर्णन कीजिए ?

अथवा

जर्मनी के रूहर कोयला क्षेत्र का वर्णन कीजिए ?

- प्रश्न 11 :- बस्ती के अर्ध-वृत्ताकार प्रतिरूप का रेखाचित्र बनाइए ?
 प्रश्न 12 :- भारत के जनसंख्या घनत्व को प्रभावित करने वाले कोई तीन कारकों का वर्णन कीजिए।
 प्रश्न 13 :- परिक्षिप्त बस्तियाँ तथा गुच्छित बस्तियों में कोई तीन अंतर स्पष्ट कीजिए।
 प्रश्न 14 :- मानव के प्रकृतिकरण की व्याख्या कीजिए ?
 प्रश्न 15 :- लिंगानुपात का अर्थ बताते हुए विश्व के लिंगानुपात में महिलाओं के प्रतिकूल होने के चार कारण लिखिए ?

अथवा

मानव विकास का अर्थ बताते हुए मानव विकास के चार स्तंभों को समझाइए।

प्रश्न 16 :- स्वेज नहर का रेखाचित्र बनाकर, उसका महत्व लिखिए।

अथवा

साइबर स्पेस पर टिप्पणी लिखिए।

प्रश्न 17 :- सतत् पोषणीय विकास का क्या अर्थ है ? सतत् पोषणीय विकास को बढ़ावा देने वाले उपायों का वर्णन कीजिए।

प्रश्न 18 :- वैश्वीकरण से क्या अभिप्राय है भारतीय परिपेक्ष्य में वैश्वीकरण का प्रभाव लिखिए।

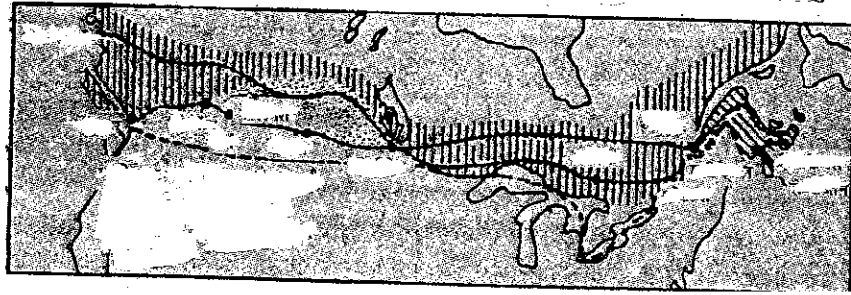
अथवा

भारत के पेट्रोलियम संसाधनों पर विस्तृत टिप्पणी लिखिए।

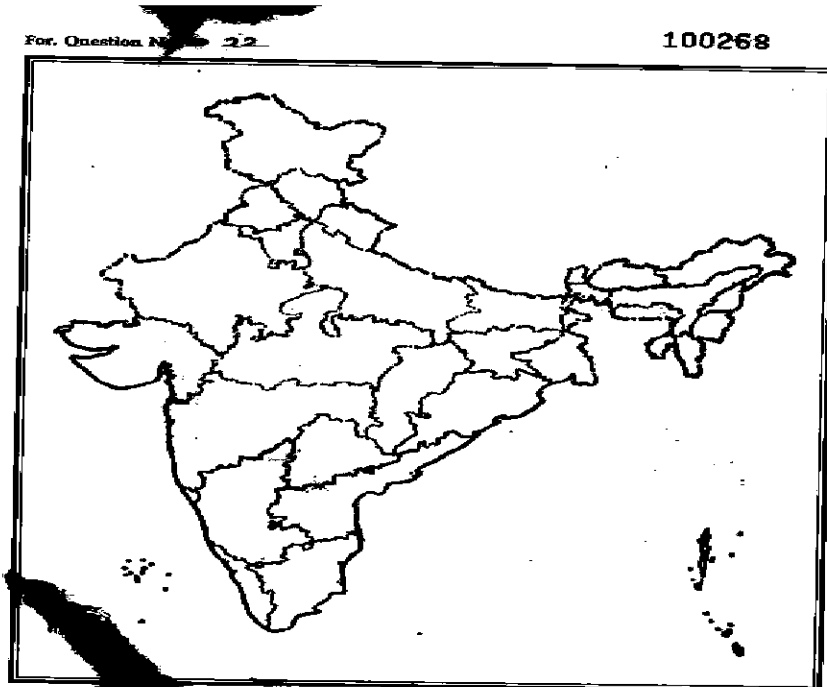
प्रश्न 19 :- भारत के आर्थिक विकास में सड़कों की भूमिका का वर्णन कीजिए।

प्रश्न 20 :- भिलाई इस्पात संयंत्र की अवस्थिति का विवरण देते हुए स्थानीयकरण के कोई 05 कारण बताइए।

प्रश्न 21:- दिये गये रेलमार्ग के आधार पर चिन्हांकित स्टेशनों के नाम प्रारंभिक एवं अंतिम स्टेशनों सहित लिखिए—



प्रश्न 22 :- भारत के सीमाकार मानचित्र में निम्नांकित को दर्शाइए —

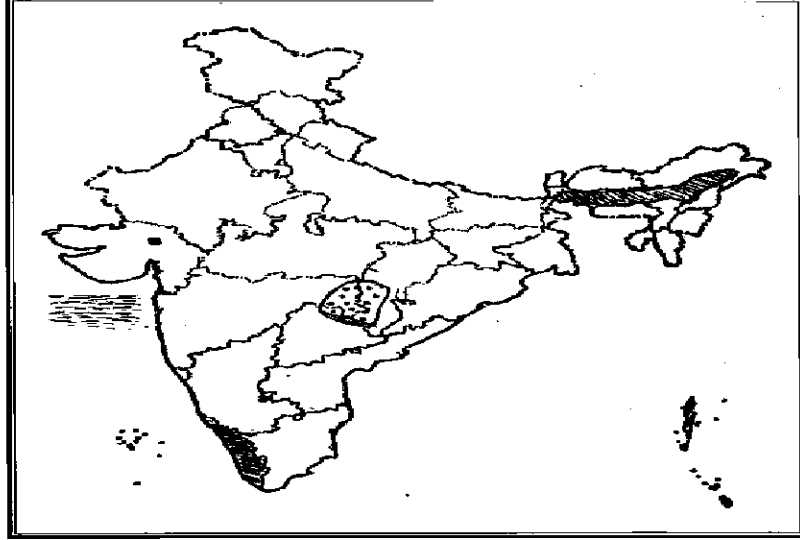


- (i) दिल्ली – चेन्नई रेल मार्ग
- (ii) समुद्री खनिज तेल उत्पादक क्षेत्र
- (iii) भारत का खनिज हृदय
- (iv) सांपों नदी
- (v) नीलगिरि पर्वत।

अथवा

For. Question No. 22 / अथवा

100260



दिए गए मानचित्र में प्रदर्शित बिंदुओं के नाम लिखिए :-

प्रादर्श प्रश्नपत्र –II

कक्षा 12वीं

विषय – भूगोल (102)

समय – 03 घण्टे

पूर्णांक – 70

निर्देश :-

1. सभी प्रश्न हल कीजिए।
2. प्रश्न क्रमांक 01 से 07 तक अतिलघुउत्तरीय प्रश्न हैं। प्रत्येक प्रश्न पर 1 अंक निर्धारित है।
3. प्रश्न क्रमांक 08 से 13 तक लघुउत्तरीय प्रश्न हैं। प्रत्येक प्रश्न 03 अंक निर्धारित हैं। अधिकतम शब्द सीमा 75 है।
4. प्रश्न क्रमांक 14 से 20 तक दीर्घलघुउत्तरीय प्रश्न हैं। प्रत्येक पर 05 अंक निर्धारित हैं। अधिकतम शब्द सीमा 150 शब्द है।
5. प्रश्न क्रमांक 21 एवं 22 कौशल संबंधी प्रश्न हैं। प्रत्येक प्रश्न पर 05 अंक निर्धारित हैं।
6. आवश्यकतानुसार चित्र एवं रेखाचित्रों का प्रयोग कीजिए।
7. प्रश्न क्रमांक 10, 15, 18 एवं 22 में आन्तरिक विकल्प हैं।

खण्ड – अ

प्रश्न 1:- लिंग अनुपात का सूत्र लिखिए ?

प्रश्न 2:- मानव विकास के दो प्रमुख घटक कौन से हैं?

प्रश्न 3 :- खट्टे फलों की आपूर्ति किस प्रदेश से की जाती है?

प्रश्न 4:- प्रवास प्रवाह क्या हैं?

प्रश्न 5 :- अम्लीय वर्षा से क्या तात्पर्य है?

प्रश्न 6 :- छत्तीसगढ़ में वनभूमि का प्रतिशत है:-

(1) 44 प्रतिशत (2) 46 प्रतिशत (3) 40 प्रतिशत (3) 42 प्रतिशत

प्रश्न 7:- सरकार कौन सी घोषणा फसलों को सहायता देने के लिए करती है ?

प्रश्न 8 :- आयु संरचना की किन्हीं तीन विशेषताएँ लिखिए।

प्रश्न 9 :- मिश्रित कृषि की तीन विशेषताएँ लिखिए।

अथवा

पैकेट स्टेशन, टैंकर पत्तन से किस प्रकार भिन्न है? (तीन बिंदु)

प्रश्न 10 :- गहन कृषि का वर्णन कीजिए।

प्रश्न 11 :- निहारकीय प्रतिरूप का रेखाचित्र बनाइए।

प्रश्न 12 :- प्रवास किसे कहते हैं ? तथा उसके प्रकारों को लिखिए।

प्रश्न 13 :- क्या कारण है कि बस्तियाँ पर्वतीय क्षेत्रों में दूर -दूर होती हैं और मैदानी क्षेत्रों में पास -पास होती हैं?

प्रश्न 14 :- मानव भूगोल के विषय क्षेत्र को समझाइये ।

प्रश्न 15 :- विश्व में जनसंख्या वितरण के प्रारूप को समझाइए ?

प्रश्न 16 :- आदिकालीन निर्वाह कृषि, गहन निर्वाह कृषि से किस प्रकार भिन्न है, उदाहरण सहित स्पष्ट कीजिए ?

अथवा

टेयरी कृषि मिश्रित कृषि से किस प्रकार भिन्न है उदाहरण देकर समझाइए।

प्रश्न 17 :- कृषि के प्रकारों का वर्णन कीजिए ?

अथवा

भारतीय कृषि की किन्हीं पाँच समस्याओं का वर्णन कीजिए।

प्रश्न 18 :- भारत में सिंचाई के निरंतर व बढ़ती हुई आवश्यकता के कारणों को स्पष्ट कीजिए।


अथवा

वर्षा जल संग्रहण को सचित्र समझाइए।

प्रश्न 19 :- पनामा नहर का रेखाचित्र बनाकर उसका महत्व लिखिए।

प्रश्न 20 :- छत्तीसगढ़ में जल संसाधन की उपलब्धता को समझाते हुए सिंचाई के अन्य साधनों का वर्णन कीजिए।

प्रश्न 21:- दिये गये रेलमार्ग के आधार पर चिन्हांकित स्टेशनों के नाम लिखिए -



प्रश्न 22 :- भारत के सीमाकार मानचित्र में निम्नांकित को प्रदर्शित कीजिए :-

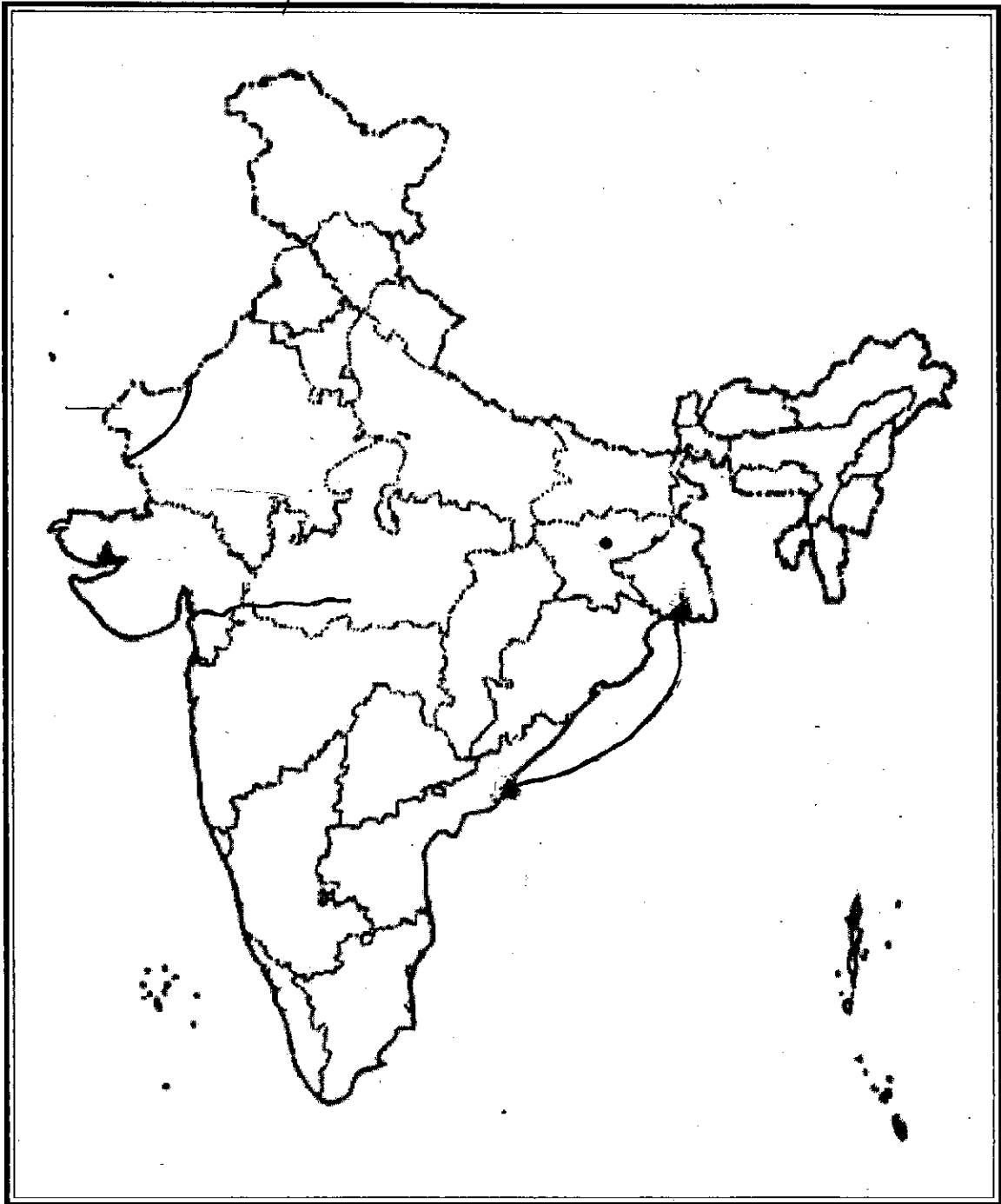
For. Question No. 22

100267



- (i) महानदी बेसिन क्षेत्र
- (ii) तूती कोरिन बंदरगाह
- (iii) एक तेल शोधन शाला
- (iv) कर्क रेखा
- (v) छत्तीसगढ़ का परंपरागत ऊर्जा स्रोत।

अथवा



दिए गए मानचित्र में प्रदर्शित बिंदुओं के नाम लिखिए :-