

अनुक्रमांक

नाम

932

825(BY)

2022

सामाजिक विज्ञान

(Hindi and English Versions)

समय : तीन घण्टे 15 मिनट] [पूर्णांक : 70

नोट : प्रारम्भ के 15 मिनट परीक्षार्थियों को प्रश्नपत्र पढ़ने के लिए निर्धारित हैं ।

Note : First 15 minutes are allotted for the candidates to read the question paper.

निर्देश : i) यह प्रश्नपत्र दो खण्डों क एवं ख में विभाजित है। प्रत्येक खण्ड के सभी प्रश्न एक साथ हल करना आवश्यक है। प्रत्येक खण्ड का उत्तर नए पृष्ठ से प्रारम्भ किया जाय।

ii) प्रत्येक प्रश्न के लिए निर्धारित अंक उसके सम्मुख अंकित हैं।

825(BY)

2

- iii) प्रश्नपत्र में चार प्रकार के प्रश्न हैं — बहुविकल्पीय, अति लघु उत्तरीय, लघु उत्तरीय व दीर्घ उत्तरीय, जिनके सम्बन्ध में निर्देश उनके आरम्भ में दिये गये हैं।
- iv) क तथा ख खण्डों हेतु दिये गये मानचित्रों को उत्तर-पुस्तिका में मजबूती के साथ संलग्न करना आवश्यक है।
- v) दृष्टिबाधित परीक्षार्थियों के लिये मानचित्र कार्य के स्थान पर अलग से खण्ड - क में प्रश्न संख्या 14 तथा खण्ड - ख में प्रश्न संख्या 28 के उत्तर लिखने के लिये दिये गये हैं।

Instructions :

- i) This question paper is divided into two Parts A & B. Attempt all the questions of each part together at one place. Each part should be attempted on a new page.
- ii) Marks allotted for each question are mentioned against it.
- iii) This question paper contains four types of questions — Multiple-choice type, Very Short Answer type, Short Answer type and Long Answer type. Instructions have been given at the beginning of each type of question.

- iv) Attach firmly the supplied maps for Parts - A & B to your answer-book.
- v) For vision-impaired examinees Question No. 14 in Part-A and Question No. 28 in Part-B have been given separately for writing answers in lieu of map work.

खण्ड - क

PART - A

(बहुविकल्पीय प्रश्न)

(Multiple Choice Type Questions)

निर्देश : निम्नलिखित विकल्पों में से सही उत्तर चुनकर अपनी उत्तर-पुस्तिका में लिखिए :

Instruction : Choose the correct answer from the given alternatives and write in your answer-book :

1. फ्रांस की क्रान्ति कब हुई थी ?
क) 1688 ख) 1789
ग) 1914 घ) 1939. 1
1. When did French Revolution take place ?
a) 1688 b) 1789
c) 1914 d) 1939. 1
2. भारत में शिक्षक दिवस कब मनाया जाता है ?
क) 10 दिसम्बर ख) 14 नवम्बर
ग) 5 सितम्बर घ) 15 अगस्त। 1

2. When is Teacher's Day celebrated in India ?
a) 10th December
b) 14th November
c) 5th September
d) 15th August. 1
3. भारत में 'राष्ट्रपिता' कह कर किसको सम्बोधित किया जाता है ?
क) महात्मा गाँधी
ख) जवाहरलाल नेहरू
ग) सुभाषचन्द्र बोस
घ) गोपाल कृष्ण गोखले। 1
3. Who is addressed by the name of 'Father of Nation' in India ?
a) Mahatma Gandhi
b) Jawaharlal Nehru
c) Subhash Chandra Bose
d) Gopal Krishna Gokhale. 1
4. संयुक्त राष्ट्रसंघ का मुख्यालय कहां पर है ?
क) जेनेवा ख) न्यूयार्क
ग) द हेग घ) इनमें से कोई नहीं। 1
4. Where is the Headquarters of United Nations Organisation situated ?
a) Geneva b) New York
c) The Hague d) None of these. 1
5. भारतीय राष्ट्रीय कांग्रेस की स्थापना कब हुई थी ?
क) 1885 ख) 1904
ग) 1857 घ) 1855 1

5. When was Indian National Congress established ?

- a) 1885 b) 1904
c) 1857 d) 1855. 1

6. लिखित संविधान भारत में कब लागू हुआ ?

- क) 15 अगस्त ख) 14 अगस्त
ग) 10 दिसम्बर घ) 26 जनवरी। 1

6. When did the written constitution come into force in India ?

- a) 15th August b) 14th August
c) 10th December d) 26th January. 1

(अति लघु उत्तरीय प्रश्न)

(Very Short Answer Type Questions)

7. भारत के किन्हीं दो पड़ोसी देशों के नाम लिखिए। 1 + 1

7. Write the names of any *two* neighbouring countries of India. 1 + 1

8. भारतीय विदेश नीति के कोई दो सिद्धान्त बताइए। 1 + 1

8. State any *two* principles of Indian foreign policy. 1 + 1

9. संयुक्त राष्ट्रसंघ की सुरक्षा परिषद के दो स्थायी सदस्य देशों के नाम लिखिए। 1 + 1

9. Write the names of *two* permanent member countries of Security Council of United Nations Organisation. 1 + 1

(लघु उत्तरीय प्रश्न)

(Short Answer Type Questions)

10. भारत छोड़ो आन्दोलन के किन्हीं तीन कारणों का उल्लेख कीजिए। 1 + 1 + 1

अथवा

भारत में लोकतंत्र की सफलता के लिए आवश्यक किन्हीं तीन दशाओं का उल्लेख कीजिए। 1 + 1 + 1

10. Write any *three* causes of Quit India Movement. 1 + 1 + 1

OR

Describe any *three* essential conditions for the success of Democracy in India. 1 + 1 + 1

11. असहयोग आन्दोलन के मुख्य कारण क्या थे ? 3

अथवा

प्रथम विश्वयुद्ध के किन्हीं तीन परिणामों का उल्लेख कीजिए। 1 + 1 + 1

11. What was the main cause of Non-cooperation movement ? 3

OR

Describe any *three* consequences of first world war. 1 + 1 + 1

(दीर्घ उत्तरीय प्रश्न)

(Long Answer Type Questions)

12. यूरोप में राष्ट्रवाद के विकास में संस्कृति के योगदान को दर्शाने के लिए तीन उदाहरण दें। 2 + 2 + 2

अथवा

जर्मनी के एकीकरण की प्रक्रिया के बारे में एक संक्षिप्त लेख लिखिए। 6

12. Give three examples to show the contribution of culture to the growth of nationalism in Europe. 2 + 2 + 2

OR

Describe a short account on the process of integration of Germany. 6

13. लोकतांत्रिक शासन की किन्हीं दो चुनौतियों का उल्लेख कीजिए। 3 + 3

अथवा

भारतीय लोकतंत्र में राजनीतिक दलों की भूमिका का वर्णन कीजिए। 6

13. Mention any two challenges of a democratic government. 3 + 3

OR

Describe the role of political parties in Indian democracy. 6

(मानचित्र सम्बन्धी प्रश्न)

(Map Work)

निर्देश : निम्नलिखित स्थानों को भारत के दिये गये रेखा मानचित्र में ⊙ चिह्न द्वारा नाम सहित दर्शाइए। सही नाम तथा सही स्थान अंकन के लिये $\frac{1}{2}$, $\frac{1}{2}$ अंक निर्धारित हैं :

Instruction : In the given outline map of India locate the following places by the symbol ⊙ with names. For correct mention of name and location $\frac{1}{2}$, $\frac{1}{2}$ marks have been allotted.

14. i) वह स्थान जहाँ भारतीय राष्ट्रीय कांग्रेस का प्रथम अधिवेशन हुआ था। $\frac{1}{2} + \frac{1}{2}$
- ii) वह स्थान जहाँ सितम्बर, 1920 में भारतीय राष्ट्रीय कांग्रेस का अधिवेशन हुआ। $\frac{1}{2} + \frac{1}{2}$
- iii) वह स्थान जहाँ 1927 में भारतीय राष्ट्रीय कांग्रेस का अधिवेशन हुआ। $\frac{1}{2} + \frac{1}{2}$
- iv) वह स्थान जहाँ आनन्द भवन स्थित है। $\frac{1}{2} + \frac{1}{2}$
- v) वह स्थान जहाँ प्रसिद्ध स्वर्ण मन्दिर स्थित है। $\frac{1}{2} + \frac{1}{2}$
14. i) The place where first conference of Indian National Congress was held. $\frac{1}{2} + \frac{1}{2}$
- ii) The place where Indian National Congress session in September, 1920 took place. $\frac{1}{2} + \frac{1}{2}$

16. Which among the following resources is recyclable ?
 a) Iron b) Wind energy
 c) Tidal energy d) Livestock. 1
17. कोरबा प्रसिद्ध है
 क) प्राकृतिक गैस के लिए
 ख) कोयला के लिए
 ग) सौर ऊर्जा के लिए
 घ) बॉक्साइट के लिए। 1
17. Korba is famous for
 a) Natural gas b) Coal
 c) Solar energy d) Bauxite. 1
18. निम्न में से कौन-सी रेशदार फसल है ?
 क) कपास ख) जूट
 ग) प्राकृतिक रेशम घ) इनमें से सभी। 1
18. Which among the following is a fibrous crop ?
 a) Cotton b) Jute
 c) Natural silk d) All of these. 1
19. निम्न पड़ोसी देशों में से मानव विकास के लिहाज से किस देश की स्थिति भारत से बेहतर है ?
 क) बांग्लादेश ख) श्रीलंका
 ग) नेपाल घ) पाकिस्तान। 1
19. Which among the following neighbouring countries has better position in terms of human development than India ?
 a) Bangladesh b) Sri Lanka
 c) Nepal d) Pakistan. 1

20. एक वस्तु का अधिकांशतः प्राकृतिक प्रक्रिया से उत्पादन सम्मिलित है
 क) प्राथमिक क्षेत्रक में
 ख) द्वितीयक क्षेत्रक में
 ग) तृतीयक क्षेत्रक में
 घ) सूचना प्रौद्योगिकी में। 1
20. Production of a commodity mostly through the natural process is included in
 a) Primary sector
 b) Secondary sector
 c) Tertiary sector
 d) Information Technology. 1

(अति लघु उत्तरीय प्रश्न)

(Very Short Answer Type Questions)

21. अपुनर्चक्रिय प्राकृतिक संसाधन किसे कहते हैं ? कोई दो उदाहरण दीजिए।
 $1 + \frac{1}{2} + \frac{1}{2}$
21. What is non-recyclable natural resource ? Give any two examples.
 $1 + \frac{1}{2} + \frac{1}{2}$
22. अर्थव्यवस्था के असंगठित क्षेत्र के श्रमिकों की कोई दो समस्याएँ लिखिए।
 $1 + 1$
22. Write any two problems of the labourers of unorganised sector of economy.
 $1 + 1$

23. अर्थव्यवस्था का कौन-सा क्षेत्रक लोगों को सर्वाधिक रोजगार प्रदान करता है ? 2
23. Which sector of economy does provide maximum employment to the people ? 2

(लघु उत्तरीय प्रश्न)

(Short Answer Type Questions)

24. अर्थव्यवस्था के तृतीयक क्षेत्र से आप क्या समझते हैं ? उदाहरण सहित बताइए। 1½ + 1½

अथवा

गन्ना के उत्पादन के लिए अनुकूल भौगोलिक दशाएँ बताइए। 3

24. What do you understand by tertiary sector of economy ? Write with examples. 1½ + 1½

OR

Give suitable geographical conditions for the cultivation of sugarcane. 3

25. ऊर्जा के परम्परागत स्रोतों किसे कहते हैं ? उदाहरण सहित बताइए। 1½ + 1½

अथवा

विकास की पारम्परिक अवधारणा से आप क्या समझते हैं ? 3

25. What are conventional sources of energy ? State with examples. 1½ + 1½

OR

What do you understand by the traditional concept of development ? 3

(दीर्घ उत्तरीय प्रश्न)

(Long Answer Type Questions)

26. प्राकृतिक संसाधन क्या हैं ? इनके संरक्षण की आवश्यकता क्यों है ? 3 + 3

अथवा

भारत में कृषि के महत्व पर एक संक्षिप्त टिप्पणी लिखिए। 6

26. What are natural resources ? Why there is a need for their preservation ? 3 + 3

OR

Write a short note on the importance of Agriculture in India. 6

27. वैश्वीकरण किसे कहते हैं ? वैश्वीकरण को सम्भव बनाने वाले कारक बताइए। 2 + 4

अथवा

उपभोक्ता के अधिकारों पर एक निबंध लिखिए। 6

27. What is globalisation ? Give the factors that have enabled globalisation. 2 + 4

OR

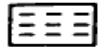



Write an essay on the rights of consumers.

<https://www.upboardonline.com> 6

(मानचित्र कार्य)
(Map Work)

निर्देश : दिये गये भारत के मानचित्र में निम्नलिखित को दर्शाइए :

Instruction : Show the following on the given map of India.

28. i) गोदावरी नदी / चिह्न द्वारा नाम सहित। $\frac{1}{2} + \frac{1}{2}$
 ii) नागार्जुन सागर बाँध ○ चिह्न द्वारा नाम सहित। $\frac{1}{2} + \frac{1}{2}$
 iii) दक्षिणी भारत में कॉफी उत्पादक क्षेत्र  चिह्न द्वारा। $\frac{1}{2} + \frac{1}{2}$
 iv) भारत के किसी एक जूट उत्पादक क्षेत्र  चिह्न द्वारा। $\frac{1}{2} + \frac{1}{2}$
 v) कोच्चि बन्दरगाह ● चिह्न द्वारा नाम सहित। $\frac{1}{2} + \frac{1}{2}$
28. i) Godavari river by symbol / with name. $\frac{1}{2} + \frac{1}{2}$
 ii) Nagarjuna Sagar Dam by symbol ○ with name. $\frac{1}{2} + \frac{1}{2}$
 iii) Coffee producing area in south India by symbol  . $\frac{1}{2} + \frac{1}{2}$
 iv) Any one Jute producing area in India by symbol  . $\frac{1}{2} + \frac{1}{2}$
 v) Kochchi port by symbol ● with name. $\frac{1}{2} + \frac{1}{2}$

(केवल दृष्टिबाधित परीक्षार्थियों के लिये
मानचित्र कार्य के विकल्प के रूप में)

(Only for vision-impaired examinees in lieu of map work)

निर्देश : निम्नलिखित प्रश्नों के उत्तर अपनी उत्तर-पुस्तिका में लिखिए। मानचित्र का प्रयोग न कीजिए।

Instruction : Write answers of the following questions in your answer-book. Do not use the map.

28. i) गोदावरी नदी देश के किस भाग में बहती है ? 1
 ii) नागार्जुन सागर बाँध किस नदी में बना है ? 1
 iii) दक्षिण भारत में कहवा (कॉफी) उत्पादक किसी एक राज्य का नाम लिखिए। 1
 iv) भारत में जूट उत्पादक किसी एक राज्य का नाम लिखिए। 1
 v) कोच्चि बन्दरगाह किस राज्य में है ? 1
28. i) In which part of the country does Godavari river flow ? 1
 ii) On which river is Nagarjuna Sagar Dam constructed ? 1
 iii) Write the name of any one coffee producing state in south India. 1
 iv) Write the name of any one Jute producing state in India. 1
 v) In which state is Kochchi port ? 1

825(BY) - 4,40,000