

अनुक्रमांक

upboardonline.com

नाम

932

825(CF)

2017

सामाजिक विज्ञान

केवल प्रश्नपत्र

( ऐतिहासिक एवं सांस्कृतिक विरासत, पर्यावरणीय अध्ययन,  
नागरिक जीवन एवं आर्थिक विकास )

समय : तीन घण्टे 15 मिनट ] [ पूर्णांक : 70

निर्देश : प्रारम्भ के 15 मिनट परीक्षार्थियों को प्रश्नपत्र  
पढ़ने के लिए निर्धारित हैं। upboardonline.com

निर्देश : i) यह प्रश्नपत्र दो खण्डों क एवं ख में  
विभाजित है। प्रत्येक खण्ड के सभी प्रश्न एक  
साथ हल करना आवश्यक है। प्रत्येक खण्ड  
का उत्तर नए पृष्ठ से प्रारम्भ किया जाय।

- ii) प्रत्येक प्रश्न के लिए निर्धारित अंक उसके  
सम्मुख अंकित हैं।
- iii) प्रश्नपत्र में चार प्रकार के प्रश्न हैं —  
बहुविकल्पीय, अति लघु उत्तरीय, लघु उत्तरीय  
व विस्तृत उत्तरीय, जिनके सम्बन्ध में निर्देश  
उनके आरम्भ में दिये गये हैं।
- iv) क तथा ख खण्डों हेतु दिये गये मानचित्रों को  
उत्तर-पुस्तिका में मजबूती के साथ संलग्न  
करना आवश्यक है। upboardonline.com
- v) दृष्टिबाधित परीक्षार्थियों के लिये मानचित्र  
कार्य के स्थान पर अलग से खण्ड - क में  
प्रश्न संख्या 14 तथा खण्ड - ख में  
प्रश्न संख्या 28 के उत्तर लिखने के लिये  
दिये गये हैं।

## खण्ड - क

( बहुविकल्पीय प्रश्न )

निर्देश : निम्नलिखित विकल्पों में से सही उत्तर चुनकर अपनी उत्तर-पुस्तिका में लिखिए :

1. टामस मूर था एक महान
  - (क) वैज्ञानिक
  - (ख) मूर्तिकार
  - (ग) चित्रकार
  - (घ) लेखक।
2. समुद्री मार्ग से उत्तम आशा अन्तरीप (केप ऑफ गुड होप) पहुँचने वाला प्रथम यूरोपवासी कौन था ?
  - (क) बारथोलोम्यु डियाज
  - (ख) कैबोट
  - (ग) डेविड लिविंग्स्टोन
  - (घ) वास्को डि गामा।

upboardonline.com

1

1

upboardonline.com

3. कैथोलिक चर्च के विरुद्ध आवाज उठाने वाला धर्म-सुधारक जिंंगली किस देश का निवासी था ?

(क) जर्मनी

(ख) स्विट्जरलैण्ड

(ग) फ्रांस

(घ) स्पेन।

1

4. हिन्दुस्तान सोशलिस्ट रिपब्लिकन एसोसियेशन का संस्थापक निम्नलिखित में से कौन था ?

(क) अशफाक उल्ला खाँ

(ख) शचीन्द्रनाथ सान्याल

(ग) चन्द्रशेखर आजाद

(घ) योगेश चटर्जी।

1

5. दक्षिण एशियाई क्षेत्रीय सहयोग संगठन (दक्षेस) की स्थापना करने में निम्नलिखित में से किसने पहल की थी ?

(क) जिया-उर-रहमान (बांग्लादेश)

(ख) मोहम्मद नशीद (मालदीव)

(ग) राजीव गाँधी (भारत)

(घ) महिन्द्रा राजपक्षे (श्रीलंका)। 1

6. निम्नलिखित में से कौन-सा संस्थान खड़कवासला में स्थित है ?

(क) इन्डियन मिलिट्री अकादमी

(ख) नेशनल डिफेन्स अकादमी

(ग) ऑफिसर्स ट्रेनिंग अकादमी

(घ) जूनियर लीडर्स अकादमी। 1

( अति लघु उत्तरीय प्रश्न )

7. प्रथम विश्व युद्ध का तात्कालिक कारण क्या था ? 2

8. लोक आयुक्त की नियुक्ति कौन करता है ? उसका कार्यकाल कितना होता है ? 1 + 1

9. गुटनिरपेक्ष आन्दोलन का सूत्रपात करने वाले चार नेताओं के नाम लिखिए।  $\frac{1}{2} + \frac{1}{2} + \frac{1}{2} + \frac{1}{2}$

( लघु उत्तरीय प्रश्न )

10. लुई 16 वें को एस्टेट्स जनरल का अधिवेशन क्यों बुलाना पड़ा ? उसका क्या परिणाम हुआ ? 1 + 2

upboardonline.com

अथवा

1917 की रूसी क्रान्ति के तीन कारणों पर प्रकाश डालिये। 1 + 1 + 1

11. अन्तरराष्ट्रीय श्रम संगठन का मुख्यालय कहाँ है ? इस में कितने सदस्य होते हैं ? इसका मुख्य कार्य क्या है ?  $\frac{1}{2} + \frac{1}{2} + 2$

अथवा

upboardonline.com

दक्षेस का मुख्य न्यायालय कहाँ है ? इसके सदस्य देशों के नाम लिखिए। इसके मुख्य उद्देश्य क्या है ?

$$\frac{1}{2} + 2 + \frac{1}{2}$$

( दीर्घ उत्तरीय प्रश्न )

12. निम्नलिखित मुस्लिम सामाजिक-धार्मिक सुधार आन्दोलनों पर संक्षेप में प्रकाश डालिए :

(अ) वहाबी आन्दोलन

(ब) अलीगढ़ आन्दोलन

upboardonline.com

(स) देवबन्द आन्दोलन।

$$1\frac{1}{2} + 3 + 1\frac{1}{2}$$

अथवा

निम्नलिखित संगठनों के उद्देश्यों पर संक्षेप में प्रकाश डालिए :

(अ) ब्रह्म समाज

(ब) आर्य समाज

(स) सत्य शोधक मण्डल।

$$2 + 2 + 2$$

825(CF)

8

13. संसद में वित्त विधेयक पारित होने की क्या प्रक्रिया है ? दोनों सदनों में गत्यावरोध हो जाने पर वित्त विधेयक कैसे पारित होता है ?

$$4 + 2$$

अथवा

विधान सभा का निर्वाचन कैसे होता है ? यदि किसी भी दल को बहुमत प्राप्त न हो तो मंत्रिसंघ का गठन कैसे होता है ?

$$4 + 2$$

( मानचित्र सम्बन्धी प्रश्न )

निर्देश : निम्नलिखित स्थानों को भारत के रेखा मानचित्र में

○ चिह्न द्वारा नाम सहित दर्शाएँ। सही नाम तथा

सही अंकन के लिये  $\frac{1}{2}, \frac{1}{2}$  अंक निर्धारित हैं :

14. (i) वह नगर जहाँ बक्सर के युद्ध के बाद अंग्रेजों

और मुगल बादशाह के बीच सन्धि हुई थी।

$$\frac{1}{2}, \frac{1}{2}$$

(ii) वह नगर जहाँ ताना साहब ने 1857 के विद्रोह

के समय अधिकार कर लिया था।

$$\frac{1}{2}, \frac{1}{2}$$

(iii) वह नगर जहाँ 1920 ई० में गाँधीजी के असहयोग आन्दोलन का प्रस्ताव पारित हुआ था।

$$\frac{1}{2} + \frac{1}{2}$$

(iv) वह नगर जहाँ कांग्रेस और मुस्लिम लीग में 1916 ई० में समझौता हुआ था।

$$\frac{1}{2} + \frac{1}{2}$$

(v) वह नगर जहाँ 'भारत छोड़ो' प्रस्ताव 1942 ई० में पारित किया गया था।

$$\frac{1}{2} + \frac{1}{2}$$

( केवल दृष्टिबाधित परीक्षार्थियों के लिये  
upboardonline.com  
मानचित्र कार्य के विकल्प के रूप में )

निर्देश : निम्नलिखित प्रश्नों के उत्तर अपनी उत्तर-पुस्तिका में लिखिए। मानचित्र का प्रयोग न कीजिए।

14. (i) बक्सर के युद्ध के बाद अंग्रेजों और मुगल बादशाह के बीच कहाँ सन्धि हुई ? 1
- (ii) 1857 के विद्रोह के समय नाना साहब ने किस नगर पर अधिकार कर लिया था ? 1

(iii) गाँधीजी के असहयोग आन्दोलन का प्रस्ताव 1920 में किस नगर में पारित हुआ था ? 1

(iv) 1916 में कांग्रेस और मुस्लिम लीग के बीच किस नगर में समझौता हुआ था ? 1

(v) 1942 में 'भारत छोड़ो' आन्दोलन का प्रस्ताव कहाँ पारित हुआ था ? नगर का नाम लिखिए। 1

खण्ड - ख

upboardonline.com

( बहुविकल्पीय प्रश्न )

निर्देश : निम्नलिखित विकल्पों में से सही उत्तर चुनकर अपनी उत्तर-पुस्तिका में लिखिए :

15. गंगा नदी का उद्गम स्थल है

- (क) तिब्बत का पठार
- (ख) मानसरोवर झील
- (ग) गोमुख हिमनद
- (घ) नंगा पर्वत। 1

16. भारत का राष्ट्रीय पक्षी है  
 (क) गौरैया  
 (ख) तोता  
 (ग) कबूतर  
 (घ) मोर। 1
17. निम्न में से कौन प्राकृतिक आपदा नहीं है ?  
 (क) सुनामी  
 (ख) बाढ़  
 (ग) वैश्विक तापन  
 (घ) ज्वालामुखी विस्फोट। 1
18. 'गाँधी टोपी' का बाजार है  
 (क) स्थानीय  
 (ख) प्रादेशिक  
 (ग) राष्ट्रीय  
 (घ) अन्तरराष्ट्रीय। 1

19. भारतीय रिजर्व बैंक का राष्ट्रीयकरण किया गया  
 (क) 1935 में  
 (ख) 1947 में  
 (ग) 1949 में  
 (घ) 1951 में। 1
20. भारतीय निर्यात व्यापार की वस्तु है  
 (क) खनिज तेल  
 (ख) दवाइयाँ  
 (ग) कपास  
 (घ) चाय। 1

( अति लघु उत्तरीय प्रश्न )

21. भारत के किन्हीं दो अभ्रक उत्पादक राज्यों के नाम लिखिए। 1 + 1
22. विकसित देश से आप क्या समझते हैं ? किसी एक विकसित देश का नाम लिखिए। 1 + 1

23. सार्वजनिक वितरण प्रणाली के कोई दो लाभ बताइए।

1 + 1

( लघु उत्तरीय प्रश्न )

24. ऊर्जा संसाधनों से आप क्या समझते हैं ? किन्हीं दो पारम्परिक ऊर्जा संसाधनों के नाम बताइए। 1 + 1 + 1

अथवा

पूर्वी समुद्र तटीय मैदान की स्थिति एवं विस्तार का वर्णन कीजिए।  $1\frac{1}{2} + 1\frac{1}{2}$

25. पूंजी किसे कहते हैं ? पूंजी की दो विशेषताएँ बताइए।

1 + 1 + 1

अथवा

राज्य सरकारों की आय के तीन स्रोत बताइए।

1 + 1 + 1

( दीर्घ उत्तरीय प्रश्न )

26. भारत में जनसंख्या वृद्धि के नियंत्रण के छः उपाय बताइए। 1 + 1 + 1 + 1 + 1 + 1

अथवा

भारत में चीनी उद्योग का विवरण निम्न शीर्षकों के अन्तर्गत दीजिए : upboardonline.com

(अ) कच्चे माल की उपलब्धता

(ब) उद्योग के केन्द्र। 3 + 3

27. कृषि निविष्टि से आप क्या समझते हैं ? किन्हीं पाँच कृषि निविष्टियों का वर्णन कीजिए।

1 + 1 + 1 + 1 + 1 + 1


अथवा


भारतीय कृषि के पिछड़ेपन के छः कारण बताइए।

1 + 1 + 1 + 1 + 1 + 1

( मानचित्र कार्य )


निर्देश : निम्नलिखित को दिये गये भारत के मानचित्र में दर्शाइए :


28. (i) अरावली पर्वत श्रेणी  चिह्न द्वारा नाम सहित।  $\frac{1}{2} + \frac{1}{2}$

(ii) एक चाय उत्पादक क्षेत्र  चिह्न द्वारा। 1

(iii) मेरठ नगर • चिह्न द्वारा नाम सहित।  $\frac{1}{2} + \frac{1}{2}$

upboardonline.com

(iv) सीमेण्ट उद्योग का एक केन्द्र  चिह्न द्वारा नाम सहित।  $\frac{1}{2} + \frac{1}{2}$

(v) बिहार राज्य की राजधानी  चिह्न द्वारा नाम सहित।  $\frac{1}{2} + \frac{1}{2}$

( केवल दृष्टिबाधित परीक्षार्थियों के लिये मानचित्र कार्य के विकल्प के रूप में )

निर्देश : निम्नलिखित प्रश्नों के उत्तर अपनी उत्तर-पुस्तिका में लिखिए। मानचित्र का प्रयोग न कीजिए।

28. (i) हिमालय पर्वत श्रेणी की दो चोटियों के नाम लिखिए। upboardonline.com  $\frac{1}{2} + \frac{1}{2}$

(ii) दक्षिण भारत की दो नदियों के नाम लिखिए।  $\frac{1}{2} + \frac{1}{2}$

(iii) सूती वस्त्र उद्योग के दो केन्द्रों के नाम लिखिए।  $\frac{1}{2} + \frac{1}{2}$

(iv) राजस्थान राज्य की राजधानी का नाम बताइए। 1

(v) कोयला उत्पादक दो राज्यों के नाम बताइए।  $\frac{1}{2} + \frac{1}{2}$

825(CF) - 5,70,000