

932

825(CH)

2017

सामाजिक विज्ञान

केवल प्रश्नपत्र

( ऐतिहासिक एवं सांस्कृतिक विरासत, पर्यावरणीय अध्ययन,  
नागरिक जीवन एवं आर्थिक विकास )

समय : तीन घण्टे 15 मिनट ] [ पूर्णांक : 70

निर्देश : प्रारम्भ के 15 मिनट परीक्षार्थियों को प्रश्नपत्र  
पढ़ने के लिए निर्धारित हैं ।

निर्देश : i) यह प्रश्नपत्र दो खण्डों क एवं ख में  
विभाजित है। प्रत्येक खण्ड के सभी प्रश्न एक  
साथ हल करना आवश्यक है। प्रत्येक खण्ड  
का उत्तर नए पृष्ठ से प्रारम्भ किया जाय।

376462

[ Turn over

825(CH)

2

- ii) प्रत्येक प्रश्न के लिए निर्धारित अंक उसके  
सम्मुख अंकित हैं।
- iii) प्रश्नपत्र में चार प्रकार के प्रश्न हैं —  
बहुविकल्पीय, अति लघु उत्तरीय, लघु उत्तरीय  
व विस्तृत उत्तरीय, जिनके सम्बन्ध में निर्देश  
उनके आरम्भ में दिये गये हैं।
- iv) क तथा ख खण्डों हेतु दिये गये मानचित्रों को  
उत्तर-पुस्तिका में मजबूती के साथ संलग्न  
करना आवश्यक है।
- v) दृष्टिबाधित परीक्षार्थियों के लिये मानचित्र  
कार्य के स्थान पर अलग से खण्ड - क में  
प्रश्न संख्या 14 तथा खण्ड - ख में  
प्रश्न संख्या 28 के उत्तर लिखने के लिये  
दिये गये हैं।

376462

खण्ड - क

( बहुविकल्पीय प्रश्न )

निर्देश : निम्नलिखित विकल्पों में से सही उत्तर  
चुनकर अपनी उत्तर-पुस्तिका में लिखिए :

1. यूरोप में पुनर्जागरण किस देश से प्रारम्भ हुआ ?
- (क) ~~इटली~~ से  
(ख) ~~फ्रांस~~ से  
(ग) ब्रिटेन से  
(घ) जर्मनी से । 1
2. नई दुनिया की खोज की
- (क) ~~वास्को डि गामा~~ ने  
(ख) मैगलेन ने  
(ग) केल्विन ने  
(घ) ~~कॉलम्बस~~ ने । 1

[ Turn over

3. योजना आयोग की स्थापना किस वर्ष हुई थी ?
- (क) 1951  
(ख) ~~1952~~  
(ग) 1953  
(घ) 1950. 1
4. बेगम हजरत महल किस नगर से सम्बन्धित थी ?
- (क) ~~अलीगढ़~~ से  
(ख) दिल्ली से  
(ग) ~~लखनऊ~~ से  
(घ) कानपुर से । 1
5. भारत में राज्यों की संख्या है
- (क) 28  
(ख) ~~29~~  
(ग) 30  
(घ) 31. 1

376462

5

825(CH)

6. भारत का प्रधानमंत्री किसके प्रति उत्तरदायी होता है ?

(क) राष्ट्रपति के प्रति

(ख) राज्यसभा के प्रति

~~(ग) लोकसभा के प्रति~~

(घ) सर्वोच्च न्यायालय के प्रति। 1

( अति लघु उत्तरीय प्रश्न )

7. अमेरिका में ब्रिटेन के कितने उपनिवेश थे ? अमेरिका की क्रान्ति किसके नेतृत्व में हुई ? 1 + 1

8. द्वितीय विश्वयुद्ध के दो कारण लिखिए। 1 + 1

9. राज्यपाल के किन्हीं दो अधिकारों (शक्तियों) का उल्लेख कीजिए। 1 + 1

376462

[ Turn over

825(CH)

6

( लघु उत्तरीय प्रश्न )

10. पंचशील के तीन सिद्धान्तों का उल्लेख कीजिए।

1 + 1 + 1

अथवा

यूनेस्को क्या है ? इसके किन्हीं दो कार्यों का उल्लेख कीजिए।

1 + 1 + 1

11. असहयोग आन्दोलन के कोई तीन कारण बताइए।

1 + 1 + 1

अथवा

'भारत छोड़ो आन्दोलन' के तीन प्रमुख बिन्दुओं को ईंगित कीजिए।

1 + 1 + 1

( दीर्घ उत्तरीय प्रश्न )

12. रूस को 1917 की क्रान्ति के कारणों व परिणामों की समीक्षा कीजिए।

3 + 3

अथवा

प्रथम विश्वयुद्ध के परिणामों पर प्रकाश डालिए। 6

376462

13. भारतीय संसद के कार्यों व शक्तियों का वर्णन कीजिए।

3 + 3

अथवा

दक्षेस की स्थापना व उद्देश्यों का वर्णन कीजिए। 2 + 4

( मानचित्र सम्बन्धी प्रश्न )

निर्देश : निम्नलिखित स्थानों को भारत के रेखा मानचित्र में

⊙ चिह्न द्वारा नाम सहित दर्शाइए। सही नाम तथा

सही अंकन के लिये  $\frac{1}{2}$ ,  $\frac{1}{2}$  अंक निर्धारित है :

14. (i) वह स्थान जहाँ पर सर सैयद अहमद खाँ ने

शिक्षण संस्था की स्थापना की।  $\frac{1}{2} + \frac{1}{2}$

(ii) वह स्थान जहाँ से 1857 की क्रान्ति प्रारम्भ

हुई थी। <https://www.upboardonline.com>  $\frac{1}{2} + \frac{1}{2}$

(iii) वह जनपद जहाँ चौरी चौरा काण्ड हुआ था।

$\frac{1}{2} + \frac{1}{2}$

(iv) वह नगर जहाँ ताजमहल स्थित है।  $\frac{1}{2} + \frac{1}{2}$

(v) वह स्थान जहाँ गौतम बुद्ध ने अपना प्रथम उपदेश

दिया।  $\frac{1}{2} + \frac{1}{2}$

( केवल दृष्टिबाधित परीक्षार्थियों के लिये

मानचित्र कार्य के विकल्प के रूप में )

निर्देश : इन प्रश्नों के उत्तर अपनी उत्तर-पुस्तिका में लिखिए। मानचित्र का प्रयोग न कीजिए।

14. (i) सर सैयद अहमद खाँ द्वारा स्थापित शिक्षण संस्थान कहाँ स्थित है ? 1

(ii) 1857 की क्रान्ति किस स्थान से प्रारम्भ हुई ? 1

(iii) चौरी चौरा काण्ड किस जनपद में हुआ था ? 1

(iv) ताजमहल किस नगर में बना हुआ है ? 1

(v) गौतम बुद्ध ने किस स्थान पर अपना पहला उपदेश दिया था ? 1

खण्ड - ख

( बहुविकल्पीय प्रश्न )

निर्देश : निम्नलिखित विकल्पों में से सही उत्तर चुनकर अपनी उत्तर-पुस्तिका में लिखिए :

15. निम्नलिखित में से किस राज्य में टाटा लौह-इस्पात संयंत्र स्थापित है ?

(क) मध्य प्रदेश

(ख) बिहार

~~(ग) झारखण्ड~~

(घ) छत्तीसगढ़।

1

16. अनावृष्टि से होने वाली आपदा को कहा जाता है

(क) चक्रवात

(ख) ग्लामी

~~(ग) धाढ़~~

(घ) सूखा।

1

376462

[ Turn over

17. निम्नांकित राज्यों में से सबसे अधिक साक्षरता दर है

(क) पंजाब

(ख) केरल

(ग) महाराष्ट्र

(घ) पश्चिम बंगाल।

1

18. निम्नलिखित में से कौन ऊर्जा संसाधन नहीं है ?

(क) जल

(ख) पेट्रोलियम

(ग) कोयला

~~(घ) मैंगनीज।~~

1

19. भू-राजस्व आय का साधन है

(क) केन्द्र सरकार का

(ख) राज्य सरकार का

(ग) ग्राम पंचायतों का

(घ) नगरपालिकाओं का।

1

376462

20. निम्नलिखित में से कौन अन्तरराष्ट्रीय बाजार की श्रेणी में आता है ?

(क) हस्त शिल्प वस्तुएँ

(ख) ईट

(ग) खनिज तेल

(घ) दुग्ध।

1

( अति लघु उत्तरीय प्रश्न )

21. भारतीय वनों पर आधारित दो उद्योगों का उल्लेख कीजिए।

1 + 1

22. भारत के दो राज्यों के नाम बताइए जिनसे होकर दामोदर नदी बहती है।

1 + 1

23. मानवीय संसाधन से क्या अभिप्राय है ? भारत में जनसंख्या वृद्धि के दो कारण लिखिए।

1 +  $\frac{1}{2}$  +  $\frac{1}{2}$

376462

[ Turn over

( लघु उत्तरीय प्रश्न )

24. ऊर्जा संसाधन कितने प्रकार के होते हैं ? गैर-परम्परागत ऊर्जा के किन्हीं दो स्रोतों का उल्लेख कीजिए।

1 + 1 + 1

अथवा

भारत में बाक्साइट उत्पादन का वर्णन कीजिए। इसकी उपयोगिता पर भी प्रकाश डालिए।

2 + 1

25. एक विकसित देश की किन्हीं तीन विशेषताओं का वर्णन कीजिए।

1 + 1 + 1

अथवा

वायु परिवहन आजकल अधिक उपयोगी क्यों है ? कोई तीन बिन्दुएँ लिखिए।

1 + 1 + 1

376462

( दीर्घ उत्तरीय प्रश्न )

26. खनन का क्या अर्थ है ? भारत में खनन व्यवसाय की विशेषताएँ बताइए तथा इसके सुधार के तीन उपाय भी लिखिए।

1 + 2 + 3

अथवा

- भारत में सूतीवस्त्र उद्योग का विवरण निम्न शीर्षकों के अन्तर्गत दीजिए :

2 + 2 + 2

(अ) महत्व

(ब) उत्पादन क्षेत्र

(स) महत्वपूर्ण केन्द्र।

27. आर्थिक नियोजन से आप क्या समझते हैं ? इसके चार लाभों का उल्लेख कीजिए।

2 + 4


अथवा

- बहुउद्देशीय नदी घाटी परियोजनाओं से आप क्या समझते हैं ? इसके चार लाभों की विवेचना कीजिए।

2 + 4




( मानचित्र कार्य )

- निर्देश : दिये गये भारत के मानचित्र में निम्नलिखित को दर्शाइए :

28. (i) ताप्ती नदी  चिह्न द्वारा नाम सहित।  $\frac{1}{2} + \frac{1}{2}$

- (ii) अरावली पर्वत  चिह्न द्वारा नाम सहित।

$\frac{1}{2} + \frac{1}{2}$

- (iii) चण्डीगढ़  चिह्न द्वारा नाम सहित।  $\frac{1}{2} + \frac{1}{2}$
- (iv) कहवा उत्पादन का एक क्षेत्र  चिह्न द्वारा। 1
- (v) इलाहाबाद से मुम्बई रेल मार्ग  चिह्न द्वारा तथा उस पर एक स्टेशन नाम सहित।  $\frac{1}{2} + \frac{1}{2}$

( केवल दृष्टिबाधित परीक्षार्थियों के लिये  
मानचित्र कार्य के विकल्प के रूप में )

निर्देश : निम्नलिखित प्रश्नों के उत्तर अपनी उत्तर-पुस्तिका में लिखिए। मानचित्र का प्रयोग न कीजिए।

28. (i) गंगा नदी पर स्थित किन्हीं दो नगरों के नाम बताइए।  $\frac{1}{2} + \frac{1}{2}$
- (ii) पंजाब की राजधानी का नाम लिखिए। 1
- (iii) भारत में कोयले के किसी एक उत्पादक राज्य का नाम बताइए। 1

376462

[ Turn over

- (iv) उत्तर प्रदेश के किन्हीं दो वायुपत्तनों के नाम लिखिए।  $\frac{1}{2} + \frac{1}{2}$
- (v) भारत में चीनी उत्पादन के किसी एक राज्य का नाम बताइए। 1

825(CH) - 5,70,000

https://www.upboardonline.com

Whatsapp @ 9300930012

Send your old paper & get 10/-

अपने पुराने पेपर्स भेजे और 10 रुपये पायें,

Paytm or Google Pay से

37646