

अनुक्रमांक

रहित पृष्ठों की संख्या : 12+2 मानचित्र

नाम

UPBOARDONLINE.COM

932

825 (CI)

2017

सामाजिक विज्ञान

केवल प्रश्न-पत्र

(ऐतिहासिक एवं सांस्कृतिक विरासत, पर्यावरणीय अध्ययन,  
नागरिक जीवन एवं आर्थिक विकास)

समय : तीन घण्टे 15 मिनट ]

[ पूर्णांक : 70

सामान्य निर्देश :

UPBOARDONLINE.COM

- (i) प्रारम्भ के 15 मिनट परीक्षार्थियों को प्रश्न-पत्र पढ़ने के लिए निर्धारित हैं ।
- (ii) यह प्रश्न-पत्र दो खण्डों — क एवं ख में विभाजित है । प्रत्येक खण्ड के सभी प्रश्नों को एक साथ हल करना आवश्यक है । प्रत्येक खण्ड का उत्तर नए पृष्ठ से प्रारम्भ किया जाए ।
- (iii) प्रत्येक प्रश्न के लिए निर्धारित अंक उसके सम्मुख अंकित हैं ।

UPBOARDONLINE.COM

825 (CI)

1

P.T.O.

- (iv) प्रश्न-पत्र में चार प्रकार के प्रश्न हैं — बहु-विकल्पीय, अति लघु-उत्तरीय, लघु-उत्तरीय व दीर्घ-उत्तरीय, जिनके सम्बन्ध में निर्देश उनके प्रारम्भ में दिए गए हैं ।
- (v) क तथा ख खण्डों हेतु दिए गए मानचित्रों को उत्तर-पुस्तिका में मज़बूती के साथ संलग्न करना आवश्यक है ।
- (vi) दृष्टिबाधित परीक्षार्थियों के लिए मानचित्र-कार्य के स्थान पर अलग से खण्ड क में प्रश्न संख्या 14 तथा खण्ड ख में प्रश्न संख्या 28 के उत्तर लिखने के लिए दिए गए हैं ।

खण्ड क

UPBOARDONLINE.COM

(बहु-विकल्पीय प्रश्न)

निर्देश : निम्नलिखित प्रत्येक प्रश्न के लिए दिए गए चार विकल्पों में से सही उत्तर चुनकर अपनी उत्तर-पुस्तिका में लिखिए ।

1. लोक सभा में नामित सदस्यों की संख्या है 1
- (अ) 2
- (ब) 4
- (स) 12
- (द) 5

UPBOARDONLINE.COM

825 (CI)

2

2. आधुनिक भारत का निर्माता किसे माना जाता है ? 1  
 (अ) स्वामी विवेकानन्द को  
 (ब) रामकृष्ण परमहंस को  
 (स) स्वामी दयानन्द सरस्वती को  
 (द) राजा राममोहन राय को.

3. किस यूरोपीय शक्ति ने भारत में सबसे अन्त में प्रवेश किया ? 1  
 (अ) हॉलैण्ड .  
 (ब) इंग्लैण्ड  
 (स) फ्रांस  
 (द) पुर्तगाल

4. भारत के उच्चतम न्यायालय के न्यायाधीशों की नियुक्ति करता है 1  
 (अ) उप-राष्ट्रपति  
 (ब) प्रधान मन्त्री  
 (स) राष्ट्रपति  
 (द) मुख्य चुनाव आयुक्त

5. निम्नलिखित में से गुट-निरपेक्ष आन्दोलन का अग्रदूत कौन था ? 1  
 (अ) मार्शल टीटो  
 (ब) जोसेफ स्टालिन  
 (स) विन्स्टन चर्चिल.  
 (द) फ्रैंकलिन रूज़वेल्ट

6. अमेरिका में स्वतंत्रता दिवस कब मनाया जाता है ? 1  
 (अ) 26 जनवरी  
 (ब) 15 अगस्त  
 (स) 4 जुलाई  
 (द) 14 अगस्त.

(अति लघु-उत्तरीय प्रश्न)

7. भारत में संघीय कार्यपालिका के संवैधानिक एवं वास्तविक प्रधानों के नाम बताइए । 1+1  
 8. यूरोप में औद्योगिक क्रान्ति के दो कारण कौन-से थे ? 1+1  
 9. भारत के उन चार राज्यों का नाम लिखिए जो पाकिस्तान की सीमा को स्पर्श करते हैं ।  $\frac{1}{2} + \frac{1}{2} + \frac{1}{2} + \frac{1}{2}$

(लघु-उत्तरीय प्रश्न)

10. संघीय (केन्द्रीय) मंत्रिपरिषद् के तीन प्रमुख कार्य लिखिए । 1+1+1

अथवा

भारतीय विदेश नीति के आधारभूत सिद्धान्तों का उल्लेख कीजिए । 3

11. परिवार न्यायालय के पक्ष में अपने तर्क दीजिए। 1+1+1

UPBOARDONLINE.COM

अथवा

संयुक्त राष्ट्र संघ के किन्हीं तीन अंगों का नाम लिखिए। 1+1+1

(दीर्घ-उत्तरीय प्रश्न)

12. विश्व शान्ति के लिए गुट-निरपेक्षता क्यों आवश्यक है ? इसके महत्त्व की चर्चा उचित उदाहरणों सहित कीजिए। 3+3

अथवा

UPBOARDONLINE.COM

अखिल भारतीय राष्ट्रीय कांग्रेस की स्थापना कब और कहाँ की गई ? इसके तीन मुख्य उद्देश्य लिखिए।  $1\frac{1}{2}+1\frac{1}{2}+3$

13. गाँधीजी द्वारा संचालित तीन प्रमुख आन्दोलनों का नाम लिखिए। उनके अन्तिम आन्दोलन का विस्तार से वर्णन कीजिए। 1+1+1+3

अथवा

राजा राममोहन राय कौन थे ? उनके प्रमुख कार्यों का वर्णन कीजिए। UPBOARDONLINE.COM 2+4

825 (CI)

5

P.T.O.

UPBOARDONLINE.COM (मानचित्र-कार्य)

14. निम्नलिखित स्थानों को भारत के दिए गए रेखा-मानचित्र में ⊙ चिह्न द्वारा नाम सहित दर्शाइए। सही नाम तथा सही अंकन के लिए  $\frac{1}{2} + \frac{1}{2}$  अंक निर्धारित हैं।

(i) वह स्थान जहाँ भारतीय राष्ट्रीय कांग्रेस का प्रथम अधिवेशन 1885 में हुआ था।  $\frac{1}{2} + \frac{1}{2}$

UPBOARDONLINE.COM

(ii) वह नगर जहाँ गाँधीजी का जन्म हुआ था।  $\frac{1}{2} + \frac{1}{2}$

(iii) वह स्थान जहाँ सेन्ट्रल हिन्दू कालेज की स्थापना हुई।  $\frac{1}{2} + \frac{1}{2}$

(iv) वह स्थान जहाँ गौतम बुद्ध ने अपना प्रथम उपदेश दिया था।  $\frac{1}{2} + \frac{1}{2}$

(v) वह स्थान जहाँ चन्द्रशेखर आज़ाद शहीद हुए। UPBOARDONLINE.COM  $\frac{1}{2} + \frac{1}{2}$

825 (CI)

6

(केवल दृष्टिबाधित परीक्षार्थियों के लिए प्रश्न संख्या 14 के  
मानचित्र-कार्य के विकल्प स्वरूप)

UPBOARDONLINE.COM

निर्देश: निम्नलिखित प्रश्नों का उत्तर अपनी उत्तर-पुस्तिका  
में लिखिए। मानचित्र का प्रयोग न कीजिए।

- (i) भारतीय राष्ट्रीय कांग्रेस का प्रथम अधिवेशन  
1885 में कहाँ हुआ था ? 1
- (ii) गाँधीजी का जन्म किस नगर में हुआ था ? 1
- (iii) सेन्ट्रल हिन्दू कालेज की स्थापना किस नगर में  
की गई ? 1  
UPBOARDONLINE.COM
- (iv) गौतम बुद्ध ने अपना प्रथम उपदेश कहाँ पर दिया  
था ? 1
- (v) चन्द्रशेखर आज़ाद कहाँ शहीद हुए थे ? 1

UPBOARDONLINE.COM

825 (CI)

7

P.T.O.

खण्ड ख  
(बहु-विकल्पीय प्रश्न)

UPBOARDONLINE.COM

निर्देश: निम्नलिखित प्रत्येक प्रश्न के लिए दिए गए चार  
विकल्पों में से सही उत्तर चुनकर अपनी उत्तर-पुस्तिका  
में लिखिए।

15. भारत की जनगणना 2011 के अनुसार भारत की  
जनसंख्या है 1  
(अ) 111 करोड़  
(ब) 120 करोड़  
(स) 121 करोड़,  
(द) 119 करोड़
- UPBOARDONLINE.COM
16. नीलगिरी पर्वत स्थित है 1  
(अ) तमिल नाडु  
(ब) कर्नाटक  
(स) केरल  
(द) आंध्र प्रदेश
17. कन्याकुमारी स्थित है 1  
(अ) कर्नाटक  
(ब) आंध्र प्रदेश  
(स) केरल  
(द) तमिल नाडु
- UPBOARDONLINE.COM

825 (CI)

8

18. चाय की खेती के लिए निम्नलिखित में से कौन-सी मिट्टी उपयुक्त होती है ? 1

- (अ) जलोढ़ मिट्टी  
(ब) पर्वतीय मिट्टी  
(स) लाल मिट्टी  
(द) काली मिट्टी

UPBOARDONLINE.COM

19. निम्नलिखित में से कौन-सी भारत की निर्यातक वस्तु है ? 1

- (अ) लौह एवं इस्पात सामान  
(ब) चमड़ा एवं चमड़ा निर्मित वस्तुएँ  
(स) खाद्य तेल  
(द) पेट्रोलियम एवं पेट्रोलियम उत्पाद

20. निम्नलिखित में से कौन-सा गृह उद्योग है ? 1

- (अ) हथकरघा उद्योग  
(ब) सीमेन्ट उद्योग  
(स) चीनी उद्योग  
(द) जूट उद्योग

UPBOARDONLINE.COM

(अति लघु-उत्तरीय प्रश्न)

21. वस्तु विनिमय प्रणाली से आप क्या समझते हैं ? स्पष्ट कीजिए । 2

22. आर्थिक नियोजन की किन्हीं दो विशेषताओं का वर्णन कीजिए । 1+1

23. सार्वजनिक वितरण प्रणाली से आप क्या समझते हैं ? स्पष्ट कीजिए तथा इसके किसी एक लाभ का वर्णन कीजिए । 1+1

825 (CI)

9

P.T.O.

(लघु-उत्तरीय प्रश्न)

24. भारत की बढ़ती हुई जनसंख्या की किन्हीं तीन समस्याओं की विवेचना कीजिए । 1+1+1

अथवा

‘जनसंख्या घनत्व’ को परिभाषित कीजिए तथा जनगणना 2011 के अनुसार भारत में जनसंख्या के घनत्व का उल्लेख कीजिए । 2+1

25. विकासशील देशों की किन्हीं तीन विशेषताओं की विवेचना कीजिए । 1+1+1

UPBOARDONLINE.COM

अथवा

विभिन्न देशों को विकसित एवं विकासशील श्रेणी में बाँटने के तीन आधार बिन्दुओं को लिखिए । 1+1+1

(दीर्घ-उत्तरीय प्रश्न)

26. भारत के पूर्वी तटीय मैदान का वर्णन निम्नलिखित शीर्षकों में कीजिए : 2+2+2

- (अ) स्थिति एवं विस्तार  
(ब) कृषि के लिए महत्त्व  
(स) प्रमुख बन्दरगाह

अथवा

भारत के पठारी भाग का वर्णन निम्नलिखित शीर्षकों में कीजिए : 2+2+2

- (अ) स्थिति एवं विस्तार  
(ब) भौतिक स्वरूप  
(स) जल प्रवाह

UPBOARDONLINE.COM

825 (CI)

10

27. कृषि निविष्टियों से क्या तात्पर्य है ? किन्हीं पाँच निविष्टियों का महत्त्व बताइए ।  $1+1+1+1+1$

UPBOARDONLINE.COM

अथवा




भारत में भूमि सुधार कार्यक्रमों की विवेचना निम्नलिखित शीर्षकों में कीजिए :  $3+3$

- (अ) उद्देश्य  
(ब) कार्यक्रम

UPBOARDONLINE.COM

(मानचित्र-कार्य)

निर्देश : भारत के दिए गए मानचित्र पर निम्नलिखित को दर्शाइए ।

28. (i) सतपुड़ा पर्वत  चिह्न द्वारा नाम सहित ।  $\frac{1}{2} + \frac{1}{2}$
- (ii) मालाबार तट  चिह्न द्वारा नाम सहित ।  $\frac{1}{2} + \frac{1}{2}$
- (iii) राँची • चिह्न द्वारा नाम सहित ।  $\frac{1}{2} + \frac{1}{2}$
- (iv) लौह एवं इस्पात उद्योग का एक केन्द्र  $\triangle$  चिह्न द्वारा नाम सहित ।  $\frac{1}{2} + \frac{1}{2}$
- (v) कावेरी नदी  चिह्न द्वारा नाम सहित ।  $\frac{1}{2} + \frac{1}{2}$

825 (CI)

11

P.T.O.

UPBOARDONLINE.COM

- (केवल दृष्टिबाधित परीक्षार्थियों के लिए प्रश्न संख्या 28 के मानचित्र-कार्य के विकल्प स्वरूप)

निर्देश : निम्नलिखित प्रश्नों के उत्तर अपनी उत्तर-पुस्तिका में लिखिए । मानचित्र का प्रयोग न कीजिए ।

- (i) झारखण्ड की राजधानी का नाम लिखिए । 1
- (ii) दुर्गापुर किस उद्योग के लिए प्रसिद्ध है ? 1
- (iii) कागज उद्योग के एक केन्द्र का नाम लिखिए । 1
- (iv) पोखरण किस राज्य में स्थित है ? 1
- (v) कृष्णा नदी किस खाड़ी में गिरती है ? 1

UPBOARDONLINE.COM

UPBOARDONLINE.COM

825 (CI)

12

5,70,000