

932

825 (ES)

2016

सामाजिक विज्ञान

केवल प्रश्न-पत्र

(ऐतिहासिक एवं सांस्कृतिक विरासत, पर्यावरणीय अध्ययन,
नागरिक जीवन एवं आर्थिक विकास)

समय : तीन घण्टे 15 मिनट]

[पूर्णांक : 70

सामान्य निर्देश :

- (i) प्रारम्भ के 15 मिनट परीक्षार्थियों को प्रश्न-पत्र पढ़ने के लिए निर्धारित हैं।
- (ii) यह प्रश्न-पत्र दो खण्डों — क एवं ख में विभाजित है। प्रत्येक खण्ड के सभी प्रश्न एक साथ हल करना आवश्यक है। प्रत्येक खण्ड का उत्तर नए पृष्ठ से प्रारम्भ किया जाए। upboardonline.com
- (iii) प्रत्येक प्रश्न के लिए निर्धारित अंक उसके सम्मुख अंकित हैं।

- (iv) प्रश्न-पत्र में चार प्रकार के प्रश्न हैं — बहु-विकल्पीय, अति लघु-उत्तरीय, लघु-उत्तरीय व दीर्घ-उत्तरीय, जिनके सम्बन्ध में निर्देश उनके प्रारम्भ में दिए गए हैं।
- (v) क तथा ख खण्डों हेतु दिए गए मानचित्रों को उत्तर-पुस्तिका में मज़बूती के साथ संलग्न करना आवश्यक है।
- (vi) दृष्टिबाधित परीक्षार्थियों के लिए मानचित्र-कार्य के स्थान पर अलग से खण्ड क में प्रश्न संख्या 14 तथा खण्ड ख में प्रश्न संख्या 28 के उत्तर लिखने के लिए दिए गए हैं।

खण्ड क

(बहु-विकल्पीय प्रश्न)

निर्देश : निम्नलिखित प्रत्येक प्रश्न के लिए दिए गए चार विकल्पों में से सही उत्तर चुनकर अपनी उत्तर-पुस्तिका में लिखिए। upboardonline.com

1. निम्नलिखित में से किसने होम रूल लीग की स्थापना की थी? 1
 - (अ) लाला लाजपत राय
 - (ब) मोहम्मद अली जिन्ना
 - (स) बिपिन चन्द्र पाल
 - (द) बाल गंगाधर तिलक

2. लाला हरदयाल थे एक upboardonline.com 1
 (अ) वैज्ञानिक
 (ब) समाज सुधारक
 (स) शिक्षाविद्
 (द) क्रान्तिकारी
3. लोक सभा के सदस्य का कार्यकाल है 1
 (अ) 2 वर्ष
 (ब) 5 वर्ष
 (स) 3 वर्ष
 (द) 6 वर्ष
4. वर्साय की सन्धि की गयी थी 1
 (अ) रूस के साथ upboardonline.com
 (ब) अमेरिका (यू.एस.ए.) के साथ
 (स) जर्मनी के साथ
 (द) इटली के साथ
5. इंग्लैण्ड की गौरवपूर्ण क्रान्ति किस राजा के समय में हुई ? 1
 (अ) जेम्स प्रथम
 (ब) जेम्स द्वितीय
 (स) चार्ल्स प्रथम
 (द) हेनरी द्वितीय

6. भारत के प्रथम मुस्लिम राष्ट्रपति थे 1
 (अ) फखरुद्दीन अली अहमद upboardonline.com
 (ब) डॉ. ज़ाकिर हुसैन
 (स) सलमान खुरशीद
 (द) डॉ. अब्दुल कलाम आज़ाद

(अति लघु-उत्तरीय प्रश्न)

7. प्रथम विश्व युद्ध के दो परिणाम बताइए । 1+1
 8. भारत के दो पड़ोसी देशों का नाम लिखिए । 1+1
 9. विश्व स्वास्थ्य संगठन क्या है ? इसका मुख्यालय कहाँ स्थित है ? upboardonline.com 1+1

(लघु-उत्तरीय प्रश्न)

10. रूस में 'खूनी रविवार' की घटना क्यों हुई ? इसका क्या परिणाम हुआ ? $1\frac{1}{2} + 1\frac{1}{2}$

अथवा

- लीग ऑफ़ नेशन्स की असफलता के कोई तीन कारण लिखिए । 1+1+1

11. भारत की विदेश नीति के मुख्य सिद्धान्त क्या हैं ? उनमें से किन्हीं तीन का उल्लेख कीजिए । $1+1+1$

अथवा upboardonline.com

संयुक्त राष्ट्र संघ के किन्हीं तीन सिद्धान्तों का उल्लेख कीजिए । $1+1+1$

(दीर्घ-उत्तरीय प्रश्न)

12. भारतीय नवजागरण में राजा राम मोहन राय और स्वामी दयानन्द का क्या योगदान था ? इनके द्वारा स्थापित संस्थाओं के सिद्धान्तों में क्या समानताएँ थीं ? $3+3$

अथवा upboardonline.com

भारतीय राष्ट्रीय काँग्रेस की स्थापना कब और कहाँ की गई ? इसके प्रमुख उद्देश्य क्या थे ? $1+1+4$

13. उन तीन परिस्थितियों का वर्णन कीजिए जब राष्ट्रपति अपनी संकटकालीन शक्तियों का प्रयोग कर सकता है । $2+2+2$

अथवा

राज्य सभा के संगठन एवं कार्यों पर प्रकाश डालिए । $3+3$

(मानचित्र-कार्य)

upboardonline.com

14. निम्नलिखित स्थानों को भारत के दिए गए रेखा मानचित्र में \odot चिह्न द्वारा नाम सहित दर्शाइए । सही नाम तथा सही अंकन के लिए $\frac{1}{2} + \frac{1}{2}$ अंक निर्धारित हैं ।

(i) वह नगर जहाँ नाना साहब ने अंग्रेजों के विरुद्ध युद्ध किया था । $\frac{1}{2} + \frac{1}{2}$

(ii) वह स्थान जहाँ भारत में थियोसोफिकल सोसाइटी स्थापित हुई थी । $\frac{1}{2} + \frac{1}{2}$

upboardonline.com

(iii) वह स्थान जहाँ स्वर्ण मन्दिर स्थित है । $\frac{1}{2} + \frac{1}{2}$

(iv) वह स्थान जहाँ बुलन्द दरवाज़ा स्थित है । $\frac{1}{2} + \frac{1}{2}$

(v) वह स्थान जहाँ प्रसिद्ध सूर्य मन्दिर स्थित है । $\frac{1}{2} + \frac{1}{2}$

(केवल दृष्टिबाधित परीक्षार्थियों के लिए प्रश्न संख्या 14 के
मानचित्र-कार्य के विकल्प स्वरूप)

upboardonline.com

निर्देश: निम्नलिखित प्रश्नों के उत्तर अपनी उत्तर-पुस्तिका
में लिखिए। मानचित्र का प्रयोग न कीजिए।

- (i) नाना साहब ने अंग्रेजों के विरुद्ध किस नगर में
युद्ध किया था ? 1
- (ii) भारत में थियोसोफिकल सोसाइटी की स्थापना
कहाँ हुई थी ? upboardonline.com 1
- (iii) स्वर्ण मन्दिर किस नगर में स्थित है ? 1
- (iv) बुलन्द दरवाज़ा कहाँ स्थित है ? 1
- (v) प्रसिद्ध सूर्य मन्दिर कहाँ स्थित है ? 1

खण्ड ख

(बहु-विकल्पीय प्रश्न)

निर्देश: निम्नलिखित विकल्पों में से सही उत्तर चुनकर अपनी
उत्तर-पुस्तिका में लिखिए। upboardonline.com

15. माउण्ट एवरेस्ट की ऊँचाई है 1
(अ) 8348 मीटर
(ब) 8848 मीटर
(स) 8748 मीटर
(द) 8948 मीटर
16. निम्नलिखित राज्यों में से किस राज्य की जनसंख्या का
घनत्व भारत की जनगणना 2011 के अनुसार सर्वाधिक
है ? 1
(अ) पश्चिम बंगाल
(ब) उत्तर प्रदेश
(स) बिहार
(द) मध्य प्रदेश upboardonline.com
17. निम्नलिखित में से कौन-सा देश विकसित देश है ? 1
(अ) चीन
(ब) श्री लंका
(स) फ्रांस
(द) मिस्र

18. जलोढ मिट्टी का निर्माण होता है upboardonline.com 1
 (अ) ज्वालामुखी विस्फोट से
 (ब) वायु से
 (स) ग्लेशियरों से
 (द) नदियों से

19. भारत में विदेशी विनिमय का नियंत्रक कौन है ? 1
 (अ) स्टेट बैंक ऑफ़ इण्डिया
 (ब) सेन्ट्रल बैंक ऑफ़ इण्डिया
 (स) रिज़र्व बैंक ऑफ़ इण्डिया
 (द) यूनियन बैंक ऑफ़ इण्डिया

20. 'बिक्री कर' आय का साधन है upboardonline.com 1
 (अ) केन्द्र सरकार का
 (ब) राज्य सरकार का
 (स) ज़िला पंचायत का
 (द) ग्राम पंचायत का

(अति लघु-उत्तरीय प्रश्न)

21. भारत में कृषि और उद्योगों की पारस्परिक-निर्भरता की विवेचना कीजिए। 1+1
 22. जनसंख्या के घनत्व से आप क्या समझते हैं ? भारत के किस राज्य का जनसंख्या घनत्व सबसे कम है ? 1+1
 23. भारत के व्यापार के आयात व निर्यात की दो-दो वस्तुओं का उल्लेख कीजिए। $\frac{1}{2} + \frac{1}{2} + \frac{1}{2} + \frac{1}{2}$

upboardonline.com (लघु-उत्तरीय प्रश्न)

24. भारत में बढ़ती जनसंख्या को नियंत्रित करने के लिए तीन उपाय सुझाइए। 1+1+1

अथवा

भारत में जनसंख्या के असमान वितरण के तीन कारकों की विवेचना कीजिए। 1+1+1

25. आर्थिक नियोजन का क्या तात्पर्य है ? इसके किन्हीं दो लाभों का वर्णन कीजिए। 1+1+1

अथवा

आर्थिक नियोजन के किन्हीं तीन उद्देश्यों की विवेचना कीजिए। 1+1+1

upboardonline.com

(दीर्घ-उत्तरीय प्रश्न)

26. भारत में खनिज तेल और कोयले के उत्पादन क्षेत्रों का वर्णन कीजिए। 3+3

अथवा

भारत का भौगोलिक वर्णन निम्नलिखित शीर्षकों के अन्तर्गत कीजिए : 2+2+2

- (अ) स्थिति एवं विस्तार
 (ब) भू-आकृति (उच्चावच)
 (स) जल निकास (प्रवाह)

upboardonline.com

(केवल दृष्टिबाधित परीक्षार्थियों के लिए प्रश्न संख्या 28 के मानचित्र-कार्य के विकल्प स्वरूप)






27. कृषि की किन्हीं छः निविष्टियों की विवेचना कीजिए। upboardonline.com 1+1+1+1+1+1

अथवा

भारतीय अर्थव्यवस्था में उद्योगों के किन्हीं छः योगदानों का वर्णन कीजिए। 1+1+1+1+1+1

(मानचित्र-कार्य)

निर्देश: भारत के दिए गए मानचित्र पर निम्नलिखित को दर्शाइए।

28. (i) कृष्णा नदी  चिह्न द्वारा नाम सहित। $\frac{1}{2} + \frac{1}{2}$
- (ii) श्रीनगर  चिह्न द्वारा नाम सहित। $\frac{1}{2} + \frac{1}{2}$
- (iii) गन्ना उत्पादन के किसी एक क्षेत्र को  चिह्न द्वारा। upboardonline.com 1
- (iv) कोलकाता से दिल्ली रेलमार्ग एक स्टेशन  चिह्न द्वारा नाम सहित। $\frac{1}{2} + \frac{1}{2}$
- (v) एक आण्विक केन्द्र  चिह्न द्वारा नाम सहित। $\frac{1}{2} + \frac{1}{2}$

निर्देश: निम्नलिखित प्रश्नों के उत्तर अपनी उत्तर-पुस्तिका में लिखिए। मानचित्र का प्रयोग न कीजिए।

upboardonline.com

- (i) कृष्णा नदी किस समुद्र में गिरती है? 1
- (ii) श्रीनगर किस राज्य में स्थित है? 1
- (iii) भारत के एक आण्विक केन्द्र का नाम लिखिए। 1
- (iv) भारत की किसी एक बहु-उद्देशीय नदी-घाटी परियोजना का नाम लिखिए। 1
- (v) पंजाब राज्य की राजधानी का नाम लिखिए। 1

upboardonline.com