

अनुक्रमः

नाम .

932

825 (ET)

2016

सामाजिक विज्ञान

केवल प्रश्न-पत्र

(ऐतिहासिक एवं सांस्कृतिक विरासत, पर्यावरणीय अध्ययन,
नागरिक जीवन एवं आर्थिक विकास)

समय : तीन घण्टे 15 मिनट]

[पूर्णांक : 70

सामान्य निर्देश :

- (i) प्रारम्भ के 15 मिनट परीक्षार्थियों को प्रश्न-पत्र पढ़ने के लिए निर्धारित हैं ।
- (ii) यह प्रश्न-पत्र दो खण्डों — क एवं ख में विभाजित है । प्रत्येक खण्ड के सभी प्रश्न एक साथ हल करना आवश्यक है । प्रत्येक खण्ड का उत्तर नए पृष्ठ से प्रारम्भ किया जाए ।
- (iii) प्रत्येक प्रश्न के लिए निर्धारित अंक उसके सम्मुख अंकित हैं ।

825 (ET)

1

P.T.O.

- (iv) प्रश्न-पत्र में चार प्रकार के प्रश्न हैं — बहु-विकल्पीय, अति लघु-उत्तरीय, लघु-उत्तरीय व दीर्घ-उत्तरीय, जिनके सम्बन्ध में निर्देश उनके प्रारम्भ में दिए गए हैं ।
- (v) क तथा ख खण्डों हेतु दिए गए मानचित्रों को उत्तर-पुस्तिका में मज़बूती के साथ संलग्न करना आवश्यक है ।
- (vi) दृष्टिबाधित परीक्षार्थियों के लिए मानचित्र-कार्य के स्थान पर अलग से खण्ड क में प्रश्न संख्या 14 तथा खण्ड ख में प्रश्न संख्या 28 के उत्तर लिखने के लिए दिए गए हैं ।

खण्ड क
(बहु-विकल्पीय प्रश्न)

निर्देश : निम्नलिखित प्रत्येक प्रश्न के लिए दिए गए चार विकल्पों में से सही उत्तर चुनकर अपनी उत्तर-पुस्तिका में लिखिए ।

1. वुडरो विल्सन कहाँ के राष्ट्रपति थे ? 1
 - (अ) फ्रांस
 - (ब) सं.रा. अमेरिका
 - (स) इंग्लैण्ड
 - (द) जापान

825 (ET)

2

2. भारत के विभाजन के समय भारत के वाइसराय कौन थे ? 1
- (अ) लॉर्ड वावेल
 (ब) लॉर्ड माउण्टबेटन
 (स) क्लेमेंट एटली
 (द) सी. राजगोपालाचारी

3. रूस में क्रांति कब हुई थी ? 1
- (अ) 1817 ई.
 (ब) 1917 ई.
 (स) 1717 ई.
 (द) 1927 ई.

4. यूरोप के किस देश ने सर्वप्रथम भारत में अपना उपनिवेश स्थापित किया ? 1
- (अ) इंग्लैण्ड
 (ब) हॉलैण्ड
 (स) पुर्तगाल
 (द) फ्रांस

5. लोक अदालतों के सम्बन्ध में निम्नलिखित में से कौन-सा तथ्य सही नहीं है ? 1
- (अ) निर्णय आपसी सहमति के आधार पर होते हैं।
 (ब) इसमें वकील मुकदमे की पैरवी कर सकते हैं।
 (स) इसमें निर्णय शीघ्र होते हैं।
 (द) ये अदालतें जन-कल्याण हेतु कार्य करती हैं।

825 (ET)

3

P.T.O.

6. किसकी स्वीकृति से कोई विधेयक अधिनियम बन सकता है ? 1
- (अ) संसद
 (ब) राष्ट्रपति
 (स) सर्वोच्च न्यायालय
 (द) प्रधान मंत्री

(अति लघु-उत्तरीय प्रश्न)

7. यूरोप में पुनर्जागरण सर्वप्रथम किस देश में हुआ ? इसकी प्रगति के लिए उत्तरदायी कारणों में से किन्हीं दो का उल्लेख कीजिए। 1 + $\frac{1}{2}$ + $\frac{1}{2}$
8. देश की आन्तरिक सुरक्षा को सुदृढ़ करने के लिए सरकार को क्या उपाय करने चाहिए ? उनमें से किन्हीं दो का उल्लेख कीजिए। 1+1
9. राष्ट्रपति किन परिस्थितियों में देश में आपात-काल घोषित करता है ? उनमें से किन्हीं दो को संक्षेप में लिखिए। 1+1

(लघु-उत्तरीय प्रश्न)

10. भारत को स्वतंत्रता दिलाने में मौलाना आज़ाद का क्या योगदान रहा ? 3

अथवा

- देश के प्रथम स्वतंत्रता संग्राम में रानी लक्ष्मी बाई की क्या भूमिका थी ? संक्षेप में लिखिए। 3

825 (ET)

4

11. भारतीय विदेश नीति की कोई दो विशेषताएँ बताइए। $1\frac{1}{2} + 1\frac{1}{2}$

अथवा

संयुक्त राष्ट्र संघ की स्थापना कब हुई ? इसकी स्थापना के क्या उद्देश्य थे ? उनमें से किन्हीं दो को लिखिए। $1+1+1$

(दीर्घ-उत्तरीय प्रश्न)

12. उन्नीसवीं शताब्दी में भारत में राजनीतिक चेतना के विकास के लिए उत्तरदायी प्रमुख कारणों की विवेचना कीजिए।

6

अथवा

भारतीय राष्ट्रीय कांग्रेस की स्थापना कब की गई ? इसके प्रथम अध्यक्ष कौन थे ? इसके प्रमुख उद्देश्यों का वर्णन कीजिए।

$1+1+4$

13. प्रधान मंत्री की नियुक्ति कैसे होती है ? भारत के प्रशासन में प्रधान मंत्री की स्थिति की व्याख्या कीजिए। <http://www.upboardonline.com> $2+4$

अथवा

अपने प्रदेश में विधान परिषद् की रचना एवं उसके कार्यों का वर्णन कीजिए। 50

$3+3$

825 (ET)

5

P.T.O.

(मानचित्र-कार्य)

14. दिए गए भारत के मानचित्र में निम्नलिखित स्थानों का अंकन \odot चिह्न द्वारा दर्शाइए तथा उनके नाम भी लिखिए। सही नाम तथा सही अंकन के लिए $\frac{1}{2} + \frac{1}{2}$ अंक निर्धारित हैं।

(i) वह स्थान जहाँ 1907 में कांग्रेस का विभाजन हुआ। $\frac{1}{2} + \frac{1}{2}$

(ii) वह स्थान जहाँ चन्द्रशेखर आज़ाद शहीद हुए। $\frac{1}{2} + \frac{1}{2}$

(iii) वह स्थान जहाँ महात्मा बुद्ध का जन्म हुआ। $\frac{1}{2} + \frac{1}{2}$

(iv) वह स्थान जहाँ भारत की राजधानी है। $\frac{1}{2} + \frac{1}{2}$

(v) वह स्थान जहाँ होम रूल लीग का प्रस्ताव पारित किया गया। $\frac{1}{2} + \frac{1}{2}$

825 (ET)

6

खण्ड ख
(बहु-विकल्पीय प्रश्न)

(केवल दृष्टिबाधित परीक्षार्थियों के लिए प्रश्न संख्या 14 के
मानचित्र-कार्य के विकल्प स्वरूप)

निर्देश: निम्नलिखित विकल्पों में से सही उत्तर चुनकर अपनी
उत्तर-पुस्तिका में लिखिए।

निर्देश: निम्नलिखित प्रश्नों का उत्तर अपनी उत्तर-पुस्तिका
में लिखिए। मानचित्र का प्रयोग न कीजिए।

- (i) 1907 में कांग्रेस का विभाजन कहाँ हुआ था ? 1
- (ii) चन्द्रशेखर आज़ाद कहाँ शहीद हुए थे ? 1
- (iii) महात्मा बुद्ध का जन्म कहाँ हुआ था ? 1
- (iv) भारत की राजधानी कहाँ है ? 1
- (v) होम रूल लीग का प्रस्ताव कहाँ पारित किया गया था ? 1

15. जूट की कृषि का मुख्य राज्य है 1
(अ) पंजाब
(ब) राजस्थान
(स) पश्चिम बंगाल
(द) बिहार
16. निम्नलिखित में से कौन-सी एक मानवकृत आपदा है ? 1
(अ) भूस्खलन
(ब) भूकम्प
(स) बाढ़
(द) बम-विस्फोट
17. किस नदी पर टिहरी बाँध परियोजना स्थित है ? 1
(अ) नर्मदा
(ब) भागीरथी
(स) महानदी
(द) चम्बल

(लघु-उत्तरीय प्रश्न)

18. भारत में अभ्रक उत्पादन में किस राज्य का प्रथम स्थान है ? 1
 (अ) बिहार
 (ब) झारखण्ड
 (स) आन्ध्र प्रदेश
 (द) मध्य प्रदेश

19. भारत में मौद्रिक नीति का नियंत्रक निम्नलिखित में से कौन है ? 1
 (अ) स्टेट बैंक ऑफ इण्डिया
 (ब) सेन्ट्रल बैंक ऑफ इण्डिया
 (स) यूनाइटेड बैंक ऑफ इण्डिया
 (द) रिज़र्व बैंक ऑफ इण्डिया

20. निम्नलिखित में से कौन-सा एक कुटीर उद्योग से सम्बन्धित है ? 1
 (अ) हथकरघा उद्योग
 (ब) लौह-इस्पात उद्योग
 (स) कागज उद्योग
 (द) सीमेंट उद्योग

(अति लघु-उत्तरीय प्रश्न)

21. खादर एवं बांगर मिट्टी में अन्तर बताइए। 1+1
 22. भारत में किन्हीं दो परमाणु ऊर्जा केन्द्रों के नाम लिखिए। 1+1
 23. भारत में कृषि की निम्न उत्पादकता के किन्हीं चार कारणों का उल्लेख कीजिए। $\frac{1}{2} + \frac{1}{2} + \frac{1}{2} + \frac{1}{2}$

825 (ET)

9

P.T.O.

24. राष्ट्रीय और अन्तर्राष्ट्रीय व्यापार में अन्तर बताइए तथा भारत से निर्यात की जाने वाली किन्हीं दो वस्तुओं के नाम लिखिए। $1+1 + \frac{1}{2} + \frac{1}{2}$

अथवा

- प्रतियोगिता के आधार पर बाज़ार का वर्गीकरण कीजिए। 1+1+1

25. भारत में भूमि सुधार के तीन उद्देश्यों को बताइए। 1+1+1
 अथवा

- भारत में आर्थिक नियोजन के तीन उद्देश्यों का वर्णन कीजिए। 1+1+1

(दीर्घ-उत्तरीय प्रश्न)

26. भारत के दक्षिणी पठार का वर्णन निम्नलिखित शीर्षकों के अन्तर्गत कीजिए : 2+2+2

- (अ) स्थिति एवं विस्तार
 (ब) प्राकृतिक बनावट (भौतिक लक्षण)
 (स) खनिज

अथवा

- भारतीय वनों के किन्हीं छः लाभों का वर्णन कीजिए। 1+1+1+1+1+1

825 (ET)

10

(केवल दृष्टिबाधित परीक्षार्थियों के लिए प्रश्न संख्या 28 के मानचित्र-कार्य के विकल्प स्वरूप)

निर्देश: निम्नलिखित प्रश्नों के उत्तर अपनी उत्तर-पुस्तिका में लिखिए। मानचित्र का प्रयोग न कीजिए।




27. भारतीय कृषकों की किन्हीं छः समस्याओं का वर्णन कीजिए। 1+1+1+1+1+1

अथवा

विकासशील देशों के आर्थिक विकास की छः समस्याओं का वर्णन कीजिए। 1+1+1+1+1+1

(मानचित्र-कार्य)

निर्देश: भारत के दिए गए मानचित्र पर निम्नलिखित को दर्शाइए।

28. (i) नर्मदा नदी चिह्न द्वारा नाम सहित। $\frac{1}{2} + \frac{1}{2}$
- (ii) दो कोयला उत्पादक क्षेत्र  चिह्न द्वारा। $\frac{1}{2} + \frac{1}{2}$
- (iii) कानपुर नगर • चिह्न द्वारा नाम सहित। $\frac{1}{2} + \frac{1}{2}$
- (iv) दो गन्ना उत्पादक क्षेत्र  चिह्न द्वारा। $\frac{1}{2} + \frac{1}{2}$
- (v) कोलकाता बन्दरगाह  चिह्न द्वारा नाम सहित। $\frac{1}{2} + \frac{1}{2}$

- (i) किन्हीं दो नदी-घाटी परियोजनाओं के नाम बताइए। $\frac{1}{2} + \frac{1}{2}$
- (ii) भारत में दो खनिज-तेल उत्पादक क्षेत्रों के नाम बताइए। $\frac{1}{2} + \frac{1}{2}$
- (iii) उत्तर प्रदेश की राजधानी का नाम बताइए। 1
- (iv) भारत की जनगणना 2011 के अनुसार भारत के सर्वाधिक जनसंख्या घनत्व वाले राज्य का नाम बताइए। 1
- (v) झरिया किस खनिज के लिए प्रसिद्ध है? 1

http://www.upboardonline.com

Whatsapp @ 9300930012

Send your old paper & get 10/-

अपने पुराने पेपर्स भेजे और 10 रुपये पाय, Paytm or Google Pay से

Paytm or Google Pay से

825 (ET)

11

P.T.O.

825 (ET)

12

6,20,000