

932

825(EZ)

2023

सामाजिक विज्ञान

(Hindi and English versions)

समय : तीन घण्टे 15 मिनट]

[पूर्णांक : 70

नोट : प्रारम्भ के 15 मिनट परीक्षार्थियों को प्रश्नपत्र पढ़ने के लिए निर्धारित हैं ।

Note : First 15 minutes are allotted for the candidates to read the question paper.

निर्देश :

- i) सभी प्रश्न अनिवार्य हैं ।
- ii) इस प्रश्नपत्र के दो खण्ड, खण्ड - अ तथा खण्ड - ब हैं ।
- iii) खण्ड - अ में 1 अंक के 20 बहुविकल्पीय प्रश्न हैं जिनके उत्तर ओ० एम० आर० उत्तर पत्रक पर देने हैं ।
- iv) खण्ड - अ के प्रत्येक प्रश्न का निर्देश पढ़कर केवल प्रदत्त ओ० एम० आर० उत्तर पत्रक पर ही उत्तर दें। ओ० एम० आर० उत्तर पत्रक पर उत्तर देने के पश्चात उसे नहीं काटें तथा इरेजर अथवा ह्वाइटनर का प्रयोग न करें ।
- v) प्रश्न के अंक उसके सम्मुख अंकित हैं ।
- vi) खण्ड - ब में 50 अंक के वर्णनात्मक प्रश्न हैं । इस खण्ड में वर्णनात्मक-I, वर्णनात्मक-II तथा मानचित्र सम्बन्धी दो प्रश्न हैं।
- vii) खण्ड - ब में सभी प्रश्नों के उत्तर एक साथ ही करें ।
- viii) प्रथम प्रश्न से आरम्भ कीजिए तथा अन्तिम प्रश्न तक करते जाइए । जो प्रश्न न आता हो उस पर समय नष्ट न कीजिए ।
- ix) दिए गए मानचित्रों को उत्तर-पुस्तिका के साथ मजबूती से संलग्न करना आवश्यक है।
- x) दृष्टिबाधित परीक्षार्थियों के लिए मानचित्र कार्य के स्थान पर अलग से प्रश्न 9(A) तथा 9(B) लिखने के लिए दिए गये हैं।

Instructions :

- i) All questions are compulsory. 2.
- ii) This question paper has *two* Parts – **Part-A** and **Part-B**.
- iii) **Part-A** consists of **20** multiple choice questions of one mark each that have to be answered on OMR Answer Sheet. 2.
- iv) For **Part-A** read the question-wise instructions and mark your answer on the given OMR Answer Sheet only. Do not erase, cut or use whitener on the OMR Answer Sheet after answering. 3.
- v) Marks of the questions are mentioned against them.
- vi) **Part-B** consists of descriptive type questions of **50** marks. There are Descriptive-I, Descriptive-II and two map related questions in this part. 3
- vii) All the questions of **Part-B** are to be attempted all at a time.
- viii) Start from the first question and go up to the last question. Do not waste your time on the question you cannot solve. 4
- ix) Attach firmly the supplied maps in your answer-book.
- x) For visually impaired examinees Question Nos. 9(A) and 9(B) have been given separately for writing answers in lieu of map work.

खण्ड - अ

PART - A

(बहुविकल्पीय प्रश्न)

(Multiple Choice Type Questions)

निर्देश : नीचे दिए गए प्रश्नों के प्रत्येक प्रश्न के चार विकल्प दिए गए हैं। सही विकल्प चुनकर उसे **OMR** उत्तर पत्रक पर चिह्नित करें :

Instruction : Four alternatives are given for each of the following questions. Choose the correct alternative and mark on **OMR** answer sheet :

1. ऑटो वॉन बिस्मार्क का सम्बन्ध किस देश से था ?
- (A) ब्रिटेन (B) जर्मनी
- (C) फ्रांस (D) इटली 1
1. Otto von Bismarck was related to which country ?
- (A) Britain (B) Germany
- (C) France (D) Italy 1

2. नेपोलियन बोनापार्ट की पराजय कब हुई थी ?
 (A) 1814 (B) 1815
 (C) 1816 (D) 1817 1
2. When was Napoleon Bonaparte defeated ?
 (A) 1814 (B) 1815
 (C) 1816 (D) 1817 1
3. निम्नलिखित में से कौन-सा संघीय सूची का विषय है ?
 (A) व्यापार (B) कृषि
 (C) रक्षा (D) शिक्षा 1
3. Which one of the following is a subject of Union List ?
 (A) Trade (B) Agriculture
 (C) Defence (D) Education 1
4. ब्रेटन वुड्स नामक संस्था निम्नलिखित में से कहाँ स्थित था ?
 (A) अफ्रीका (B) यूरोप
 (C) अमेरिका (D) इनमें से कोई नहीं 1
4. Where was Bretton Woods institution situated ?
 (A) Africa (B) Europe
 (C) America (D) None of these 1
5. "स्वराज मेरा जन्मसिद्ध अधिकार है और मैं इसे लेकर रहूँगा।" किसका कथन है ?
 (A) गोपाल कृष्ण गोखले (B) बाल गंगाधर तिलक
 (C) जवाहरलाल नेहरू (D) महात्मा गाँधी 1
5. Who said "Swaraj is my birth right and I will have it" ?
 (A) Gopal Krishna Gokhale (B) Bal Gangadhar Tilak
 (C) Jawaharlal Nehru (D) Mahatma Gandhi 1
6. भारत में मताधिकार की आयु क्या है ?
 (A) 21 वर्ष (B) 18 वर्ष
 (C) 20 वर्ष (D) 25 वर्ष 1
6. What is the age of voting right in India ?
 (A) 21 years (B) 18 years
 (C) 20 years (D) 25 years 1

7. लोकतांत्रिक शासन व्यवस्था अन्य व्यवस्थाओं से अच्छी है, क्योंकि यह
- (A) सभी नागरिकों में समानता को बढ़ावा देती है
 (B) व्यक्ति की गरिमा को बढ़ावा देती है
 (C) (A) और (B) दोनों
 (D) इनमें से कोई नहीं
7. Democratic administrative system is better than other administrative systems, because it
- (A) Promotes equality among all citizens
 (B) Promotes dignity of the person
 (C) Both (A) and (B)
 (D) None of these
8. भारतीय राष्ट्रीय कांग्रेस की स्थापना कब हुई थी ?
- (A) 1885 (B) 1904
 (C) 1857 (D) 1855
8. When was Indian National Congress established ?
- (A) 1885 (B) 1904
 (C) 1857 (D) 1855
9. भारत में अवशिष्ट शक्तियाँ किसको प्राप्त हैं ?
- (A) राज्य (B) संघ
 (C) (A) और (B) दोनों (D) इनमें से कोई नहीं
9. Who has residuary powers in India ?
- (A) State (B) Union
 (C) Both (A) and (B) (D) None of these
10. भारतीय संविधान कब लागू किया गया ?
- (A) 15 अगस्त (B) 14 अगस्त
 (C) 10 दिसम्बर (D) 26 जनवरी
10. When was the Constitution of India enforced ?
- (A) 15th August (B) 14th August
 (C) 10th December (D) 26th January

11. निम्नलिखित में से किस राज्य में लाल मिट्टियाँ पाई जाती हैं ?
 (A) गुजरात (B) ओडिशा
 (C) पंजाब (D) उत्तर प्रदेश 1
11. In which of the following states are the red soils found ?
 (A) Gujarat (B) Odisha
 (C) Punjab (D) Uttar Pradesh 1
12. निम्नलिखित में से कौन-सा संसाधन गैर-परम्परागत है ?
 (A) कोयला (B) प्राकृतिक गैस
 (C) पवन ऊर्जा (D) खनिज तेल 1
12. Which of the following resources is non-conventional ?
 (A) Coal (B) Natural gas
 (C) Wind energy (D) Mineral oil 1
13. निम्नलिखित में से कौन-सा राज्य बाक्साइट का प्रमुख उत्पादक है ?
 (A) ओडिशा (B) पंजाब
 (C) तमिलनाडु (D) बिहार 1
13. Which of the following states is main producer of Bauxite ?
 (A) Odisha (B) Punjab
 (C) Tamil Nadu (D) Bihar 1
14. निम्नलिखित में से कौन-सा धात्विक खनिज है ?
 (A) चूना पत्थर (B) सल्फर
 (C) मैंगनीज (D) कोयला 1
14. Which of the following is metallic mineral ?
 (A) Limestone (B) Sulphur
 (C) Manganese (D) Coal 1
15. निम्नलिखित में से कौन-सा जैव संसाधन है ?
 (A) लोहा (B) मत्स्य उद्योग
 (C) ताँबा (D) चट्टानें 1
15. Which of the following is a bio-resource ?
 (A) Iron (B) Fisheries
 (C) Copper (D) Rocks 1

16. निम्नलिखित में से किस राज्य में सबसे अधिक प्रतिशत कृषि भूमि पर खेती होती है ?
- (A) मिजोरम (B) मणिपुर
(C) केरल (D) पंजाब 1
16. In which of the following states is the highest percentage of agricultural land is under cultivation ?
- (A) Mizoram (B) Manipur
(C) Kerala (D) Punjab 1
17. निम्नलिखित में से कौन-सा भौगोलिक क्षेत्र का प्रतिशत राष्ट्रीय वन नीति (1952) द्वारा निर्धारित किया गया है ?
- (A) 33 (B) 43
(C) 23 (D) 31 1
17. Which one of the following percentages of geographical area has been determined by the National Forest Policy (1952) ?
- (A) 33 (B) 43
(C) 23 (D) 31 1
18. मानव विकास की दृष्टि से निम्नलिखित में से कौन-सा देश भारत से बेहतर स्थिति में है ?
- (A) पाकिस्तान (B) नेपाल
(C) श्रीलंका (D) बांग्लादेश 1
18. Which of the following countries is in better condition than India from the view of Human Development ?
- (A) Pakistan (B) Nepal
(C) Sri Lanka (D) Bangladesh
19. निम्नलिखित में से कौन-सी गतिविधि प्राथमिक क्षेत्रक के अन्तर्गत आती है ?
- (A) खनन (B) बर्तन बनाना
(C) भवन निर्माण (D) सिलाई 1
19. Which of the following activities comes under primary sector ?
- (A) Mining (B) Utensil manufacturing
(C) Building construction (D) Tailoring

20. उपभोक्ता सुरक्षा अधिनियम कब बना था ?
- (A) 1990 (B) 1995
- (C) 1896 (D) 1999 1
20. When was the Consumer Protection Act enacted ?
- (A) 1990 (B) 1995
- (C) 1896 (D) 1999 1

खण्ड - ब

PART - B

(वर्णनात्मक - I)

(Descriptive - I)

(निम्न प्रश्नों के उत्तर प्रत्येक लगभग 80 शब्दों में दीजिए।)

(Write answers of these questions in about 80 words each.)

1. फ्रांस की क्रान्ति के मुख्य कारण क्या थे ? 4

अथवा

नमक सत्याग्रह से आप क्या समझते हैं ? 4

1. What were the main causes of French Revolution ? 4

OR

What do you understand by Salt Satyagraha ? 4

2. किस प्रकार से लैंगिक भिन्नता ने राजनीति को प्रभावित किया ? संक्षेप में लिखिए। 4

अथवा

“सत्ता की साझेदारी लोकतन्त्र की आत्मा है।” इस कथन की विवेचना कीजिए। 4

2. How did gender discrimination affected political scenario ? Write briefly. 4

OR

“Power-sharing is the soul of democracy.” Discuss briefly. 4

3. खनिज के संरक्षण की विवेचना कीजिए। 4

अथवा

भारतीय अर्थव्यवस्था में वैश्वीकरण के महत्व की विवेचना कीजिए। 4

3. Discuss the mineral conservation.

OR

Discuss the importance of globalization in the economy of India.

4. झूम कृषि की विशेषताओं की विवेचना कीजिए।

अथवा

उपभोक्ताओं के शोषण के किन्हीं चार कारणों की समीक्षा कीजिए।

4. Discuss the characteristics of Jhum cultivation.

OR

Analyse any *four* causes of consumers' exploitation.

(वर्णनात्मक - II)

(Descriptive - II)

(निम्न प्रश्नों के उत्तर प्रत्येक लगभग 150 शब्दों में दीजिए।)

(Write answers of these questions in about 150 words each.)

5. सविनय अवज्ञा आन्दोलन से आप क्या समझते हैं ? इस आन्दोलन की सीमाओं पर एक संक्षिप्त टिप्पणी लिखिए।

3 + 3

अथवा

भारतीय अर्थव्यवस्था पर वैश्विक महामन्दी के किन्हीं चार परिणामों का उल्लेख कीजिए।

$1\frac{1}{2} + 1\frac{1}{2} + 1\frac{1}{2} + 1\frac{1}{2}$

5. What do you understand by Civil Disobedience Movement ? Give a brief note on the limitations of this movement.

3 + 3

OR

Mention any *four* results of global economic depression on Indian economy.

$1\frac{1}{2} + 1\frac{1}{2} + 1\frac{1}{2} + 1\frac{1}{2}$

5. "भारतीय संघ एक अर्द्ध-संघीय ढाँचा है।" इसकी पुष्टि में किन्हीं दो कारकों का उल्लेख करें।

3 + 3

अथवा

लोकतान्त्रिक सुधार से आप क्या समझते हैं ? इसके लिए उठाये जा सकने वाले किन्हीं दो कदमों का उल्लेख कीजिए।

2 + 2 + 2

6. "Indian Union is a quasi-federal structure." Mention any *two* factors to prove it. 3 + 3

OR

What do you understand by Democratic Reformation ? Mention any *two* steps to be taken for this. 2 + 2 + 2

7. मृदा अपरदन का क्या अभिप्राय है ? इस समस्या के समाधान हेतु कोई चार उपाय सुझाइये। 2 + 4

अथवा

संसाधन नियोजन की आवश्यकता क्यों है ? भारत में संसाधन नियोजन हेतु कोई चार उपाय सुझाइए। 2 + 4

7. What is meant by soil erosion ? Suggest any *four* measures to solve this problem. 2 + 4

OR

Why is resource planning necessary ? Suggest any *four* measures for resource planning in India. 2 + 4

8. विकास की अवधारणा क्या है ? सामान्यतया इसमें किन घटकों को सम्मिलित किया जाता है ? 2 + 4

अथवा

तृतीयक क्षेत्रक क्या है ? इसकी विशेषताओं की समीक्षा कीजिए। 2 + 4

8. What is the concept of development ? Generally, which factors are included in it ? 2 + 4

OR

What is tertiary sector ? Analyse its characteristics. 2 + 4

(मानचित्र सम्बन्धी प्रश्न)

(Map Work)

निर्देश : प्रश्न संख्या 9(A) तथा 9(B) मानचित्र से संबंधित है।

Instruction : Question Nos. 9(A) and 9(B) are related to map.






9(A). निम्नलिखित स्थानों को भारत के दिये गये रेखा मानचित्र में \odot चिह्न द्वारा नाम सहित दर्शाइए।सही नाम तथा सही अंकन के लिये $\frac{1}{2}$, $\frac{1}{2}$ अंक निर्धारित हैं :

- | | | |
|------|---|-----------------------------|
| i) | वह स्थान जहाँ सितम्बर, 1920 में भारतीय राष्ट्रीय कांग्रेस का अधिवेशन हुआ। | $\frac{1}{2} + \frac{1}{2}$ |
| ii) | वह स्थान जहाँ जलियाँवाला बाग हत्याकाण्ड हुआ। | $\frac{1}{2} + \frac{1}{2}$ |
| iii) | वह स्थान जहाँ से महात्मा गाँधी ने नमक कानून तोड़ा। | $\frac{1}{2} + \frac{1}{2}$ |
| iv) | गुजरात का वह स्थान जहाँ किसानों ने सत्याग्रह आन्दोलन किया था। | $\frac{1}{2} + \frac{1}{2}$ |
| v) | वह स्थान जहाँ, 1929 में भारतीय राष्ट्रीय कांग्रेस का अधिवेशन हुआ था। | $\frac{1}{2} + \frac{1}{2}$ |






9(A). In the given map of India locate the following places by the symbol \odot with names. For correct mention of name and location $\frac{1}{2}$, $\frac{1}{2}$ marks have been allotted.

- | | | |
|------|--|-----------------------------|
| i) | The place where Indian National Congress held its session in September, 1920. | $\frac{1}{2} + \frac{1}{2}$ |
| ii) | The place where Jallianwala Bagh tragedy took place. | $\frac{1}{2} + \frac{1}{2}$ |
| iii) | The place where Mahatma Gandhi broke the Salt Law. | $\frac{1}{2} + \frac{1}{2}$ |
| iv) | The place in Gujarat where peasants held their Satyagraha Movement. | $\frac{1}{2} + \frac{1}{2}$ |
| v) | The place where Indian National Congress held its session in the year of 1929. | $\frac{1}{2} + \frac{1}{2}$ |

9(B). निर्देश : दिये गये भारत के मानचित्र में निम्नलिखित को दर्शाइए :

- | | | |
|------|---|-----------------------------|
| i) | उत्तर भारत की एक नदी  चिह्न द्वारा नाम सहित। | $\frac{1}{2} + \frac{1}{2}$ |
| ii) | एक ताप विद्युत केन्द्र  चिह्न द्वारा नाम सहित। | $\frac{1}{2} + \frac{1}{2}$ |
| iii) | भारत के पूर्वी तट का एक समुद्री पत्तन (बन्दरगाह)  चिह्न द्वारा नाम सहित। | $\frac{1}{2} + \frac{1}{2}$ |
| iv) | चाय उत्पादक कोई एक क्षेत्र  चिह्न द्वारा नाम सहित। | $\frac{1}{2} + \frac{1}{2}$ |
| v) | छत्तीसगढ़ की राजधानी नगर  चिह्न द्वारा नाम सहित। | $\frac{1}{2} + \frac{1}{2}$ |

9(B). *Instruction* : Show the following in the given map of India :

- | | | |
|------|---|-----------------------------|
| i) | One river of North India by symbol  with name. | $\frac{1}{2} + \frac{1}{2}$ |
| ii) | One thermal power station by symbol  with name. | $\frac{1}{2} + \frac{1}{2}$ |
| iii) | One seaport of eastern coast by symbol  with name. | $\frac{1}{2} + \frac{1}{2}$ |
| iv) | Any tea producing area by symbol  with name. | $\frac{1}{2} + \frac{1}{2}$ |
| v) | The capital city of Chhattisgarh by symbol  with name. | $\frac{1}{2} + \frac{1}{2}$ |

(केवल दृष्टिबाधित परीक्षार्थियों के लिये मानचित्र कार्य के विकल्प के रूप में)

(**Only for visually impaired examinees in lieu of Map work**)

9(A). निर्देश : निम्नलिखित प्रश्नों के उत्तर अपनी उत्तर-पुस्तिका में लिखिए। मानचित्र का प्रयोग न कीजिए।

- | | | |
|------|--|---|
| i) | सितम्बर, 1920 में भारतीय राष्ट्रीय कांग्रेस का अधिवेशन किस स्थान पर हुआ था ? | 1 |
| ii) | जलियाँवाला बाग हत्याकाण्ड किस स्थान पर हुआ ? | 1 |
| iii) | महात्मा गाँधी ने किस स्थान पर नमक कानून तोड़ा ? | 1 |
| iv) | गुजरात में किसानों ने किस स्थान पर सत्याग्रह आन्दोलन किया था ? | 1 |

9(A). *Instruction* : Write the answers of the following questions in your answer-book. Do not use the map.

- i) Where did the Indian National Congress hold its session in September, 1920 ? 1
- ii) Where did the Jallianwala Bagh incident take place ? 1
- iii) Where did Mahatma Gandhi break the Salt Law ? 1
- iv) Where did peasants hold their Satyagraha Movement in Gujarat ? 1
- v) Where did the Indian National Congress hold its session in 1929 ?

9(B). **निर्देश** : निम्नलिखित प्रश्नों के उत्तर अपनी उत्तर-पुस्तिका में लिखिए। मानचित्र का प्रयोग न कीजिए।

- i) उत्तर भारत की एक नदी का नाम लिखिए। 1
- ii) किसी एक ताप विद्युत ऊर्जा केन्द्र का नाम लिखिए। 1
- iii) भारत के पूर्वी तट पर स्थित एक पत्तन (बन्दरगाह) का नाम लिखिए। 1
- iv) चाय उत्पादन के किसी क्षेत्र का नाम लिखिए। 1
- v) छत्तीसगढ़ की राजधानी का नाम लिखिए। 1

9(B). *Instruction* : Write the answers of the following questions in your answer-book. Do not use the map.