

अनुक्रमांक

नाम

932

825(FE)

2013

सामाजिक विज्ञान

केवल प्रश्नपत्र

(ऐतिहासिक एवं सांस्कृतिक विरासत, पर्यावरणीय अध्ययन,
नागरिक जीवन एवं आर्थिक विकास)

समय : तीन घण्टे 15 मिनट]

[पूर्णांक : 70

निर्देश : प्रारम्भ के 15 मिनट परीक्षार्थियों को प्रश्नपत्र पढ़ने के लिए
निर्धारित हैं ।

निर्देश : i) यह प्रश्नपत्र दो खण्डों क एवं ख में विभाजित
है । प्रत्येक खण्ड के सभी प्रश्न एक साथ हल
करना आवश्यक है । प्रत्येक खण्ड का उत्तर नए
पृष्ठ से प्रारम्भ किया जाय ।

[Turn over

- ii) प्रत्येक प्रश्न के लिए निर्धारित अंक उसके सम्मुख
अंकित हैं ।
- iii) प्रश्नपत्र में चार प्रकार के प्रश्न हैं —
बहुविकल्पीय, अति लघु उत्तरीय, लघु उत्तरीय व
विस्तृत उत्तरीय जिनके सम्बन्ध में निर्देश उनके
आरम्भ में दिये गये हैं ।
- iv) क तथा ख खण्डों हेतु दिये गये मानचित्रों को
उत्तर-पुस्तिका में मजबूती के साथ संलग्न करना
आवश्यक है ।
- v) दृष्टिबाधित परीक्षार्थियों के लिये मानचित्र कार्य
के स्थान पर अलग से खण्ड - क में प्रश्न
संख्या 14 तथा खण्ड - ख में प्रश्न संख्या 28 के
उत्तर लिखने के लिये दिये गये हैं ।

खण्ड - क

(बहुविकल्पीय प्रश्न)

निर्देश : सही विकल्प चुनकर उसे अपनी उत्तर-पुस्तिका में लिखिये ।

1. 'गुरुत्वाकर्षण' के सिद्धान्त का प्रतिपादक कौन था ?
 (क) केपलर
 (ख) न्यूटन
 (ग) रोजर बेकन
 (घ) गैलीलियो । 1
2. समुद्री मार्ग द्वारा सर्वप्रथम भारत पहुँचने वाला व्यक्ति कौन था ?
 (क) सर फ्रांसिस ड्रेक
 (ख) मैगलेन
 (ग) वास्को डि गामा
 (घ) कोलम्बस । 1

3. 'बोस्टन चाय पार्टी' घटना किस देश की क्रान्ति से संबंधित है ?
 (क) अमेरिका
 (ख) रूस
 (ग) फ्रांस
 (घ) इंग्लैण्ड । 1
4. इलाहाबाद उच्च न्यायालय की खण्डपीठ कहाँ स्थापित है ?
 (क) मेरठ
 (ख) आगरा
 (ग) लखनऊ
 (घ) वाराणसी । 1
5. कांग्रेस ने सन् 1942 में 'भारत छोड़ो आन्दोलन' प्रस्ताव कहाँ पारित किया था ?
 (क) इलाहाबाद
 (ख) बम्बई
 (ग) कलकत्ता
 (घ) मद्रास । 1

6. निम्नलिखित में से कौन-सा एक तत्व भारतीय विदेश नीति का आधार नहीं है ?

(क) विश्व शान्ति की स्थापना में सहयोग

(ख) अन्तरराष्ट्रीय कानून का पालन

(ग) उपनिवेशवाद का समर्थन

(घ) सैनिक गुटबन्दियों से पृथकता ।

1

(अति लघु उत्तरीय प्रश्न)

7. औद्योगिक क्रान्ति का अर्थ स्पष्ट करते हुए किन्हीं दो कारणों को लिखिए जिनसे इंग्लैण्ड में इसका सर्वप्रथम विस्तार हुआ ।

 $1 + \frac{1}{2} + \frac{1}{2}$

8. द्वितीय विश्वयुद्ध के बाद विश्व शान्ति की स्थापना के लिए किस अंतरराष्ट्रीय संस्था की स्थापना की गई ? इसके किन्हीं दो अंगों के नाम लिखिए ।

 $1 + \frac{1}{2} + \frac{1}{2}$

[Turn over

9. यदि राज्य विधान सभा में किसी भी राजनीतिक दल को स्पष्ट बहुमत न मिले तो राज्यपाल किसे मुख्यमंत्री नियुक्त करेगा ?

2

(लघु उत्तरीय प्रश्न)

10. सांप्रदायिकता की भावना किस प्रकार लोकतंत्र के सिद्धान्तों के विपरीत है ? इस भावना को दूर करने के कोई दो उपाय लिखिये ।

 $1 + 1 + 1$

अथवा

विधान सभा के अध्यक्ष का निर्वाचन कैसे होता है ? उसके कोई चार कार्य लिखिये ।

 $1 + \frac{1}{2} + \frac{1}{2} + \frac{1}{2} + \frac{1}{2}$

11. दक्षेस (सार्क) की स्थापना कब और कहाँ हुई ? इसके किन्हीं दो उद्देश्यों को लिखिए ।

 $\frac{1}{2} + \frac{1}{2} + 1 + 1$

अथवा

भारत में उपराष्ट्रपति के निर्वाचन की क्या प्रक्रिया है ? क्या कोई व्यक्ति इस पद पर दोबारा निर्वाचित हो सकता है ?

 $2 + 1$

(दीर्घ उत्तरीय प्रश्न)

12. स्वामी दयानन्द और राजा राममोहन राय ने हिन्दू समाज में कुरीतियों और अंध-विश्वासों को हटाने के लिए क्या प्रयास किए ? क्या इन प्रयासों ने हिन्दू समाज के आधुनिकीकरण में कोई योगदान दिया ?

2 + 2 + 2

अथवा

महात्मा गाँधी ने भारत की स्वतंत्रता प्राप्ति के लिए असहयोग और सविनय अवज्ञा आन्दोलन चलाये । इन दोनों आन्दोलनों का परिचय देते हुए बताइए कि क्या ये दोनों अपने उद्देश्यों में सफल रहे ।

2 + 2 + 2

13. किसी देश के संविधान में न्यायपालिका की स्वतंत्रता का क्या महत्व है ? भारतीय संविधान में न्यायपालिका किस प्रकार नागरिकों के अधिकारों की सुरक्षा करती है ?

2 + 4


अथवा

भारतीय संसद के दोनों सदनों के सदस्यों की निर्वाचन प्रक्रिया में क्या अन्तर है ? लोकसभा और राज्यसभा में से कौन-सा सदन किस प्रकार अधिक शक्तिशाली है ? क्यों ?

3 + 3

[Turn over

(मानचित्र सम्बन्धी प्रश्न)

14. निम्नलिखित स्थानों को भारत के मानचित्र में  चिह्न

द्वारा नाम सहित दर्शाइए । सही नाम तथा सही स्थिति के लिये $\frac{1}{2}$, $\frac{1}{2}$ अंक निर्धारित हैं :

- (i) वह नगर जहाँ सन् 1907 में हुए अधिवेशन में कांग्रेस दो गुटों में बंट गई । $\frac{1}{2} + \frac{1}{2}$

- (ii) वह नगर जहाँ स्वामी दयानन्द ने आर्य समाज की स्थापना की । <https://www.upboardonline.com> $\frac{1}{2} + \frac{1}{2}$

- (iii) वह स्थान जहाँ भारतीय वायुसेना का मुख्यालय स्थापित है । $\frac{1}{2} + \frac{1}{2}$

- (iv) वह स्थान जहाँ स्वर्णमंदिर स्थापित है । $\frac{1}{2} + \frac{1}{2}$

- (v) वह नगर जिसे 1857 की क्रान्ति के समय नाना साहब ने अंग्रेजों से छीन लिया । $\frac{1}{2} + \frac{1}{2}$

(केवल दृष्टिबाधित परीक्षार्थियों के लिये मानचित्र कार्य के विकल्प के रूप में)

निर्देश : निम्नलिखित प्रश्नों के उत्तर अपनी उत्तर-पुस्तिका में लिखिए । मानचित्र का प्रयोग न कीजिए ।

- (i) उस नगर और राज्य का नाम लिखिये जहाँ सन् 1907 में हुए अधिवेशन में कांग्रेस दो गुटों में बंट गई । $\frac{1}{2} + \frac{1}{2}$
- (ii) उस नगर और राज्य का नाम लिखिये जहाँ स्वामी दयानन्द ने आर्य समाज की स्थापना की । $\frac{1}{2} + \frac{1}{2}$
- (iii) उस नगर तथा राज्य का नाम लिखिये जहाँ भारतीय वायु सेना का मुख्यालय स्थापित है । $\frac{1}{2} + \frac{1}{2}$
- (iv) उस नगर और राज्य का नाम लिखिये जहाँ स्वर्ण मंदिर स्थित है । $\frac{1}{2} + \frac{1}{2}$
- (v) उस नगर और राज्य का नाम लिखिये जिसे सन् 1857 के स्वतंत्रता संग्राम के समय नाना साहब ने अंग्रेजों से छीन लिया । $\frac{1}{2} + \frac{1}{2}$

[Turn over

खण्ड - ख

(बहुविकल्पीय प्रश्न)

निर्देश : निम्नलिखित विकल्पों में से सही उत्तर चुनकर उत्तर-पुस्तिका में लिखिए :

15. निम्नलिखित में से सबसे लम्बी नदी कौन है ?

(क) यमुना

(ख) गोदावरी

(ग) कावेरी

(घ) ताप्ती ।

1

16. भारत में विदेशी विनिमय को नियन्त्रित करने वाला निम्नलिखित में से कौन है ?

(क) स्टेट बैंक ऑफ इण्डिया

(ख) रिजर्व बैंक ऑफ इण्डिया

(ग) यूनियन बैंक ऑफ इण्डिया

(घ) इण्डियन ओवरसीज बैंक ।

1

17. निम्नलिखित में से कौन उद्योग कृषि आधारित नहीं है ?

(क) सूती वस्त्र उद्योग

(ख) चीनी उद्योग

(ग) सीमेन्ट उद्योग

(घ) जूट उद्योग ।

1

18. आपरेशन फ्लड सम्बन्धित है

(क) बाढ़ नियन्त्रण से

(ख) सिंचाई से

(ग) दुग्ध उत्पादन से

(घ) मत्स्य उत्पादन से ।

1

19. निम्नलिखित में से कौन कृषि निविष्ट नहीं है ?

(क) बीज

(ख) पूँजी

(ग) लगान

(घ) व्यापार ।

1

20. निम्नलिखित में कौन भारत के निर्यात की वस्तु है ?

(क) खनिज तेल

(ख) जूट निर्मित वस्तुएँ

(ग) मशीनें

(घ) मशीन के पुर्जे ।

1

(अति लघु उत्तरीय प्रश्न)

21. मिट्टी के किन्हीं दो महत्वों का वर्णन कीजिए । 1 + 1

22. ऊर्जा के किन्हीं दो संसाधनों पर प्रकाश डालिए । 1 + 1

23. आर्थिक नियोजन से आप क्या समझते हैं ? स्पष्ट कीजिए ।

2

(लघु उत्तरीय प्रश्न)

24. वनों के तीन महत्वों का वर्णन कीजिए । 1 + 1 + 1

अथवा

वन संरक्षण के लिए तीन उपाय सुझाइये । 1 + 1 + 1

25. भारत के किन्हीं तीन बहुउद्देशीय नदी घाटी परियोजनाओं के महत्वों का उल्लेख कीजिए । 1 + 1 + 1

अथवा

दामोदर घाटी परियोजना की स्थिति एवं महत्वों का वर्णन कीजिए । 1 + 2

[Turn over

(दीर्घ उत्तरीय प्रश्न)

26. उत्पादन का क्या तात्पर्य है ? उत्पादन के साधनों का वर्णन कीजिए । 1 + 1 + 1 + 1 + 1 + 1

अथवा

भारतीय अर्थव्यवस्था में लघु एवं कुटीर उद्योगों के महत्व पर प्रकाश डालिए । 3 + 3

27. भारत में बढ़ती जनसंख्या की किन्हीं तीन समस्याओं की विवेचना कीजिए । 2 + 2 + 2


अथवा


भारत में कागज उद्योग के कच्चे माल की उपलब्धता एवं प्रमुख केन्द्रों का वर्णन कीजिए । 3 + 3


(मानचित्र कार्य)


28. भारत के दिये गये मानचित्र में निम्नलिखित को प्रदर्शित कीजिए :

(i) इलाइची की पहाड़ियाँ ~ चिह्न द्वारा नाम सहित ।
 $\frac{1}{2} + \frac{1}{2}$

(ii) कपास उत्पादक एक प्रमुख क्षेत्र  चिह्न द्वारा ।
1

(iii) विशाखापत्तनम् बन्दरगाह  चिह्न द्वारा नाम सहित ।
 $\frac{1}{2} + \frac{1}{2}$

(iv) कावेरी नदी  चिह्न द्वारा नाम सहित ।
 $\frac{1}{2} + \frac{1}{2}$

(v) कोलकाता से मुगलसराय तक रेलमार्ग बीच के एक स्टेशन नाम सहित  चिह्न द्वारा ।
 $\frac{1}{2} + \frac{1}{2}$

[Turn over

(केवल दृष्टिबाधित परीक्षार्थियों हेतु)

मानचित्र कार्य के विकल्प के रूप में)

निर्देश : निम्नलिखित प्रश्नों के उत्तर अपनी उत्तर-पुस्तिका में लिखिए । मानचित्र का प्रयोग न करें ।

(i) नर्मदा और ताप्ती नदियों के मध्य कौन पर्वत है ? 1

(ii) चाय उत्पादक एक राज्य का नाम बताइए । 1

(iii) भिलाई किस राज्य में स्थित है ? 1

(iv) झारखण्ड की राजधानी का नाम लिखिए । 1

(v) काली मिट्टी के एक राज्य का नाम लिखिए । 1

825(FE) - 6,00,000

<https://www.upboardonline.com>

Whatsapp @ 9300930012

Send your old paper & get 10/-

अपने पुराने पेपर्स भेजे और 10 रुपये पायें,

Paytm or Google Pay से