

## खण्ड-क

## बहुविकल्पीय प्रश्न

निर्देश—निम्नलिखित विकल्पों में से सही उत्तर चुनकर अपनी उत्तर-पुस्तिका में लिखिए—

1. प्रथम विश्व युद्ध के समय संयुक्त राज्य अमेरिका का राष्ट्रपति कौन था— 1  
(क) विल्सन (ख) लिंकन  
(ग) कैनेडी (घ) रूजवेल्ट।
2. प्रोटेस्टेंट सम्प्रदाय की स्थापना किसने की— UPBOARDONLINE.COM 1  
(क) संत ऑगस्टीन (ख) मार्टिन लूथर  
(ग) रोजर बेकन (घ) हेनरी चतुर्थ।
3. रानी अवन्ती बाई, जिसने 1857 ई० में अंग्रेजों के विरुद्ध संघर्ष किया था, शासक थी— 1  
(क) रामगढ़ की (ख) ग्वालियर की  
(ग) नागपुर की (घ) कोटा की।
4. भारतीय राष्ट्रीय कांग्रेस ने 'पूर्ण स्वराज' प्राप्त करने का लक्ष्य कब घोषित किया— 1  
(क) 1920 ई० (ख) 1929 ई०  
(ग) 1930 ई० (घ) 1942 ई०।
5. इस (हमारे) राज्य के मुख्य क्षेत्रीय दल का नाम है— 1  
(क) भारतीय राष्ट्रीय कांग्रेस (ख) बहुजन समाज पार्टी  
(ग) समाजवादी पार्टी (घ) साम्यवादी पार्टी।
6. निम्नलिखित में से किसने भारत में आर्थिक नियोजन की नीति प्रारम्भ की— 1  
(क) पं० जवाहर लाल नेहरू  
(ख) डॉ० बी०आर० अम्बेडकर  
(ग) सरदार बल्लभ भाई पटेल  
(घ) महात्मा गाँधी। UPBOARDONLINE.COM

## अति लघु उत्तरीय प्रश्न

7. 1893 ई० में विश्व धर्म सम्मेलन किस स्थान पर आयोजित किया गया था? इसमें भारत की ओर से किसने भाग लिया? 1+1
8. गुटनिरपेक्ष आन्दोलन के जन्मदाताओं में से किन्हीं दो का नाम लिखिए। 1+1
9. सार्क का सचिवालय कहाँ और किस देश में स्थित है? 1+1

## लघु उत्तरीय प्रश्न

10. महात्मा गाँधी ने असहयोग आन्दोलन कब चलाया? इसके कोई दो मुख्य कारण बताइए। 1+1+1

## अथवा

किन्हीं दो मुस्लिम सुधार आन्दोलनों का उल्लेख कीजिए। इनका तत्कालीन मुस्लिम समाज पर क्या प्रभाव पड़ा? 1½ + 1½

11. भारतीय विदेश नीति के किन्हीं तीन सिद्धान्तों का वर्णन कीजिए। 1+1+1

## अथवा

विश्व शान्ति के लिए निःशस्त्रीकरण क्यों आवश्यक है? किन्हीं दो कारणों का उल्लेख कीजिए। UPBOARDONLINE.COM 1½ + 1½

## दीर्घ उत्तरीय प्रश्न

12. भारत के वर्तमान राष्ट्रपति का नाम बताइए। उसके पद की अर्हताएँ क्या हैं? उसकी निर्वाचन प्रक्रिया उदाहरण सहित समझाइए। 1+2+3

## अथवा

किसी राज्य के मुख्यमंत्री की नियुक्ति किस प्रकार की जाती है? राज्य के प्रशासन में उसकी भूमिका की व्याख्या कीजिए। 2+4

13. फ्रांसीसी क्रान्ति के किन्हीं तीन कारणों को स्पष्ट कीजिए। उनका क्या प्रभाव पड़ा? 3+3

15वीं सदी में नए स्थलों की खोज के लिए उत्तरदायी परिस्थितियों का वर्णन कीजिए।

6

### मानचित्र सम्बन्धी प्रश्न

निर्देश—प्रश्न संख्या 14 प्रदत्त भारत के मानचित्र से सम्बन्धित है। सही नाम व स्थिति के लिए  $\frac{1}{2}, \frac{1}{2}$  अंक निर्धारित हैं। UPBOARDONLINE.COM

14. निम्नलिखित स्थानों को ⊙ चिह्न द्वारा नाम सहित दर्शाइए—

- |   |                             |
|---|-----------------------------|
| (i) वह स्थान जहाँ दशावतार मन्दिर स्थित है।                        | $\frac{1}{2} + \frac{1}{2}$ |
| (ii) वह स्थान जहाँ 'विक्टोरिया मेमोरियल हाल' स्थित है।            | $\frac{1}{2} + \frac{1}{2}$ |
| (iii) वह स्थान जहाँ उत्तराखण्ड की राजधानी है।                     | $\frac{1}{2} + \frac{1}{2}$ |
| (iv) वह स्थान जहाँ सूर्य मन्दिर स्थित है।                         | $\frac{1}{2} + \frac{1}{2}$ |
| (v) वह नगर जहाँ बेगम हजरत महल ने क्रान्तिकारियों का नेतृत्व किया। | $\frac{1}{2} + \frac{1}{2}$ |

### खण्ड - ख

#### बहुविकल्पीय प्रश्न

निर्देश—निम्नलिखित विकल्पों में से सही उत्तर चुनकर उत्तर-पुस्तिका में लिखिए—

15. निम्नलिखित में से कौन-सा नगर सीमेन्ट उद्योग से सम्बन्धित है— 1
- |           |               |
|-----------|---------------|
| (क) कटनी  | (ख) आगरा      |
| (ग) भोपाल | (घ) ग्वालियर। |
16. पूर्वोत्तर रेलवे का मुख्यालय है— 1
- |              |             |
|--------------|-------------|
| (क) कोलकाता  | (ख) गोरखपुर |
| (ग) मालेगाँव | (घ) बरौनी।  |
17. 2001 की जनगणना के अनुसार भारत में लिंगानुपात है— 1
- |         |         |         |          |
|---------|---------|---------|----------|
| (क) 970 | (ख) 890 | (ग) 940 | (घ) 933. |
|---------|---------|---------|----------|
18. निम्नलिखित में से कौन-सी विशेषता विकासशील देशों की नहीं है— 1
- |                                    |
|------------------------------------|
| (क) उच्च प्रौद्योगिकी का प्रयोग    |
| (ख) प्रति व्यक्ति आय का निम्न स्तर |
| (ग) निम्न कृषि उत्पादकता स्तर      |
| (घ) जनाधिक्य।                      |
19. हरित क्रान्ति सम्बन्धित है— 1
- |                   |                     |
|-------------------|---------------------|
| (क) दुग्ध उत्पादन | (ख) वृक्षारोपण      |
| (ग) कृषि उत्पादन  | (घ) मत्स्य उत्पादन। |
20. प्रथम पंचवर्षीय योजना की कार्य अवधि थी— 1
- |                                     |
|-------------------------------------|
| (क) 1 अप्रैल 1950 से 31 मार्च 1955  |
| (ख) 1 अप्रैल 1951 से 31 मार्च 1956  |
| (ग) 1 अप्रैल 1952 से 31 मार्च 1957  |
| (घ) 31 मार्च 1951 से 31 मार्च 1956। |

#### अति लघु उत्तरीय प्रश्न

21. ओजोन क्षरण को रोकने के लिए कोई दो उपाय सुझाइए। 1+1
22. भारतीय कृषि के विकास हेतु कोई दो उपाय सुझाइए। 1+1
23. सार्वजनिक वितरण प्रणाली के सफल क्रियान्वयन हेतु क्या कदम उठाने चाहिए? कोई दो सुझाव दीजिए। 1+1

#### लघु उत्तरीय प्रश्न

24. परिवहन सेवाओं के तीनों भागों का वर्णन कीजिए। 1+1+1

#### अथवा

कपास की खेती के लिए उपयुक्त तापक्रम, वर्षा एवं मिट्टी का उल्लेख कीजिए।

UPBOARDONLINE.COM

1+1+1

25. आर्थिक नियोजन की किन्हीं तीन उपलब्धियों का वर्णन कीजिए। 1+1+1

#### अथवा

भारतीय रिजर्व बैंक के किन्हीं तीन कार्यों का उल्लेख कीजिए। 1+1+1

#### दीर्घ उत्तरीय प्रश्न

26. परमाणु ऊर्जा से आप क्या समझते हैं? इसकी किन्हीं पाँच विशेषताओं की विवेचना कीजिए। 1+1+1+1+1

**अथवा**

दामोदर नदी-घाटी परियोजना की स्थिति पर प्रकाश डालिए। इससे होने वाले किन्हीं चार लाभों की विवेचना कीजिए।

2+1+1+1+1

27. वस्तु विनिमय प्रणाली से आप क्या समझते हैं? इसके किन्हीं चार गुणों की विवेचना कीजिए।

UPBOARDONLINE.COM

2+1+1+1+1




**अथवा**

औद्योगीकरण से आप क्या समझते हैं? उद्योगों और कृषि की परस्पर निर्भरता की विवेचना कीजिए।

2+4

**मानचित्र कार्य**

28. निम्नलिखित को दिए गए भारत के मानचित्र में प्रदर्शित कीजिए।

- |   |                             |
|---|-----------------------------|
| (क) अरावली  चिह्न द्वारा नाम सहित।             | $\frac{1}{2} + \frac{1}{2}$ |
| (ख) माही नदी  चिह्न द्वारा नाम सहित।           | $\frac{1}{2} + \frac{1}{2}$ |
| (ग) तिरुपति ● चिह्न द्वारा नाम सहित।  | $\frac{1}{2} + \frac{1}{2}$ |
| (घ) पणजी ○ चिह्न द्वारा नाम सहित।   | $\frac{1}{2} + \frac{1}{2}$ |
| (ङ) मरुस्थलीय मिट्टी का क्षेत्र  चिह्न द्वारा। | $\frac{1}{2} + \frac{1}{2}$ |