

अनुक्रमांक

नाम ..

932

825(GN)

2014

सामाजिक विज्ञान

केवल प्रश्नपत्र

(ऐतिहासिक एवं सांस्कृतिक विरासत, पर्यावरणीय अध्ययन,
नागरिक जीवन एवं आर्थिक विकास)

समय : तीन घण्टे 15 मिनट | पूर्णांक : 70

निर्देश : प्रारम्भ के 15 मिनट परीक्षार्थियों को प्रश्नपत्र
पढ़ने के लिए निर्धारित हैं ।

सूचना : i) यह प्रश्नपत्र दो खण्डों क एवं ख में
वर्भाजित है। प्रत्येक खण्ड के सभी प्रश्न एक
साथ हल करना आवश्यक है। प्रत्येक खण्ड
का उत्तर नए पृष्ठ से प्रारम्भ किया जाय।

[Turn over

825(GN)

2

- ii) प्रत्येक प्रश्न के लिए निर्धारित अंक उसके
सम्मुख अंकित हैं।
- iii) प्रश्नपत्र में चार प्रकार के प्रश्न हैं —
बहुविकल्पीय, अति लघु उत्तरीय, लघु उत्तरीय
व विस्तृत उत्तरीय, जिनके सम्बन्ध में निर्देश
उनके आरम्भ में दिये गये हैं।
- iv) क तथा ख खण्डों हेतु दिये गये मानचित्रों को
उत्तर-पुस्तिका में मजबूती के साथ संलग्न
करना आवश्यक है।
- v) दृष्टिबाधित परीक्षार्थियों के लिये मानचित्र
कार्य के स्थान पर अलग से खण्ड - क में
प्रश्न संख्या 14 तथा खण्ड - ख में
प्रश्न संख्या 28 के उत्तर लिखने के लिये
दिये गये हैं।

खण्ड - क

(बहुविकल्पीय प्रश्न)

निर्देश : निम्नलिखित विकल्पों में से सही उत्तर
चुनकर अपनी उत्तर-पुस्तिका में लिखिए :

1. मैकियावेली द्वारा लिखित पुस्तक है
(क) डिवाइन कॉमेडी
(ख) दास कैपिटल
(ग) दि प्रिन्स
(घ) यूटोपिया। 1
2. औद्योगिक क्रान्ति का प्रारम्भ हुआ था
(क) फ्रांस में
(ख) इंग्लैण्ड में
(ग) जर्मनी में
(घ) भारत में। 1

https://www.upboardonline.com

https://www.upboardonline.com

3. वास्को डि गामा कालीकट पहुँचा
(क) 1482 ई० में
(ख) 1488 ई० में
(ग) 1492 ई० में
(घ) 1498 ई० में। ✓ 1
4. प्लासी के युद्ध के समय बंगाल का नवाब कौन था ?
(क) सिराजुद्दौला ✓
(ख) अलीवर्दी खाँ
(ग) मुर्शिद कुली खाँ
(घ) मीर कासिम। 1
5. संसद के संयुक्त अधिवेशन की अध्यक्षता करता है
(क) लोकसभा के अध्यक्ष ✓
(ख) उप-राष्ट्रपति
(ग) राष्ट्रपति
(घ) प्रधानमंत्री। 1

https://www.upboardonline.com

[Turn over

https://www.upboardonline.com

6. गुटनिरपेक्ष देशों का प्रथम सम्मेलन हुआ था

(क) बेलग्रेड में

(ख) हरारे में

(ग) नई दिल्ली में

(घ) कोलम्बो में।

1

(अति लघु उत्तरीय प्रश्न)

7. फ्रांस की क्रान्ति के दो परिणाम बताइए। 1 + 1

8. राज्य के मुख्यमंत्री की नियुक्ति किस प्रकार की जाती है ? सम्पूर्ण प्रक्रिया समझाइए। 2

9. उत्तर प्रदेश की विधान परिषद के गठन पर प्रकाश डालिए। 2

[Turn over

(लघु उत्तरीय प्रश्न)

10. राष्ट्र संघ (लीग ऑफ नेशन्स) की असफलता के तीन कारण बताइए। 1 + 1 + 1

अथवा

हिटलर कौन था ? उसकी नीतियों ने किस प्रकार द्वितीय विश्वयुद्ध को प्रभावित किया ? 1 + 2

11. भारत के राष्ट्रपति की दो संवैधानिक शक्तियों का वर्णन कीजिए। $1\frac{1}{2} + 1\frac{1}{2}$

अथवा

राज्यसभा के सदस्यों की क्या अर्हताएँ निर्धारित की गई हैं ? स्पष्ट उल्लेख कीजिए। 3

(दीर्घ उत्तरीय प्रश्न)

12. नरमपंथी एवं गरमपंथी कांग्रेसियों की नीतियों एवं कार्यक्रमों का अन्तर स्पष्ट कीजिए। 3 + 3

अथवा

- विवेकानन्द कौन थे ? उनका कहाँ जन्म हुआ था ? उनकी शिक्षाओं का भारतीय समाज पर क्या प्रभाव पड़ा ? 1 + 1 + 4
13. भारत की विदेश नीति की किन्हीं तीन विशेषताओं को उदाहरण सहित समझाइए। 2 + 2 + 2

अथवा

- संयुक्त राष्ट्र की स्थापना कब और कहाँ की गई थी ? इसके किन्हीं चार विशिष्ट संस्थानों का वर्णन कीजिए। 1 + 1 + 1 + 1 + 1 + 1

[Turn over

(मानचित्र सम्बन्धी प्रश्न)

सूचना : प्रश्न संख्या 14 दिये गये भारत के मानचित्र से संबंधित है, निम्नलिखित स्थानों को भारत के मानचित्र में ⊙ चिह्न द्वारा नाम सहित दर्शाइए। सही नाम तथा सही चिह्न के लिये $\frac{1}{2}$, $\frac{1}{2}$ अंक निर्धारित है : https://www.upboardonline.com

14. (i) वह स्थान जहाँ महात्मा गाँधी का जन्म हुआ था। $\frac{1}{2} + \frac{1}{2}$
- (ii) वह स्थान जहाँ भारत की राजधानी है। $\frac{1}{2} + \frac{1}{2}$
- (iii) वह स्थान जहाँ स्वर्ण मन्दिर स्थित है। $\frac{1}{2} + \frac{1}{2}$
- (iv) वह स्थान जहाँ दो राज्यों की राजधानी है। $\frac{1}{2} + \frac{1}{2}$
- (v) वह स्थान जहाँ रानी लक्ष्मीबाई रहती थीं। $\frac{1}{2} + \frac{1}{2}$

(केवल दृष्टिबाधित परीक्षार्थियों के लिये
मानचित्र कार्य के विकल्प के रूप में)

निर्देश : निम्नलिखित प्रश्नों के उत्तर अपनी उत्तर-पुस्तिका में
लिखिए। मानचित्र का प्रयोग न कीजिए।

14. (i) महात्मा गाँधी का जन्म कहाँ हुआ था ? 1
(ii) भारत की राजधानी कहाँ है ? 1
(iii) स्वर्ण मन्दिर कहाँ स्थित है ? 1
(iv) वह स्थान कहाँ है जहाँ दो राज्यों की राजधानी
है ? 1
(v) रानी लक्ष्मीबाई कहाँ रहती थीं ? 1

(बहुविकल्पीय प्रश्न)

निर्देश : निम्नलिखित विकल्पों में से सही उत्तर चुनकर
अपनी उत्तर-पुस्तिका में लिखिए :

15. भारत के किस राज्य में शीत ऋतु में वर्षा होती है ?
(क) गुजरात
(ख) पश्चिम बंगाल ✓
(ग) कर्नाटक
(घ) तमिलनाडु। 1
16. जलोढ़ मिट्टी का निर्माण किसके द्वारा होता है ?
(क) पवन द्वारा
(ख) ज्वालामुखी द्वारा
(ग) नदियों द्वारा
(घ) हिमानी द्वारा। 1

17. ज्वारीय वन पाये जाते हैं
(क) डेल्टाई भाग में ✓
(ख) मरुस्थलीय भाग में
(ग) पठारी भाग में
(घ) पहाड़ी भाग में। 1
18. आयकर किस सूची के अन्तर्गत आता है ?
(क) संघीय सूची
(ख) समवर्ती सूची
(ग) राज्य सूची
(घ) इनमें से कोई नहीं। 1
19. योजना आयोग का अध्यक्ष कौन होता है ?
(क) कृषि मन्त्री
(ख) वित्त मन्त्री
(ग) प्रधान मन्त्री ✓
(घ) मानव संसाधन विकास मन्त्री। 1

[Turn over

20. भारत में निम्नलिखित वस्तुओं में से सबसे अधिक किस वस्तु का निर्यात किया जाता है ?
(क) मशीनरी
(ख) चाय
(ग) उर्वरक
(घ) खनिज तेल। 1

(अति लघु उत्तरीय प्रश्न)

21. 'डेल्टा' किसे कहते हैं ? यह कैसे बनता है ? 1 + 1
22. जल प्रबंधन किसे कहते हैं ? इसकी दो विशेषताएँ बताइए। $1 + \frac{1}{2} + \frac{1}{2}$
23. 'विनिमय' के कोई दो लाभ लिखिए। 1 + 1

13

825(GN)

(लघु उत्तरीय प्रश्न)

24. बाजार की तीन विशेषताओं का उल्लेख कीजिए।

1 + 1 + 1

अथवा

कुशल एवं अकुशल श्रमिक का अन्तर स्पष्ट कीजिए।

$1\frac{1}{2} + 1\frac{1}{2}$

25. रेल परिवहन के किन्हीं तीन आर्थिक लाभों का वर्णन कीजिए।

1 + 1 + 1

अथवा

भारत में जूट की कृषि का संक्षिप्त विवरण निम्न

शीर्षकों के अन्तर्गत दीजिए :

$1\frac{1}{2} + 1\frac{1}{2}$

(क) भौगोलिक दशाएँ

(ख) उत्पादन क्षेत्र।

[Turn over

825(GN)

14

(दीर्घ उत्तरीय प्रश्न)

26. भारत के दक्षिणी पठारी भाग का वर्णन निम्न शीर्षकों के अन्तर्गत कीजिए :

2 + 2 + 2

(क) स्थिति

(ख) विस्तार

(ग) खनिज सम्पदा।

अथवा

‘भू-मण्डलीय तापन’ से आप क्या समझते हैं ? इसके दो कारण एवं दो प्रभाव लिखिए।

2 + 2 + 2

27. केन्द्र सरकार की आय के तीन स्रोतों का वर्णन कीजिए।

2 + 2 + 2

अथवा

भारतीय अर्थव्यवस्था में कुटीर उद्योग के तीन लाभ लिखिए।


2 + 2 + 2

(मानचित्र कार्य)


निर्देश : निम्नलिखित को दिये गये भारत के मानचित्र में दर्शाइए।

28. (i) दामोदर नदी  चिह्न द्वारा नाम सहित।


$$\frac{1}{2} + \frac{1}{2}$$

(ii) सतपुड़ा पर्वत  चिह्न द्वारा नाम सहित।


$$\frac{1}{2} + \frac{1}{2}$$

(iii) कोयला उत्पादन का एक क्षेत्र  चिह्न द्वारा नाम सहित।

$$\frac{1}{2} + \frac{1}{2}$$

(iv) सूती वस्त्र उद्योग का एक केन्द्र  चिह्न द्वारा नाम सहित।

$$\frac{1}{2} + \frac{1}{2}$$

(v) न्यून वर्षा वाला एक क्षेत्र  चिह्न द्वारा। 1

[Turn over

(केवल दृष्टिबाधित परीक्षार्थियों के लिये मानचित्र कार्य के विकल्प के रूप में)

निर्देश : निम्नलिखित प्रश्नों के उत्तर अपनी उत्तर-पुस्तिका में लिखिए। मानचित्र का प्रयोग न कीजिए।

28. (i) किस सागर में महानदी गिरती है ? 1

(ii) पश्चिम बंगाल में कोयला उत्पादन के एक क्षेत्र का नाम लिखिए। 1

(iii) भारत में न्यून वर्षा वाले किसी एक राज्य का नाम बताइए। 1

(iv) छत्तीसगढ़ की राजधानी का नाम लिखिए। 1

(v) चाय उत्पादक एक राज्य का नाम बताइए। 1

825(GN) - 6,20,000

https://www.upboardonline.com

Whatsapp @ 9300930012

Send your old paper & get 10/-

अपने पुराने पेपर्स भेजे और 10 रुपये पायें,

Paytm or Google Pay से