

932

825 (IZ)

2024

सामाजिक विज्ञान

समय : तीन घण्टे 15 मिनट]

[पूर्णांक : 70

सामान्य निर्देश :

- (i) प्रारम्भ के 15 मिनट परीक्षार्थियों को प्रश्न-पत्र पढ़ने के लिए निर्धारित हैं ।
- (ii) सभी प्रश्न अनिवार्य हैं ।
- (iii) यह प्रश्न-पत्र दो खण्डों, अ और ब में विभाजित है ।
- (iv) खण्ड-अ में 20 अंकों के 20 बहुविकल्पीय प्रश्न हैं । इनका उत्तर ओ.एम.आर. शीट पर दिया जाना है ।
- (v) ओ.एम.आर. शीट पर उत्तर अंकित किए जाने के पश्चात उसे काटें नहीं तथा इरेज़र (Eraser) एवं व्हाइटनर (Whitener) आदि का प्रयोग न करें ।
- (vi) खण्ड-ब 50 अंकों का है । इसमें दो प्रकार के प्रश्न हैं, वर्णनात्मक-1 तथा वर्णनात्मक-2 । मानचित्र सम्बन्धी दो प्रश्न (प्र.सं. 29 (क) व 29 (ख)) हैं ।
- (vii) प्रत्येक प्रश्न के लिए निर्धारित अंक उसके सम्मुख अंकित हैं ।
- (viii) दिए गए मानचित्रों को प्रश्न-पत्र से फाड़कर, उन पर उत्तर अंकित कीजिए तथा मानचित्रों को उत्तर-पुस्तिका में मज़बूती के साथ अवश्य संलग्न कीजिए ।
- (ix) दृष्टिबाधित परीक्षार्थियों के लिए मानचित्र-कार्य के स्थान पर अलग से प्रश्न लिखने के लिए दिए गए हैं ।

खण्ड - अ

(बहुविकल्पीय प्रश्न)

निर्देश : नीचे दिए गए प्रश्नों के प्रत्येक के चार विकल्प दिए गए हैं । सही विकल्प चुनकर उसे OMR उत्तर-पत्रक पर चिह्नित कीजिए ।

1. निम्नलिखित में से किसने एक गुप्त संगठन 'यंग इटली' बनाया था ?

(A) विक्टर इमैनुएल द्वितीय

(B) ज्यूसेपे मेत्सिनी

(C) ऑटो वॉन बिस्मार्क

(D) ज्यूसेपे गैरीबाल्डी

825 (IZ)

1

P.T.O.

2. 'कॉर्न लॉ' से संबंधित देश है : (D) ब्रिटेन
 (A) जर्मनी (B) सं.रा. अमेरिका (C) फ्रांस
3. नेपोलियन बोनापार्ट की पराजय कब हुई थी ? (D) 1818
 (A) 1810 (B) 1815 (C) 1817
4. महामंदी का सबसे बुरा असर पड़ा :
 (A) तकनीक पर (B) कृषि क्षेत्रक पर
 (C) परिवहन पर (D) उपर्युक्त में से कोई नहीं
5. 'गुलामगिरी' किसकी रचना है ?
 (A) ज्योतिबा फुले की (B) डॉ. राजेन्द्र प्रसाद की
 (C) महात्मा गाँधी की (D) मोतीलाल नेहरू की
6. निम्नलिखित में से कौन-सा विषय संघ सूची से संबंधित है ?
 (A) प्रतिरक्षा (B) कृषि (C) शिक्षा (D) व्यापार
7. भारतीय संविधान में भाषाओं को किस अनुसूची में रखा गया है ?
 (A) तीसरी (B) पाँचवीं (C) आठवीं (D) बारहवीं
8. भारतीय संविधान के बारे में निम्नलिखित में से कौन-सा कथन *गलत* है ?
 (A) यह धर्म के आधार पर भेदभाव की मनाही करता है ।
 (B) यह एक धर्म को राजकीय धर्म बताता है ।
 (C) सभी लोगों को किसी भी धर्म का पालन करने की आज़ादी देता है ।
 (D) किसी धार्मिक समुदाय में सभी नागरिकों को बराबरी का अधिकार देता है ।
9. 'जनता का, जनता के लिए शासन' किस शासन व्यवस्था की विशेषता है ?
 (A) राजतंत्र की
 (B) लोकतंत्र की
 (C) तानाशाही की
 (D) उपर्युक्त में से कोई नहीं

10. लोकतन्त्र के मूल्यांकन की दृष्टि से निम्नलिखित में से कौन-सा बिन्दु लोकतान्त्रिक व्यवस्थाओं के अनुरूप नहीं है ? 1
- (A) स्वतन्त्र और निष्पक्ष चुनाव (B) व्यक्ति की गरिमा
(C) बहुसंख्यकों का शासन (D) कानून के समक्ष समानता
11. उत्पत्ति के आधार पर संसाधनों का निम्नलिखित में से कौन-सा वर्गीकरण सही है ? 1
- (A) केवल जैव (B) केवल अजैव
(C) जैव और अजैव दोनों (D) उपर्युक्त में से कोई नहीं
12. प्रथम अन्तर्राष्ट्रीय पृथ्वी सम्मेलन किस नगर में आयोजित किया गया था ? 1
- (A) न्यूयॉर्क (B) रियो डी जेनेरो (C) पेरिस (D) नई दिल्ली
13. खरीफ़ की फ़सलों के बोए जाने का समय है : 1
- (A) जून - जुलाई (B) अक्टूबर - दिसम्बर
(C) मार्च - मई (D) अगस्त - अक्टूबर
14. निम्नलिखित में से कौन-सा ऊर्जा खनिज है ? 1
- (A) लौह अयस्क (B) अभ्रक (C) प्राकृतिक गैस (D) चूना-पत्थर
15. कृषि आधारित उद्योग का उदाहरण है : 1
- (A) लोहा एवं इस्पात उद्योग (B) सूती वस्त्र उद्योग
(C) रासायनिक उद्योग (D) सीमेंट उद्योग
16. भारतीय रेल में रेल प्रखंडों की कुल संख्या है : 1
- (A) 16 (B) 18 (C) 10 (D) 12
17. सूचना एवं संचार प्रौद्योगिकी का आर्थिक क्षेत्रक है : 1
- (A) प्राथमिक (B) द्वितीयक
(C) तृतीयक (D) चतुर्थक
18. उपभोक्ता सुरक्षा अधिनियम किस वर्ष पारित हुआ था ? 1
- (A) 1992 (B) 1986 (C) 1990 (D) 1995

19. किसी देश का विकास आधारित होता है : 1
- (A) प्रति व्यक्ति आय पर (B) औसत साक्षरता दर पर
- (C) लोगों की स्वास्थ्य स्थिति पर (D) उपर्युक्त सभी
20. 'मनरेगा' कार्यक्रम किस वर्ष प्रारंभ हुआ था ? 1
- (A) 2000 (B) 1995 (C) 2005 (D) 2010

खण्ड - ब

वर्णनात्मक-1 : निम्नलिखित प्रश्नों के उत्तर लगभग 80 शब्दों में दीजिए ।

21. प्रथम विश्व युद्ध के समय भारत का औद्योगिक उत्पादन क्यों बढ़ा ? 4
- अथवा
- जी-77 देशों से आप क्या समझते हैं ? 4
22. 'लोकतन्त्र शासन की अन्य व्यवस्थाओं से बेहतर है।' स्पष्ट कीजिए । 4
- अथवा
- लोकतन्त्र किस प्रकार उत्तरदायी, जिम्मेवार और वैध सरकार का गठन करता है ? 4
23. वैश्वीकरण से आप क्या समझते हैं ? भारतीय उद्योगों पर इसके प्रभाव का उल्लेख कीजिए । 2+2
- अथवा
- भारत में रेल परिवहन के विकास पर प्रकाश डालिए । <https://www.upboardonline.com> 4
24. मृदा-अपरदन को रोकने के कोई दो उपाय सुझाइए । 2+2
- अथवा
- चतुर्थक क्षेत्रक अन्य क्षेत्रकों से कैसे अलग है ? दो उदाहरणों सहित इसकी व्याख्या कीजिए । 2+2

वर्णनात्मक-2 : निम्नलिखित प्रश्नों के उत्तर लगभग 150 शब्दों में दीजिए ।

25. सत्याग्रह का क्या अभिप्राय है ? सत्याग्रह के संबंध में महात्मा गाँधी के क्या विचार थे ? 2+4
- अथवा
- भारत में राष्ट्रवाद के उदय के प्रमुख कारणों की व्याख्या कीजिए । 6

26. भारत की संघीय शासन व्यवस्था की विशिष्टताओं का वर्णन कीजिए । 6

अथवा

‘भारत एक पंथनिरपेक्ष देश है ।’ किन्हीं तीन प्रावधानों के आधार पर स्पष्ट कीजिए । $1\frac{1}{2}+1\frac{1}{2}+1\frac{1}{2}+1\frac{1}{2}$

27. भारतीय वनों के आर्थिक महत्त्व को स्पष्ट कीजिए । 6

अथवा

भारत में खनिज तेल (पेट्रोलियम) के उत्पादन एवं वितरण का वर्णन कीजिए । 3+3

28. आर्थिक विकास में ऋण की भूमिका का विश्लेषण कीजिए । 6

अथवा

भारत में उपभोक्ता आन्दोलन का परिचय दीजिए । 6

(मानचित्र-सम्बन्धी प्रश्न)

29. (क) निम्नलिखित स्थानों को भारत के दिए गए रेखा-मानचित्र (पृष्ठ 13 पर) में, \odot चिह्न द्वारा नाम सहित दर्शाइए । सही नाम तथा सही स्थान अंकन हेतु $\frac{1}{2}, \frac{1}{2}$ अंक निर्धारित है ।

(i) वह स्थान जहाँ भारतीय राष्ट्रीय कांग्रेस का अधिवेशन सितम्बर 1920 में हुआ था । $\frac{1}{2} + \frac{1}{2}$

(ii) वह जनपद जहाँ जलियाँवाला बाग की घटना घटी थी । $\frac{1}{2} + \frac{1}{2}$

(iii) वह स्थान जहाँ नील की खेती करने वाले किसानों का आन्दोलन हुआ था । $\frac{1}{2} + \frac{1}{2}$

(iv) वह स्थान जहाँ सूती मिल श्रमिकों ने सत्याग्रह किया था । $\frac{1}{2} + \frac{1}{2}$

(v) वह जनपद जहाँ चौरी-चौरा की घटना घटी थी । $\frac{1}{2} + \frac{1}{2}$

29. (ख) निम्नलिखित स्थानों को भारत के दिए गए रेखा-मानचित्र (पृष्ठ 15 पर) में, चिह्न द्वारा नाम सहित दर्शाइए । सही नाम तथा सही स्थान अंकन हेतु $\frac{1}{2}, \frac{1}{2}$ अंक निर्धारित है ।

(i) ओडिशा राज्य की एक प्रमुख नदी \curvearrowright चिह्न द्वारा, नाम सहित । $\frac{1}{2} + \frac{1}{2}$

(ii) मध्य प्रदेश का राजधानी नगर \odot चिह्न द्वारा, नाम सहित । $\frac{1}{2} + \frac{1}{2}$

(iii) सूती वस्त्र उद्योग का एक केन्द्र SS चिह्न द्वारा, नाम सहित । $\frac{1}{2} + \frac{1}{2}$

(iv) एक प्रमुख लौह अयस्क उत्पादक क्षेत्र \odot चिह्न द्वारा, नाम सहित । $\frac{1}{2} + \frac{1}{2}$

(v) पश्चिमी तट का एक बन्दरगाह (समुद्री पत्तन) \triangle चिह्न द्वारा, नाम सहित । $\frac{1}{2} + \frac{1}{2}$

(केवल दृष्टिबाधित परीक्षार्थियों के लिए प्रश्न संख्या 29 (क) के मानचित्र-कार्य के विकल्प स्वरूप)

निर्देश : निम्नलिखित प्रश्नों के उत्तर अपनी उत्तर पुस्तिका में लिखिए । मानचित्र का प्रयोग न कीजिए ।

- (i) भारतीय राष्ट्रीय कांग्रेस का अधिवेशन सितम्बर 1920 में कहाँ हुआ था ? 1
- (ii) जलियाँवाला बाग की घटना किस जनपद में घटी थी ? 1
- (iii) नील की खेती करने वाले किसानों का आन्दोलन किस स्थान पर हुआ था ? 1
- (iv) सूती मिल श्रमिकों ने सत्याग्रह किस स्थान पर किया था ? 1
- (v) चौरा-चौरा की घटना किस जनपद में हुई थी ? 1

(केवल दृष्टिबाधित परीक्षार्थियों के लिए प्रश्न संख्या 29 (ख) के मानचित्र-कार्य के विकल्प स्वरूप)

निर्देश : निम्नलिखित प्रश्नों के उत्तर अपनी उत्तर-पुस्तिका में लिखिए । मानचित्र का प्रयोग न कीजिए ।

- (i) ओडिशा राज्य की एक प्रमुख नदी का नाम लिखिए । 1
- (ii) मध्य प्रदेश के राजधानी नगर का नाम लिखिए । 1
- (iii) सूती वस्त्र उद्योग के एक केन्द्र का नाम लिखिए । 1
- (iv) एक प्रमुख लौह अयस्क उत्पादक क्षेत्र का नाम लिखिए । 1
- (v) पश्चिमी तट के एक बन्दरगाह (समुद्री पत्तन) का नाम लिखिए । 1

(English Version)

General Instructions :

- (i) First 15 minutes are allotted for examinees to read this question paper.
- (ii) All questions are **compulsory**.
- (iii) This question paper is divided into **two** parts, A and B.
- (iv) In **Part-A**, there are 20 multiple choice type questions of 20 marks. Answer should be given on OMR sheet.
- (v) After marking your answer on OMR sheet, do not cut it or use eraser or whitener to remove it.
- (vi) 50 marks are allotted to **Part-B**. It contains two types of questions, Descriptive-1 and Descriptive-2. There are two map related questions (Q. No. 29 (a) and 29 (b)).
- (vii) Marks allotted for each question are mentioned against them.
- (viii) Tear off the supplied maps from the question paper, indicate answer on them and compulsorily attach them firmly to your answer-book.
- (ix) For Vision-impaired examinees, questions have been given separately for writing answers in lieu of map-work.

Part - A

(Multiple Choice Type Questions)

Instruction : Four alternatives are given for each of the following questions. Choose the correct alternative and mark it on OMR answer-sheet.

1. Who among the following formed a secret society named 'Young Italy' ? 1
(A) Victor Emmanuel II (B) Giuseppe Mazzini
(C) Otto von Bismarck (D) Giuseppe Garibaldi
2. The country related to 'Corn Law' is : 1
(A) Germany (B) U.S.A. (C) France (D) Britain
3. When was Napoleon Bonaparte defeated ? 1
(A) 1810 (B) 1815 (C) 1817 (D) 1818
4. The Great Depression had the worst impact on : 1
(A) Technology (B) Agriculture sector
(C) Transport (D) None of the above
5. 'Gulamgiri' (Slavery) was written by : 1
(A) Jyotiba Phule (B) Dr. Rajendra Prasad
(C) Mahatma Gandhi (D) Motilal Nehru
6. Which of the following subject is related to Union List ? 1
(A) Defence (B) Agriculture (C) Education (D) Commerce

7. Languages have been placed in which Schedule of the Indian Constitution ? 1
 (A) Third (B) Fifth (C) Eight (D) Twelfth
8. Which one of the following statements about India's Constitution is *incorrect* ? 1
 (A) Prohibits discrimination on grounds of religion.
 (B) Gives official status to one religion.
 (C) Provides all individuals freedom to profess any religion.
 (D) Ensures equality of all citizens within religious communities.
9. 'Rule of the people, for the people' is the feature of which system of government ? 1
 (A) Monarchy (B) Democracy
 (C) Dictatorship (D) None of the above
10. In the context of assessing democracy, which among the following points is against the democratic system ? 1
 (A) Independent and Impartial Election
 (B) Dignity of Person
 (C) Rule of Majority
 (D) Equality before Law
11. Which one of the following is the correct classification of resources on the basis of their mode of origin ? <https://www.upboardonline.com> 1
 (A) Only biotic (B) Only non-biotic
 (C) Both biotic and non-biotic (D) None of the above
12. In which city was the first International Earth Summit convened ? 1
 (A) New York (B) Rio de Janeiro
 (C) Paris (D) New Delhi
13. The period of sowing of Kharif crops is : 1
 (A) June – July (B) October – December
 (C) March – May (D) August – October
14. Which of the following is an energy mineral ? 1
 (A) Iron ore (B) Mica
 (C) Natural Gas (D) Limestone
15. An example of agro based industry is : 1
 (A) Iron and Steel industry (B) Cotton Textile industry
 (C) Chemical industry (D) Cement industry

16. In the Indian Railways the total number of Railway Zones is : 1
 (A) 16 (B) 18 (C) 10 (D) 12
17. The economic sector of information and communication technology is : 1
 (A) Primary (B) Secondary
 (C) Tertiary (D) Quaternary
18. In which year was the Consumer Protection Act passed ? 1
 (A) 1992 (B) 1986 (C) 1990 (D) 1995
19. The development of a country is based on : 1
 (A) Per Capita Income
 (B) Average Literacy Rate
 (C) Health condition of the people
 (D) All of the above
20. In which year was the MGNREGA programme started ? 1
 (A) 2000 (B) 1995 (C) 2005 (D) 2010

Part - B

Descriptive-1 : Answer the following questions in about 80 words.

21. Why did industrial production in India increase during World War-I ? 4
OR
 What do you understand by G-77 countries ? 4
22. 'Democracy is better than other types of government.' Explain. 4
OR
 How does democracy organise an accountable, responsive and legitimate government ? 4
23. What do you mean by Globalization ? Mention its impact on industries in India. 2+2
OR
 Throw light on the development of railways in India. 4
24. Suggest any two measures to prevent soil erosion. 2+2
OR
 How is the quaternary sector different from other sectors ? Explain it with two examples. 2+2

Descriptive-2 : Answer the following questions in about 150 words.

25. What is meant by Satyagraha ? What were the views of Mahatma Gandhi about Satyagraha ? 2+4

OR

Explain the main reasons for the rise of nationalism in India. 6

26. Describe the specific features of the Federal system of government in India. 6

OR

'India is a secular country.' Explain on the basis of any three provisions. $1\frac{1}{2} + 1\frac{1}{2} + 1\frac{1}{2} + 1\frac{1}{2}$

27. Explain the economic importance of Indian forests. 6

OR

Describe the production and distribution of mineral oil (petroleum) in India. 3+3

28. Analyse the role of loan in economic development. 6

OR




Give an account of the Consumer Movement in India. 6

(Questions related to Map)

29. (a) In the given outline map of **India** (on page 13), locate the following places by the symbol \odot with names. For correct mention of name and location $\frac{1}{2}, \frac{1}{2}$ marks have been allotted.

- (i) The place where the session of Indian National Congress was held in September 1920. $\frac{1}{2} + \frac{1}{2}$
- (ii) The district where Jallianwalla Bagh incident took place. $\frac{1}{2} + \frac{1}{2}$
- (iii) The place where the Indigo Farmers Movement took place. $\frac{1}{2} + \frac{1}{2}$
- (iv) The place where cotton mill workers held Satyagraha. $\frac{1}{2} + \frac{1}{2}$
- (v) The district where Chauri Chaura incident took place. $\frac{1}{2} + \frac{1}{2}$

29. (b) In the given outline map of India (on page 15), locate the following places by symbol with names. For correct mention of name and marking of location $\frac{1}{2}, \frac{1}{2}$ marks have been allotted.

- (i) One important river of Odisha State by symbol , with name. $\frac{1}{2} + \frac{1}{2}$
- (ii) The capital city of Madhya Pradesh by symbol , with name. $\frac{1}{2} + \frac{1}{2}$
- (iii) One centre of Cotton Textile Industry by symbol (SS), with name. $\frac{1}{2} + \frac{1}{2}$
- (iv) An important Iron Ore producing region by symbol , with name. $\frac{1}{2} + \frac{1}{2}$
- (v) A sea port on the Western Coast by symbol Δ , with name. $\frac{1}{2} + \frac{1}{2}$

(Only for Visually-Impaired Examinees in lieu of Q. No. 29 (a) Map-Work)

Instructions : Write answers of the following questions in your answer-book. Do **not** use map.

- (i) Where was the session of Indian National Congress held in September 1920 ? 1
- (ii) In which district did Jallianwalla Bagh incident take place ? 1
- (iii) Where did the Indigo Farmers Movement take place ? 1
- (iv) Where did cotton mill workers hold Satyagraha ? 1
- (v) In which district did Chauri Chaura incident take place ? 1

(Only for Visually-Impaired Examinees in lieu of Q. No. 29 (b) Map-Work)

Instructions : Write answers of the following questions in your answer-book. Do **not** use map.

- (i) Write the name of one important river of Odisha State. 1
- (ii) Write the name of the capital city of Madhya Pradesh. 1
- (iii) Name a center of Cotton Textile Industry. 1
- (iv) Write the name of an important Iron Ore producing region. 1
- (v) Write the name of a sea port on the Western Coast. 1