

अनुक्रमांक

नाम

932

825(JD)

2024

सामाजिक विज्ञान

(Hindi and English versions)

समय : तीन घण्टे 15 मिनट]

[पूर्णांक : 70

नोट : प्रारम्भ के 15 मिनट परीक्षार्थियों को प्रश्नपत्र पढ़ने के लिए निर्धारित हैं ।

Note : First 15 minutes are allotted for the candidates to read the question paper.

निर्देश :

- i) सभी प्रश्न अनिवार्य हैं ।
- ii) इस प्रश्नपत्र के दो खण्ड, खण्ड - अ तथा खण्ड - ब हैं ।
- iii) खण्ड - अ में 1 अंक के 20 बहुविकल्पीय प्रश्न हैं जिनके उत्तर ओ० एम० आर० उत्तर पत्रक पर नीले अथवा काले बाल प्वाइंट कलम से सही विकल्प वाले गोले को पूर्ण रूप से काला कर चिह्नित करें ।
- iv) खण्ड - अ के प्रत्येक प्रश्न का निर्देश पढ़कर केवल प्रदत्त ओ० एम० आर० उत्तर पत्रक पर ही उत्तर दें। ओ० एम० आर० उत्तर पत्रक पर उत्तर देने के पश्चात उसे नहीं काटें तथा इरेजर अथवा हाइटनर का प्रयोग न करें ।
- v) प्रश्न के अंक उसके सम्मुख अंकित हैं ।
- vi) खण्ड - ब में 50 अंक के वर्णनात्मक प्रश्न हैं । इस खण्ड में वर्णनात्मक-I, वर्णनात्मक-II तथा मानचित्र सम्बन्धी दो प्रश्न हैं।
- vii) खण्ड - ब में सभी प्रश्नों के उत्तर एक साथ ही करें ।
- viii) प्रथम प्रश्न से आरम्भ कीजिए तथा अन्तिम प्रश्न तक करते जाइए । जो प्रश्न न आता हो उस पर समय नष्ट न कीजिए ।
- ix) दिए गए मानचित्रों को उत्तर-पुस्तिका के साथ मजबूती से संलग्न करना आवश्यक है।
- x) दृष्टिबाधित परीक्षार्थियों के लिए मानचित्र कार्य के स्थान पर अलग से प्रश्न 9(A) तथा 9(B) लिखने के लिए दिए गये हैं।

Instructions :

- i) All questions are compulsory.
- ii) This question paper has *two* Parts – **Part-A** and **Part-B**.
- iii) **Part-A** consists of **20** multiple choice questions of one mark each that have to be answered on OMR Answer Sheet by darkening completely the correct circle with **blue** or **black ballpoint pen**.
- iv) For **Part-A** read the question-wise instructions and mark your answer on the given OMR Answer Sheet only. Do not erase, cut or use whitener on the OMR Answer Sheet after answering.
- v) Marks of the questions are mentioned against them.
- vi) **Part-B** consists of descriptive type questions of **50** marks. There are Descriptive-I, Descriptive-II and two map related questions in this part.
- vii) All the questions of **Part-B** are to be attempted all at a time.
- viii) Start from the first question and go up to the last question. Do not waste your time on the question you cannot solve.
- ix) Attach firmly the supplied maps in your answer-book.
- x) For visually impaired examinees Question Nos. 9(A) and 9(B) have been given separately for writing answers in lieu of map work.

खण्ड - अ

PART - A

(बहुविकल्पीय प्रश्न)

(Multiple Choice Type Questions)

निर्देश : नीचे दिए गए प्रश्नों के प्रत्येक प्रश्न के चार विकल्प दिए गए हैं। सही विकल्प चुनकर उसे **OMR** उत्तर पत्रक पर चिह्नित करें :

Instruction : Four alternatives are given for each of the following questions. Choose the correct alternative and mark on **OMR** answer sheet :

1. वियना की संधि कब हुई थी ?
 (A) 1848 ई० (B) 1815 ई०
 (C) 1834 ई० (D) 1900 ई० 1
1. When did the treaty of Vienna take place ?
 (A) 1848 A.D. (B) 1815 A.D.
 (C) 1834 A.D. (D) 1900 A.D. 1

2. 'हिन्द स्वराज' पुस्तक के लेखक हैं
 (A) महात्मा गाँधी (B) सरदार पटेल
 (C) सुभाष चन्द्र बोस (D) बाल गंगाधर तिलक 1
2. The author of the book 'Hind Swaraj' is
 (A) Mahatma Gandhi (B) Sardar Patel
 (C) Subhash Chandra Bose (D) Bal Gangadhar Tilak 1
3. 'रिंडरपेस्ट' का सम्बन्ध है
 (A) पेड़-पौधों की बीमारी से (B) मवेशी की बीमारी से
 (C) महामारी से (D) इनमें से कोई नहीं 1
3. 'Rinderpest' is concerned with
 (A) Plant disease (B) Cattle disease
 (C) Epidemic spread (D) None of these 1
4. 'गुमास्ता' क्या है ?
 (A) बुनकर (B) कपड़ा व्यवसायी
 (C) वेतनभोगी कर्मचारी (D) ऊन बेचने वाले 1
4. What is 'Gumasta' ?
 (A) Weaver (B) Textile merchant
 (C) Salaried workers (D) Wool seller 1
5. 'गुलामगिरी' पुस्तक के लेखक कौन हैं ?
 (A) सरदार पटेल (B) महात्मा गाँधी
 (C) सावित्रीबाई फुले (D) ज्योतिबा फुले 1
5. The author of the book 'Gulamgiri' is
 (A) Sardar Patel (B) Mahatma Gandhi
 (C) Savitribai Phule (D) Jyotiba Phule 1
6. श्रीलंका स्वतंत्र राष्ट्र कब बना ?
 (A) 1947 ई० (B) 1948 ई०
 (C) 1957 ई० (D) 1981 ई० 1

6. When did Sri Lanka become an independent nation ?
 (A) 1947 AD (B) 1948 AD
 (C) 1957 AD (D) 1981 AD 1
7. भारत में लोकतांत्रिक विकेन्द्रीकरण हेतु किया गया संवैधानिक प्रावधान है
 (A) महिलाओं का संसद में प्रतिनिधित्व
 (B) स्थानीय स्वशासी निकायों को संवैधानिक दर्जा तथा नियमित चुनाव
 (C) न्यायपालिका को स्वतंत्रता
 (D) केन्द्र तथा राज्य के कार्यों का वर्गीकरण 1
7. Constitutional provision made for democratic decentralization in India is
 (A) Representation of women in parliament
 (B) Constitutional status and regular elections to local self-government bodies
 (C) Independence of judiciary
 (D) Classification of the functions of centre and states 1
8. भारत में संविधान की दृष्टि से कौन-सा कथन सही है ?
 (A) सनातन भारत का राजकीय धर्म है
 (B) अल्पसंख्यकों को उनकी जनसंख्या के अनुरूप प्रतिनिधित्व
 (C) धर्म के आधार पर भेदभाव का अभाव
 (D) ईसाइयों को विशेषाधिकार 1
8. Which one of the following statements is correct according to the constitution of India ?
 (A) Sanatan is the state religion of India
 (B) Representational of minorities in proportion to their population
 (C) Absence of discrimination on the basis of religion
 (D) Special power to Christians 1
9. निम्नलिखित में से कौन सबसे बड़ा लोकतांत्रिक देश है ?
 (A) भारत (B) ब्रिटेन
 (C) अमेरिका (D) श्रीलंका 1

9. Which one of the following is the greatest democratic country ?
 (A) India (B) Britain
 (C) America (D) Sri Lanka 1
10. एकदलीय व्यवस्था बढ़ावा देती है
 (A) लोकतांत्रिक व्यवस्था को (B) अधिनायकवादी व्यवस्था को
 (C) कुलीन तन्त्र को (D) राजतन्त्र को 1
10. One-party system promotes
 (A) Democratic system (B) Totalitarianism
 (C) Oligarchy (D) Monarchy 1
11. श्वेत क्रांति सम्बन्धित है
 (A) दुग्ध उत्पादन से (B) गेहूँ उत्पादन से
 (C) मत्स्य उत्पादन से (D) मोटा अनाज उत्पादन से 1
11. White resolution is associated with
 (A) Milk production (B) Wheat production
 (C) Pisciculture (D) Coarse grain production 1
12. सोपान कृषि की जाती है
 (A) उत्खात भूमि पर (B) ढाल वाली भूमि पर
 (C) मैदानी भूमि पर (D) मरुस्थली भूमि पर 1
12. Terrace farming is done in
 (A) Dry land (B) Sloping ground
 (C) Plain land (D) Desert land 1
13. 'हौज़ खास' जलीय निकाय स्थित है
 (A) ओडिशा में (B) राजस्थान में
 (C) कर्नाटक में (D) दिल्ली में 1
13. 'Hauz Khas' aquatic body is situated in
 (A) Odisha (B) Rajasthan
 (C) Karnataka (D) Delhi 1
14. सबसे लम्बा राष्ट्रीय जल-मार्ग है
 (A) हल्दिया से इलाहाबाद (B) सदिया से धुबरी
 (C) केरल में पश्चिम तटीय नहर (D) काकीनाड़ा से पुडुच्चेरी 1

14. The longest national waterway is
 (A) Haldia to Allahabad (B) Sadia to Dhubri
 (C) West Coast canal in Kerala (D) Kakinada to Puducherry
15. भारत की इलेक्ट्रॉनिक राजधानी है
 (A) हैदराबाद (B) दिल्ली
 (C) बंगलुरु (D) पुणे
15. The electronic capital of India is
 (A) Hyderabad (B) Delhi
 (C) Bengaluru (D) Pune
16. अन्तरराष्ट्रीय व्यापार को उदार बनाने का उद्देश्य है
 (A) आई.एम.एफ. (IMF) का (B) डब्ल्यू. टी. ओ. (WTO) का
 (C) नाटो (NATO) का (D) विश्व बैंक (World Bank) का
16. Which of the following has aim of liberalizing international trade ?
 (A) IMF (B) W.T.O
 (C) NATO (D) World Bank
17. राष्ट्रीय उपभोक्ता दिवस कब मनाते हैं ?
 (A) 24 दिसम्बर को (B) 5 जून को
 (C) 10 दिसम्बर को (D) 24 अक्टूबर को
17. When is National Consumer Day celebrated ?
 (A) 24th December (B) 5th June
 (C) 10th December (D) 24th October
18. वर्ष 2017-18 में द्वितीयक क्षेत्रक में कितने प्रतिशत ग्राम को रोजगार प्राप्त था ?
 (A) 49% (B) 11%
 (C) 15% (D) 25%
- What percentage of labour was employed in the secondary sector in the year 2017-18 ?
 (A) 49% (B) 11%
 (C) 15% (D) 25%

19. वर्ष 2019 में भारत में जन्म के समय संभावित आयु कितनी थी ?
 (A) 68.8 वर्ष (B) 72.8 वर्ष
 (C) 75.8 वर्ष (D) 67.8 वर्ष 1
19. What was the life expectancy at birth in India in the year 2019 ?
 (A) 68.8 years (B) 72.8 years
 (C) 75.8 years (D) 67.8 years 1
20. वर्ष 2012 में भारत के प्रति हजार ग्रामीण परिवारों में कितने प्रतिशत परिवारों के साख का स्रोत व्यावसायिक बैंक थे ?
 (A) 33% (B) 18%
 (C) 25% (D) 40% 1
20. In the year 2012, what percentage of per thousand rural households in India had commercial banks as their source of credit ?
 (A) 33% (B) 18%
 (C) 25% (D) 40% 1

खण्ड - ब

PART - B

(वर्णनात्मक - I)

(**Descriptive - I**)

(निम्न प्रश्नों के उत्तर प्रत्येक लगभग 80 शब्दों में दीजिए।)

(Write answers of the following questions in about 80 words each.)

1. आर्थिक महामंदी के दो प्रमुख कारणों का उल्लेख करें। 2 + 2
 अथवा
- भारत की अर्थव्यवस्था पर महामंदी के दो मुख्य प्रभावों का उल्लेख करें। 2 + 2
1. Mention the two main reasons for the economic Great Depression. 2 + 2

OR

Mention two major effects of Great Depression on the Indian economy ?

2 + 2

2. राजनीतिक दलों से आप क्या समझते हैं ? इनके किन्हीं दो कार्यों का उल्लेख कीजिए।
1 + 1½ + 1½

अथवा

- लोकतंत्र की किन्हीं दो प्रमुख चुनौतियों का वर्णन कीजिए। 2 + 2
2. What do you mean by political parties ? Mention any two functions of them. 1 + 1½ + 1½

OR

- Describe any two major challenges of democracy. 2 + 2
3. औद्योगिक प्रदूषण के नियंत्रण हेतु विभिन्न उपायों को सुझाइए। 4

अथवा

- ऊर्जा के परम्परागत स्रोतों का वर्णन कीजिए। 4
3. Suggest various measures to control industrial pollution. 4

OR

- Describe the conventional sources of energy. 4
4. विदेशी व्यापार से आप क्या समझते हैं ? भारत के विदेशी व्यापार की अभिनव प्रवृत्तियों का उल्लेख कीजिए। 2 + 2

अथवा

- सरकारी स्वामित्व वाले सार्वजनिक क्षेत्र के महत्व को रेखांकित कीजिए। 4
4. What do you understand by foreign trade ? Mention recent trends of foreign trade of India. 2 + 2

OR

- Underline the importance of government owned public sector. 4

(वर्णनात्मक - II)

(Descriptive - II)

(निम्न प्रश्नों के उत्तर प्रत्येक लगभग 150 शब्दों में दीजिए।)

(Write answers of the following questions in about 150 words each.)

5. यूरोप में राष्ट्रवाद के उदय का इटली एवं जर्मनी के एकीकरण में योगदान बताइए। 3 + 3

अथवा

- भारतीय राष्ट्रीय आन्दोलन में महात्मा गाँधी द्वारा चलाये गये तीन प्रमुख आन्दोलनों पर प्रकाश डालिए। 2 + 2 + 2

5. Give the contribution of the rise of nationalism in Europe in the unification of Italy and Germany. 3 + 3

OR

Throw light on the *three* major movements launched by Mahatma Gandhi in the Indian National Movement. 2 + 2 + 2

6. लैंगिक असमानता से आप क्या समझते हैं ? भारतीय राजनीतिक व्यवस्था में महिलाओं के प्रतिनिधित्व पर प्रकाश डालिए। 2 + 4

अथवा

भारत की संघात्मक व्यवस्था की प्रमुख विशेषताओं का वर्णन कीजिए। 6

6. What do you understand by gender inequality ? Throw light on the representation of women in Indian political system. 2 + 4

OR

Describe the main features of federal system of India. 6

7. नवीकरण योग्य एवं पुनः चक्रीय संसाधन को परिभाषित कीजिए। सतत पोषणीय विकास में इनके क्या योगदान हो सकते हैं ? <https://www.upboardonline.com> 2 + 4

अथवा

वनों का वर्गीकरण प्रस्तुत कीजिए। वन संरक्षण में सामुदायिक भूमिका की विवेचना कीजिए। 3 + 3

7. Define renewable and recyclable resources. What can be their contribution to sustainable development ? 2 + 4

OR

Present a classification of forests. Discuss the collective role of community in the conservation of forests. 3 + 3

8. औपचारिक तथा अनौपचारिक साख में विभेद कीजिए। इनके विभिन्न स्रोतों का वर्णन कीजिए। 3 + 3

अथवा

संगठित तथा असंगठित क्षेत्र के रोजगार में अन्तर स्पष्ट कीजिए। संगठित क्षेत्र के रोजगार को मिलने वाले लाभों का वर्णन कीजिए। 3 + 3

8. Differentiate between formal and informal credit. Describe its various sources. 3 + 3

OR

Explain the difference between organized and unorganized sectors of employment. Describe the advantages of organized sector of employment. 3 + 3

(मानचित्र सम्बन्धी प्रश्न)

(Map Related Questions)

निर्देश : प्रश्न संख्या 9(A) तथा 9(B) मानचित्र से संबंधित हैं।

Instruction : Question Nos. 9(A) and 9(B) are related to map.






- 9(A). निम्नलिखित स्थानों को भारत के दिये गये रेखा मानचित्र में \odot चिह्न द्वारा नाम सहित दर्शाइए। सही नाम तथा अंकन के लिए $\frac{1}{2}$, $\frac{1}{2}$ अंक निर्धारित हैं :

- | | |
|--|-----------------------------|
| i) वह जनपद जहाँ चौरी-चौरा की घटना घटी। | $\frac{1}{2} + \frac{1}{2}$ |
| ii) वह नगर जहाँ जालियाँवाला बाग की घटना हुई थी। | $\frac{1}{2} + \frac{1}{2}$ |
| iii) वह स्थान जहाँ 1929 में भारतीय राष्ट्रीय कांग्रेस का अधिवेशन हुआ था। | $\frac{1}{2} + \frac{1}{2}$ |
| iv) वह स्थान जहाँ से सर्वप्रथम असहयोग आन्दोलन की शुरुआत हुई। | $\frac{1}{2} + \frac{1}{2}$ |
| v) वह स्थान जहाँ गाँधीजी ने नमक कानून तोड़ा। | $\frac{1}{2} + \frac{1}{2}$ |






- 9(A). In the given outline map of India, locate the following places by the symbol \odot with names. For correct mention of name and marking of location $\frac{1}{2}$, $\frac{1}{2}$ marks have been allotted.

- | | |
|--|-----------------------------|
| i) The district where Chauri-Chaura incident took place. | $\frac{1}{2} + \frac{1}{2}$ |
| ii) The town where Jallianwala Bagh incident took place. | $\frac{1}{2} + \frac{1}{2}$ |
| iii) The place where the session of Indian National Congress was held in 1929. | $\frac{1}{2} + \frac{1}{2}$ |
| iv) The place from where Non-cooperation Movement started. | $\frac{1}{2} + \frac{1}{2}$ |
| v) The place where Mahatma Gandhi broke the salt law. | $\frac{1}{2} + \frac{1}{2}$ |

9(B). निर्देश : दिये गये भारत के मानचित्र में निम्नलिखित को दर्शाइए :

- i) भारत में स्थित एक आणविक ऊर्जा संयंत्र को  चिह्न द्वारा नाम सहित। $\frac{1}{2} + \frac{1}{2}$
- ii) उत्तर प्रदेश में स्थित सॉफ्टवेयर टेक्नोलॉजी पार्क को  चिह्न द्वारा शहर के नाम सहित। $\frac{1}{2} + \frac{1}{2}$
- iii) तमिलनाडु राज्य में स्थित लौह-इस्पात संयंत्र को  चिह्न द्वारा शहर के नाम सहित। $\frac{1}{2} + \frac{1}{2}$
- iv) दक्षिण भारत का रेशम वस्त्र उद्योग का एक प्रधान राज्य को  चिह्न द्वारा नाम सहित। $\frac{1}{2} + \frac{1}{2}$
- v) उत्तराखंड राज्य में स्थित प्रमुख बाँध को  चिह्न द्वारा नाम सहित। $\frac{1}{2} + \frac{1}{2}$

9(B). Instruction : Show the following on the given map of India :

- i) An atomic energy plant in India by  symbol including name. $\frac{1}{2} + \frac{1}{2}$
- ii) A city in Uttar Pradesh where the software technology park is situated by  symbol including name. $\frac{1}{2} + \frac{1}{2}$
- iii) An iron-steel plant in Tamil Nadu state by  symbol including the name of city. $\frac{1}{2} + \frac{1}{2}$
- iv) The major state of silk textile industry in South India by  symbol including name. $\frac{1}{2} + \frac{1}{2}$
- v) A major dam in Uttarakhand state by  symbol including name. $\frac{1}{2} + \frac{1}{2}$

(केवल दृष्टिबाधित परीक्षार्थियों के लिये मानचित्र कार्य के विकल्प के रूप में)

(Only for visually impaired examinees in lieu of Map work)

9(A). निर्देश : निम्नलिखित प्रश्नों के उत्तर अपनी उत्तर-पुस्तिका में लिखिए। मानचित्र का प्रयोग न कीजिए।

- i) किस जनपद में चोरी-चौरा की घटना घटी थी ? 1
- ii) किस नगर में जालियाँवाला बाग की घटना हुई थी ? 1
- iii) किस स्थान पर 1929 में भारतीय राष्ट्रीय काँग्रेस का अधिवेशन हुआ था ? 1
- iv) किस स्थान पर असहयोग आन्दोलन की शुरुआत हुई ? 1
- v) किस स्थान पर गाँधीजी ने नमक कानून तोड़ा ? 1

9(A). *Instruction*: Write the answers of the following questions in your answer-book. Do not use map.

- i) In which district did the Chauri Chaura incident take place ? 1
- ii) In which town did the Jallianwala Bagh incident take place ? 1
- iii) Where was the session of Indian National Congress held in 1929 ? 1
- iv) From where did the non-cooperation movement start ? 1
- v) Where did Mahatma Gandhi break the salt law ? 1

9(B). निर्देश : निम्नलिखित प्रश्नों के उत्तर अपनी उत्तर-पुस्तिका में लिखिए। मानचित्र का प्रयोग न कीजिए।

- i) भारत में स्थित एक आणविक ऊर्जा संयंत्र का नाम लिखिए। 1
- ii) उत्तर प्रदेश के उस शहर का नाम लिखिए जहाँ सॉफ्टवेयर टेक्नोलॉजी पार्क स्थापित किया गया है। 1
- iii) तमिलनाडु राज्य के लौह-इस्पात संयंत्र वाले शहर का नाम लिखिए। 1
- iv) दक्षिण भारत के रेशम वस्त्र उद्योग के एक प्रधान राज्य का नाम लिखिए। 1
- v) उत्तराखंड राज्य में स्थित प्रमुख बाँध का नाम लिखिए। 1

9(B). *Instruction*: Write answers of the following questions in your answer-book. Do not use the map.

- i) Write the name of an atomic energy plant situated in India. 1
- ii) Write the name of the city in Uttar Pradesh where the software technology park is established. 1
- iii) Write the name of the city in Tamil Nadu where an iron-steel plant is located. 1
- iv) Write the name of one major state in South India where silk-textile industry is established. 1
- v) Write the name of the major dam situated in Uttarakhand state. 1

825(JD) - 4,48,000

8000/82

<https://www.upboardonline.com>

Whatsapp @ 9300930012

Send your old paper & get 10/-

अपने पुराने पेपर्स भेजे और 10 रुपये पायें,

Paytm or Google Pay से