

932

825(JG)

2018

सामाजिक विज्ञान

केवल प्रश्नपत्र

(ऐतिहासिक एवं सांस्कृतिक विरासत, पर्यावरणीय अध्ययन,  
नागरिक जीवन एवं आर्थिक विकास)

समय : तीन घण्टे 15 मिनट

पूर्णांक : 70

निर्देश – प्रारम्भ के 15 मिनट परीक्षार्थियों को प्रश्नपत्र पढ़ने के लिए  
निर्धारित हैं।

निर्देश :

- (i) यह प्रश्नपत्र दो खण्डों "क" एवं "ख" में विभाजित है। प्रत्येक खण्ड के सभी प्रश्न एक साथ हल करना आवश्यक है। प्रत्येक खण्ड का उत्तर नए पृष्ठ से प्रारम्भ किया जाए।
- (ii) प्रत्येक प्रश्न के लिए निर्धारित अंक उसके सम्मुख अंकित हैं।

825(JG)

1

(W-2)

P.

- (iii) प्रश्नपत्र में चार प्रकार के प्रश्न हैं - बहु-विकल्पीय, अति लघु-उत्तरीय, लघु-उत्तरीय व विस्तृत-उत्तरीय, जिनके सम्बन्ध में निर्देश उनके आरम्भ में दिए गए हैं।
- (iv) "क" तथा "ख" खण्डों हेतु दिए गए मानचित्रों को उत्तर-पुस्तिका में मजबूती के साथ संलग्न करना आवश्यक है।
- (v) दृष्टिबाधित परीक्षार्थियों के लिए मानचित्र-कार्य के स्थान पर अलग से खण्ड "क" में प्रश्न संख्या 14 तथा खण्ड "ख" में प्रश्न संख्या 28 के उत्तर लिखने के लिए दिए गए हैं।

#### खण्ड - "क"

#### (बहु-विकल्पीय प्रश्न)

निर्देश : निम्नलिखित प्रत्येक प्रश्न के लिए दिए गए चार विकल्पों में से सही उत्तर चुनकर अपनी उत्तर-पुस्तिका में लिखिए :

1. इंग्लैण्ड की गौरवपूर्ण क्रान्ति किस राजा के समय में हुई ? 1

(अ) जेम्स प्रथम                      (ब) जेम्स द्वितीय  
(स) चार्ल्स प्रथम                      (द) हेनरी द्वितीय
2. 'स्पिरिट ऑफ लॉज' नामक पुस्तक के लेखक कौन हैं ? 1

(अ) रूसो                                      (ब) लॉक  
(स) मॉन्टेस्क्यू                      (द) मैकियावली
3. विश्व मानव अधिकार दिवस कब मनाया जाता है ? 1

(अ) 5 सितम्बर                      (ब) 2 अक्टूबर  
(स) 10 दिसम्बर                      (द) 14 नवम्बर

4. फ्रांस की क्रान्ति का तात्कालिक कारण था : 1  
(अ) स्टेट्स जनरल का अधिवेशन  
(ब) दार्शनिकों की भूमिका  
(स) आर्थिक तंगी  
(द) सम्राट की निरंकुशता

5. गुट-निरपेक्ष आन्दोलन का सर्वप्रथम शिखर सम्मेलन किस नगर में हुआ था ? 1  
(अ) नई दिल्ली (ब) काहिरा  
(स) वेल्ग्रेड (द) जकार्ता

6. भारत के संघीय व्यवस्थापिका का नाम है : 1  
(अ) संसद (ब) लोकसभा  
(स) विधान मण्डल (द) राज्यसभा

(अति लघु-उत्तरीय प्रश्न)

7. भारत की विदेश नीति की कोई दो विशेषताएँ लिखिए। 1 + 1  
8. भारत के किन्हीं चार राज्यों के नाम लिखिए, जहाँ विधान परिषद् है।  $\frac{1}{2} + \frac{1}{2} + \frac{1}{2} + \frac{1}{2}$   
9. द्वितीय विश्व युद्ध के किन्हीं दो कारणों का उल्लेख कीजिए। 1 + 1

(लघु-उत्तरीय प्रश्न)

10. फ्रांस की क्रान्ति के दो प्रमुख परिणामों का उल्लेख कीजिए।  $1\frac{1}{2} + 1\frac{1}{2}$

अथवा

रूस की क्रान्ति के सामाजिक एवं आर्थिक कारण क्या थे ?

$1\frac{1}{2} + 1\frac{1}{2}$

11. विधान परिषद् के सदस्यों की योग्यताओं का संक्षेप में उल्लेख कीजिए। 3

अथवा

लोकसभा के किन्हीं तीन कार्यों का उल्लेख कीजिए। 1 + 1 + 1

(दीर्घ-उत्तरीय प्रश्न)

12. भारत के नागरिकों के मौलिक अधिकारों तथा राज्य के नीति निर्देशक तत्वों में अन्तर स्पष्ट कीजिए। 6

अथवा

राष्ट्र संघ की असफलता के कारणों का विवेचन कीजिये। 6

13. महात्मा गांधी द्वारा चलाये गए किन्हीं तीन आन्दोलनों का वर्णन कीजिए। 2 + 2 + 2

अथवा

राजा राममोहन राय कौन थे ? उन्हें आधुनिक भारत का जनक क्यों कहा जाता है ? 2 + 4

(मानचित्र सम्बन्धी प्रश्न)

निर्देश : निम्नलिखित स्थानों को भारत के रेखा मानचित्र में ⊙ चिह्न द्वारा नाम सहित दर्शाइये। सही नाम तथा सही अंकन के लिए  $\frac{1}{2} \cdot \frac{1}{2}$  अंक निर्धारित है।

14. (i) उत्तरप्रदेश का वह नगर जहाँ उच्च न्यायालय स्थित है।  $\frac{1}{2} + \frac{1}{2}$   
(ii) वह नगर जिसे गुलाबी शहर के नाम से जाना जाता है।  $\frac{1}{2} + \frac{1}{2}$   
(iii) वह स्थान जहाँ ख्वाजा मुइनुद्दीन चिश्ती की दरगाह स्थित है।  $\frac{1}{2} + \frac{1}{2}$   
(iv) वह स्थान जहाँ प्रसिद्ध सूर्य मन्दिर स्थित है।  $\frac{1}{2} + \frac{1}{2}$   
(v) वह नगर जहाँ रानी लक्ष्मीबाई शासन चलाती थी।  $\frac{1}{2} + \frac{1}{2}$

(केवल दृष्टिबाधित परीक्षार्थियों के लिए  
मानचित्र कार्य के विकल्प स्वरूप)

निर्देश : निम्नलिखित प्रश्नों के उत्तर अपनी उत्तर-पुस्तिका में लिखिए। मानचित्र का प्रयोग न कीजिए।

14. (i) उत्तरप्रदेश में उच्च न्यायालय किस नगर में है ? 1  
(ii) भारत के किस नगर को गुलाबी शहर के नाम से जाना जाता है ? 1  
(iii) ख्वाजा मुइनुद्दीन चिश्ती की दरगाह कहाँ स्थित है ? 1  
(iv) प्रसिद्ध सूर्य मन्दिर कहाँ स्थित है ? 1  
(v) रानी लक्ष्मीबाई किस नगर से शासन चलाती थी ? 1

खण्ड – “ख”

(बहुविकल्पीय प्रश्न)

निर्देश : निम्नलिखित विकल्पों में से सही उत्तर चुनकर अपनी उत्तर-पुस्तिका में लिखिए :

15. निम्नलिखित में से कौन राज्य म्यांमार की सीमा रेखा पर स्थित नहीं है ? 1

- (अ) नागालैण्ड (ब) मिजोरम  
(स) मेघालय (द) अरुणाचल प्रदेश

16. विकसित देश नहीं है : 1

- (अ) जापान (ब) चीन  
(स) संयुक्त राज्य अमेरिका (द) कनाडा

17. नवीनतम पर्वतश्रेणी है : 1  
(अ) नीलगिरि (ब) सतपुड़ा  
(स) शिवालिक (द) विन्ध्य की पहाड़ियाँ

18. सन् 2011 में भारत की जनसंख्या थी : 1  
(अ) 122.01 करोड़ (ब) 121.08 करोड़  
(स) 121.03 करोड़ (द) 123.01 करोड़

19. आर्थिक नियोजन का लक्ष्य है : 1  
(अ) प्रतिव्यक्ति आय में वृद्धि करना ।  
(ब) आर्थिक प्रतियोगिता में वृद्धि करना ।  
(स) जीवन प्रत्याशा में वृद्धि करना ।  
(द) संसाधनों का अधिकतम उपयोग करना ।

20. मैंगनीज़ आवश्यक है : 1  
(अ) ताँबा उद्योग के लिए  
(ब) लौह-इस्पात उद्योग के लिए  
(स) एल्युमिनियम उद्योग के लिए  
(द) इनमें से किसी के लिए नहीं

(अति लघु-उत्तरीय प्रश्न)

21. विकसित और विकासशील देशों के अन्तर को स्पष्ट कीजिए । 1 + 1

22. लगान को परिभाषित कीजिए । 2

23. विदेशी व्यापार से आप क्या समझते हैं ? 2

(लघु-उत्तरीय प्रश्न)

24. भारत को जनसंख्या के आधार पर बाँटिए और उनमें से किसी एक का वर्णन कीजिए।

1 + 1 + 1

अथवा

- भारत में जनसंख्या नियन्त्रण के तीन उपायों का उल्लेख कीजिए।

1 + 1 + 1

25. आर्थिक नियोजन के किन्हीं तीन महत्त्वों पर प्रकाश डालिए।

1 + 1 + 1

अथवा

- भारत में आयात एवं निर्यात की तीन-तीन वस्तुओं का उल्लेख कीजिए।

$\frac{1}{2} + \frac{1}{2} + \frac{1}{2} + \frac{1}{2} + \frac{1}{2} + \frac{1}{2}$

(दीर्घ-उत्तरीय प्रश्न)

26. गंगा के मैदानी भाग का वर्णन निम्नलिखित शीर्षकों में कीजिए :

2 + 2 + 2

- (अ) स्थिति एवं विस्तार  
(ब) उनकी सहायक नदियाँ  
(स) प्रमुख फसलें

अथवा

- भारत के पूर्वी तटीय भाग का वर्णन निम्नलिखित शीर्षकों में कीजिए :

2 + 2 + 2

- (अ) स्थिति एवं विस्तार  
(ब) प्राकृतिक स्वरूप  
(स) प्रमुख नगर

27 विनिमय को परिभाषित कीजिए और उसके विभिन्न प्रकारों का वर्णन कीजिए ।

2 + 2 + 2




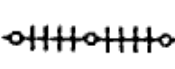

अथवा

बाजार से आप क्या समझते हैं ? बाजार के विभिन्न प्रकारों का वर्णन कीजिए ।

2 + 2 + 2

(मानचित्र कार्य)

निर्देश - भारत के दिये गये मानचित्र पर निम्नलिखित को दर्शाइए

28. (i) कावेरी नदी  चिह्न द्वारा नाम सहित ।  $\frac{1}{2} + \frac{1}{2}$
- (ii) चण्डीगढ़  चिह्न द्वारा नाम सहित ।  $\frac{1}{2} + \frac{1}{2}$
- (iii) एक कपास उत्पादक क्षेत्र  चिह्न द्वारा । 1
- (iv) पुणे से वाराणसी रेलमार्ग एक स्टेशन सहित  चिह्न द्वारा नाम सहित ।  $\frac{1}{2} + \frac{1}{2}$
- (v) एक खनिज तेल उत्पादक क्षेत्र  चिह्न द्वारा । 1

(केवल दृष्टिबाधित परीक्षार्थियों के लिए मानचित्र कार्य के विकल्प के रूप में)

निर्देश : निम्नलिखित प्रश्नों के उत्तर अपनी उत्तर-पुस्तिका में लिखिए । मानचित्र का प्रयोग मत कीजिए ।

28. (i) तामी नदी किस समुद्र में गिरती है ? 1
- (ii) रांची किस राज्य में स्थित है ? 1
- (iii) टीटागढ़ क्यों प्रसिद्ध है ? 1
- (iv) छत्तीसगढ़ की राजधानी का नाम लिखिए । 1
- (v) भारत के लौह-इस्पात उद्योग के एक केन्द्र का नाम लिखिए । 1